

令和 6 年度 学力 検査

C 社 会 (11 時 30 分～12 時 15 分, 45 分間)

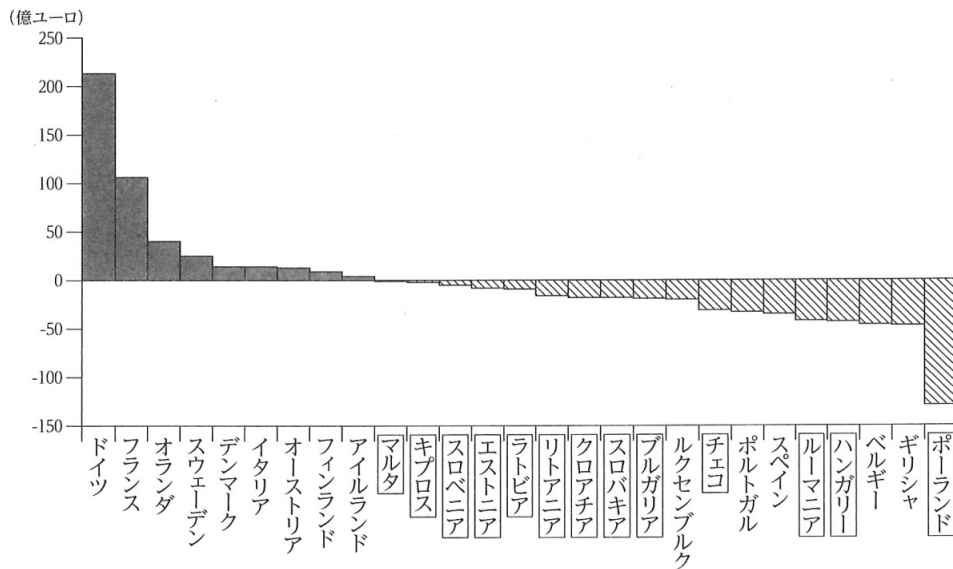
問 題 用 紙

注 意

1. 「開始」の合図^{あいず}があるまで開いてはいけません。
2. 答えは、すべて解答用紙に書きなさい。
3. 問題は、**1** から **5** までで、14 ページにわたって印刷してあります。
4. 「開始」の合図で、解答用紙の決められた欄^{らん}に受検番号を書きなさい。
5. 問題を読むとき、声を出してはいけません。
6. 漢字で書くように指示されている問いに「ひらがな」や「カタカナ」で解答した場合は減点となります。
7. 「終了」^{しゅうりょう}の合図で、すぐに筆記用具を置きなさい。

(4) 略地図に で示した国は、2021年時点のEU加盟国である。資料2は、EU加盟国における、EUへの^{きよしゆつ}拠出金からEUからの受取金を引いた金額を示したものであり、 で囲んだ国は、2004年以降に加盟した国を示している。また、資料3は、2003年以前にEUに加盟した国と2004年以降にEUに加盟した国について、一人あたりの国民総所得別の国の数を示したもので、資料4は、そうたさんとゆきこさんが、資料2、資料3をもとに話し合った内容の一部である。資料4の あ にあてはまる内容は何か、資料3から読み取り、書きなさい。

〈資料2〉 EUへの拠出金からEUからの受取金を引いた金額



[注：数値は2021年のもの。マルタ、キプロスの数値はそれぞれ、-1、-2である。]
(欧州委員会 Web ページから作成)

〈資料3〉 一人あたりの国民総所得別の国の数

	2003年以前に加盟した国	2004年以降に加盟した国
40,001 ドル以上	10 か国	0 か国
30,001 ~ 40,000 ドル	2 か国	1 か国
20,001 ~ 30,000 ドル	2 か国	7 か国
20,000 ドル以下	0 か国	5 か国

[注：数値は2021年のもの。2020年に^{りだつ}離脱したイギリスは含んでいない。]

(国際連合 Web ページから作成)

〈資料4〉

そうた：資料2を見ると、EU加盟国の中には、受取金より拠出金の方が多い国と、拠出金より受取金の方が多い国があるということがわかるね。

ゆきこ：そうだね。拠出金より受取金の方が多い国は、2004年以降に加盟した国が多いよ。

そうた：本当だね。資料3からは、2004年以降に加盟した国は、2003年以前に加盟した国に比べ、あ という傾向があることがわかるね。

ゆきこ：その通りだね。そのような、加盟国の間の経済格差は、EUが抱える課題の1つとなっているね。

次のページへ→

(5) 資料5は、略地図に示したアメリカの工業についてまとめたものの一部である。資料5の **I** にあてはまる言葉は何か、書きなさい。

〈資料5〉

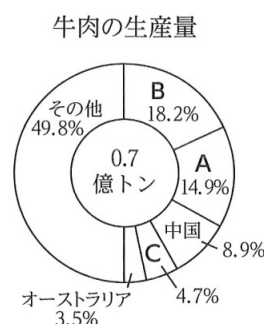

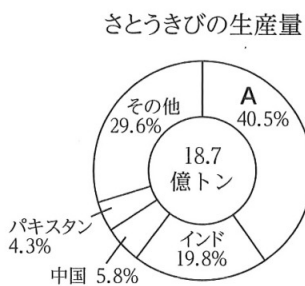
北緯 37 度付近から南の地域は、航空宇宙産業や ICT 産業などが発達し、温暖な気候であることから **I** とよばれる。なかでも、カリフォルニア州サンフランシスコ郊外のシリコンバレーには、ICT 関連企業が集中している。

(6) 略地図に示したコートジボワールについて述べた文はどれか、次のア～エから最も適切なものを1つ選び、その記号を書きなさい。

- ア. 1990 年代以降の急速な経済成長の結果、工業製品を世界各地に輸出する工業国となり、「世界の工場」とよばれるまでになった。
- イ. チョコレートの原料であるカカオの栽培に適した気候であり、カカオ豆の生産量は世界一である。
- ウ. 人口の約 80 % の人々がヒンドゥー教を信仰しており、国内を流れるガンジス川ではヒンドゥー教徒が沐浴を行っている。
- エ. 白豪主義とよばれる政策が 1970 年代に撤廃されて以降、ヨーロッパ以外からの移民を積極的に受け入れるようになった。

(7) 資料6は、さとうきび、とうもろこし、牛肉の、世界における生産量の国別割合を示したものであり、A～Cは、略地図に示したアメリカ、ブラジル、アルゼンチンのいずれかである。資料6のA～Cにあてはまる国の組み合わせはどれか、下のア～カから最も適切なものを1つ選び、その記号を書きなさい。

〈資料6〉



[注：数値は 2020 年のもの]
 (『世界国勢図会 2022/2023』から作成)

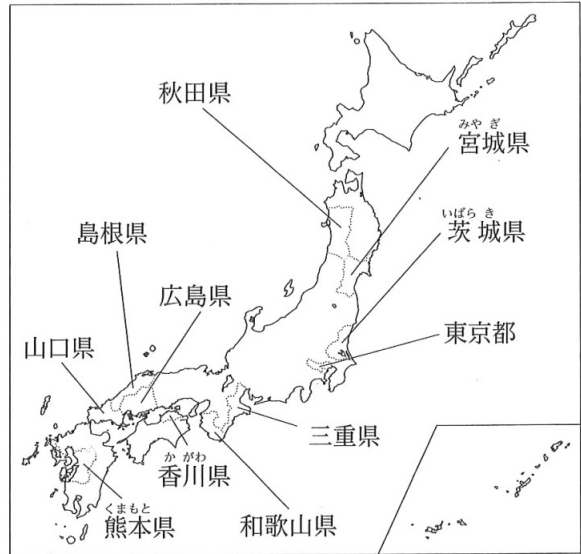
- ア. A－アメリカ B－ブラジル C－アルゼンチン
- イ. A－アメリカ B－アルゼンチン C－ブラジル
- ウ. A－ブラジル B－アメリカ C－アルゼンチン
- エ. A－ブラジル B－アルゼンチン C－アメリカ
- オ. A－アルゼンチン B－アメリカ C－ブラジル
- カ. A－アルゼンチン B－ブラジル C－アメリカ

2 次の略地図を見て、あとの各問いに答えなさい。(9点)

(1) 略地図に示した熊本県にあり、カルデラをもつ火山の名称は何か、次のア～エから最も適当なものを1つ選び、その記号を書きなさい。

- ア. 有珠山うすざん
- イ. 箱根山はこねやま
- ウ. 阿蘇山あそさん
- エ. 霧島山きりしまやま

〈略地図〉



(2) 資料1は、略地図に示した秋田県、宮城県、三重県、和歌山県における、農業産出額のうち、米と果実の産出額、漁業産出額を示したものである。資料1のaとcにあてはまる県名の組み合わせはどれか、次のア～カから最も適当なものを1つ選び、その記号を書きなさい。

〈資料1〉

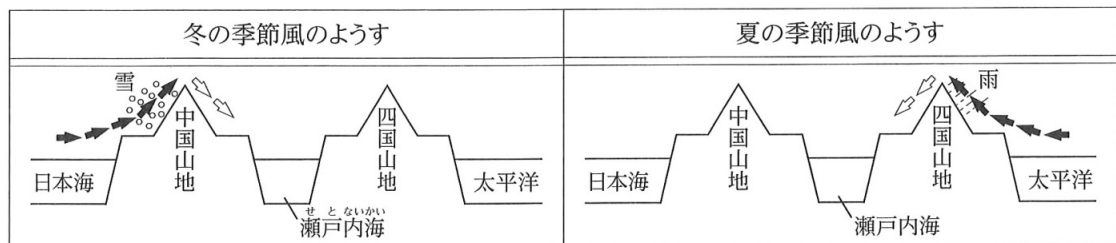
	農業産出額(億円)		漁業産出額(億円)
	米	果実	
a	795	30	718
b	1,078	89	27
c	78	759	127
d	270	70	361

[注：数値は2020年のもの]
 (『データでみる県勢2023』から作成)

- ア. a－秋田県 c－宮城県 イ. a－秋田県 c－和歌山県
- ウ. a－宮城県 c－三重県 エ. a－宮城県 c－和歌山県
- オ. a－和歌山県 c－三重県 カ. a－三重県 c－秋田県

(3) 略地図に示した香川県について、香川県の讃岐平野さぬきでは、降水量が少なく水不足になりやすいため、古くからため池や用水路が整備されてきた。あすかさんは、讃岐平野で降水量が少ない理由を説明するために、資料を作成した。資料2はその一部であり、中国・四国地方における、冬の季節風のようにと夏の季節風のようにを模式的に示したものである。讃岐平野で降水量が少ないのはなぜか、その理由の1つとして考えられることを、資料2から読み取れることをもとにして、「湿った風」、「山地」という2つの言葉を用いて、書きなさい。

〈資料2〉

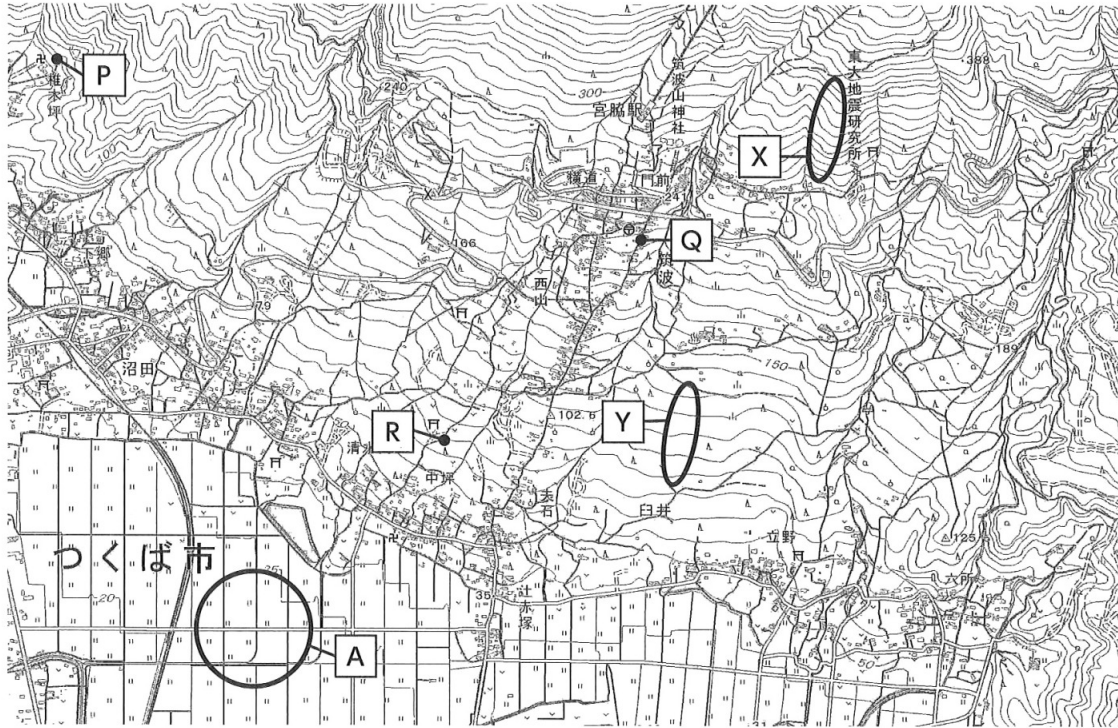


[注：➡は湿った風, ⇐は乾いた風を示す]

次のページへ→

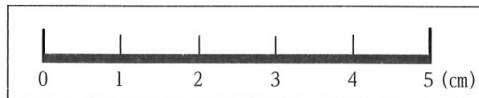
- (4) 略地図に示した茨城県について、資料3は、茨城県の一部を示した2万5千分の1の地形図である。また、資料4は、5cmの長さを示したものさしである。資料3から読み取れることを述べた文として正しいものはどれか、下のア～エから最も適当なものを1つ選び、その記号を書きなさい。

〈資料3〉



(国土地理院 電子地形図 25000 から作成)

〈資料4〉



- ア. ○ で囲んだ **A** の地域における主な土地利用は、畑である。
 イ. **P** 地点から、**Q** 地点までの実際の直線距離は3 km以上ある。
 ウ. **Q** 地点から見た、**R** 地点のおおよその方位は南東である。
 エ. ○ で囲んだ、**X** と **Y** の2か所の土地を比べると、**Y** の土地の方が傾斜が緩やかである。

- (5) 資料5は、略地図に示した広島県、山口県、島根県における、化学工業、鉄鋼業、輸送用機械工業の製造品出荷額を示したものである。資料5のⅠとⅢにあてはまる県名の組み合わせはどれか、次のア～カから最も適当なものを1つ選び、その記号を書きなさい。

〈資料5〉

	化学工業 (億円)	鉄鋼業 (億円)	輸送用 機械工業 (億円)
Ⅰ	333	1,675	839
Ⅱ	19,791	6,209	11,825
Ⅲ	4,348	11,893	32,663

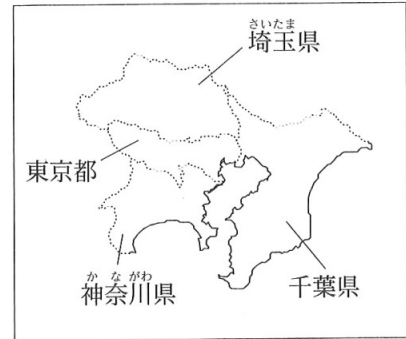
[注：数値は2019年のもの]

(『データでみる県勢 2023』から作成)

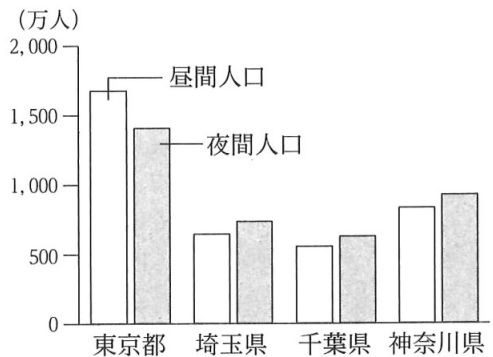
- ア. Ⅰ－広島県 Ⅲ－山口県 イ. Ⅰ－広島県 Ⅲ－島根県
 ウ. Ⅰ－山口県 Ⅲ－広島県 エ. Ⅰ－山口県 Ⅲ－島根県
 オ. Ⅰ－島根県 Ⅲ－広島県 カ. Ⅰ－島根県 Ⅲ－山口県

(6) 資料6は、略地図に示した東京都を含む、関東地方の一 (資料6)

部を示したものである。資料7は、資料6に示した東京都、埼玉県、千葉県、神奈川県における、昼間人口と夜間人口を示したもの、資料8は、東京都、埼玉県、千葉県、神奈川県における、事業所数と大学数を示したものである。資料7に示したように、東京都の昼間人口が夜間人口より多いのはなぜか、その理由の1つとして考えられることを、資料7、資料8から読み取れることをもとにして、「通勤」、「通学」という2つの言葉を用いて、書きなさい。



〈資料7〉



[注: 数値は2020年のもの]
〔『データでみる県勢2023』から作成〕

〈資料8〉

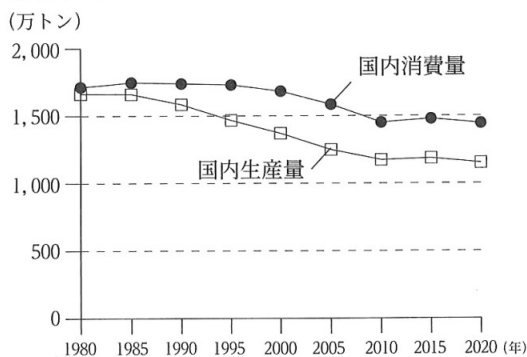
	事業所数	大学数
東京都	812,225	179
埼玉県	267,988	39
千葉県	215,071	35
神奈川県	344,198	45

[注: 数値は2021年のもの。大学数には短期大学数を含む。]

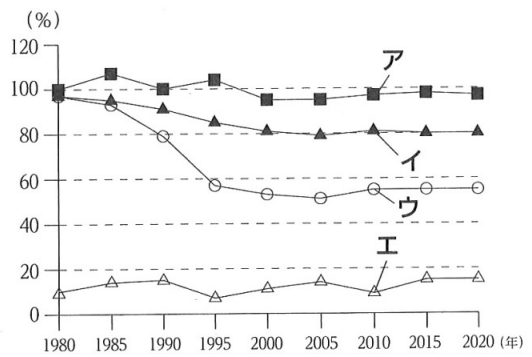
〔『データでみる県勢2023』から作成〕

(7) 資料9は、日本における、野菜の、国内消費量と国内生産量の推移を示したものである。また、資料10は、日本における品目別食料自給率の推移を示したものであり、ア～エは、米、小麦、野菜、魚介類のいずれかの食料自給率である。野菜の食料自給率はどれか、資料10のア～エから最も適当なものを1つ選び、その記号を書きなさい。

〈資料9〉



〈資料10〉



(資料9、資料10は、農林水産省 Web ページから作成)

次のページへ→

3

右の表は、ゆうきさんのクラスで歴史的分野の学習を行ったときに設定されたテーマを示したものである。これを見て、あとの各問いに答えなさい。(9点)

テーマ1	あすか 飛鳥文化
テーマ2	かまくら 鎌倉時代の仏教
テーマ3	むらまち 室町時代の人々の暮らし
テーマ4	外国船の出現と天保 <small>てんぽう</small> の改革
テーマ5	不平等条約改正の実現
テーマ6	ふつう 普通選挙の実現と社会運動の広まり
テーマ7	日本の高度経済成長

(1) テーマ1について、7世紀初めに聖徳太子しょうとくたいし(厩戸皇子うまやどのおうじ)が建てた寺院を何というか、次のア～エから最も適当なものを1つ選び、その記号を書きなさい。

[ア. 東大寺とうだいじ イ. 中尊寺ちゅうそんじ ウ. 法隆寺ほうりゅうじ エ. 延暦寺えんりゃくじ]

(2) テーマ2について、鎌倉時代の仏教に関するできごとについて述べた文はどれか、次のア～エから最も適当なものを1つ選び、その記号を書きなさい。

[ア. 空海くうかいが遣唐使けんとうしとともに唐にわたり、帰国して高野山こうやさんに金剛峯寺こんごうぶじを建て、真言宗しんごんしゅうを広めた。
イ. 栄西えいさいが座禅ざぜんによって自分の力でさとりを開く禅宗ぜんしゅうを宋から伝え、臨済宗りんざいしゅうを広めた。
ウ. 武士や農民たちが浄土真宗じょうどしんしゅう(一向宗いっこうしゅう)の信仰で結びつき、守護大名しゅごだいみょうに対抗した。
エ. 極楽浄土ごくらくじょうどに生まれ変わることを祈る浄土信仰じょうどのいのが広まり、平等院鳳凰堂びやうどういんほうおうどうがつくられた。]

(3) テーマ3について、資料1は、室町時代の村のようすについてまとめたものの一部である。□I□にあてはまる言葉はどれか、次のア～エから最も適当なものを1つ選び、その記号を書きなさい。

[ア. 惣そう イ. 座 ウ. 株仲間

〈資料1〉

村では、□I□とよばれる自治組織がつくられ、農業用水路の管理や森林の利用などについて村のおきてを定めたり、違反者いはんしやを罰ばつしたりした。

エ. 五人組]

(4) テーマ4について、資料2は、天保の改革についてまとめたものの一部である。資料2の下線部について、方針の転換とはどのようなことか、「異国船打払令いこくせんうちばらいれいをやめ、」で始めて、「燃料」、「水」という2つの言葉を用いて、書きなさい。

〈資料2〉

老中らうじゅうの水野忠邦みずのただくには、アヘン戦争しんで清がイギリスに敗北したことから、外国船への対応について、方針の転換てんかんを命じた。

(5) テーマ5について、資料3は、日本が幕末に結んだ不平等条約の改正についてまとめたものの一部、資料4は、明治以降のできごとを年代順に①～⑤の記号をつけて並べたものである。資料3で示したできごとが起こったのはどの時期か、次のア～エから最も適当なものを1つ選び、その記号を書きなさい。

〈資料3〉

外相の^{がいしやう}小村^{こむらじゆ}寿太郎^{たろう}は、アメリカと交渉^{かうしやう}し、関税自主権の完全な回復に成功した。

〈資料4〉

- ① ^{いわくら}岩倉使節団が欧米に派遣される。
- ② 大日本帝国憲法が^{ていこく}発布^{はつぷ}される。
- ③ 日清戦争が起こる。
- ④ 日露戦争が^{にちろ}起こる。
- ⑤ 日本が国際連盟に加盟する。

〔ア. ①と②の間 イ. ②と③の間 ウ. ③と④の間 エ. ④と⑤の間〕

(6) テーマ6について、資料5は、満25才以上の男子に選挙権^{あた}を与える普通選挙法と同年に制定された法律を要約したものの一部である。資料5に示した法律を何というか、その名称を書きなさい。

〈資料5〉

国の体制を変えようとしたり、私有財産制度を否定したりすることを目的として結社をつくる、またはこれに加入した者には、10年以下の懲役^{ちやうえき}、または禁固^{けいこ}の刑に処する。

(7) テーマ7について、日本の高度経済成長期に日本で起こったできごとについて述べた文として、誤っているものはどれか、次のア～エから1つ選び、その記号を書きなさい。

- ア. オリンピック東京大会に合わせて、東海道新幹線が開通した。
- イ. 公害問題が深刻化したことを受け、政府は公害対策基本法を制定した。
- ウ. 地価や株価が^{こうとう}高騰し、バブル経済とよばれる好景気となった。
- エ. テレビアニメ『鉄腕アトム』が初めて放送された。

次のページへ→

4

次の表は、みさきさんのクラスで歴史的分野を学習したときの内容をまとめたものの一部である。これを見て、あとの各問いに答えなさい。(9点)

① 古墳時代には王や豪族の墓として大きな古墳がつくられ、ヤマト王権(大和政権)が現れた。
② 十字軍の遠征をきっかけに、イスラム世界の学問や文化がヨーロッパに伝わった。
③ ヨーロッパの国々がアジアへの航路を開拓し、日本と貿易や交流を始めた。
④ 欧米諸国で市民革命が起こり、新しい政治のしくみがうまれた。
⑤ 1929年にアメリカで起こった恐慌は世界中に広がり、世界恐慌となった。
⑥ 1989年に米ソの首脳が地中海のマルタ島で会談し、冷戦の終結を宣言した。

(1) 下線部①について、資料1は、古墳時

代のようすについてまとめたもの的一部である。資料1の , にあてはまる言葉の組み合わせはどれか、次のア～エから最も適当なものを1つ選び、その記号を書きなさい。

〈資料1〉

古墳の頂上やまわりには が並べられた。また、5世紀には、ヤマト王権(大和政権)の王たちが、たびたび中国の に朝貢し、中国の の皇帝から政治的な力を認められた。

ア. - 埴輪 - 北朝
ウ. - 土偶 - 北朝

イ. - 埴輪 - 南朝
エ. - 土偶 - 南朝

(2) 下線部②について、資料2は、ヨーロッパの文化の変化についてまとめたもの一部である。資料2に示したような動きを何というか、その名称を書きなさい。

〈資料2〉

14世紀から16世紀のヨーロッパでは、イスラム文化や、古代ギリシャやローマの文化への関心が高まり、これまでのキリスト教の教えにとらわれない、自由でいきいきとした文化が生まれた。

(3) 下線部③について、次のa～dのカードは、16世紀から17世紀にかけての、日本と外国との貿易や交流に関するできごとを示したものである。a～dのカードを、書かれた内容の古いものから順に並べると、どのようになるか、下のア～エから最も適当なものを1つ選び、その記号を書きなさい。

a 海外渡航を許可する朱印状を発行された大名や大商人が、貿易を行った。

b 種子島に流れ着いたポルトガル人が、日本に鉄砲を伝えた。

c キリシタン大名が、ローマ教皇のもとに4人の少年使節を派遣した。

d オランダ商館が長崎の出島に移され、オランダ人は出島で貿易を許された。

[ア. a→b→c→d イ. a→b→d→c ウ. b→a→c→d エ. b→c→a→d]


(4) 下線部④について、資料3は、欧米諸国で起こったできごとをまとめたものの一部である。また、資料4は、資料3のいずれかのできごとがもたらした政治体制の変化について、まとめたもの一部である。資料4に示したような政治体制の変化は、資料3のどのできごとがもたらしたものが、資料3の**ア**～**エ**から最も適当なものを1つ選び、その記号を書きなさい。

〈資料3〉

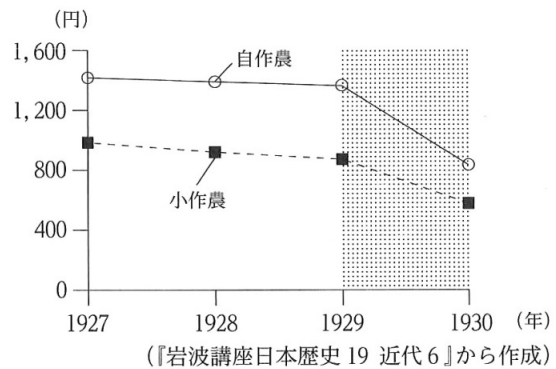
西暦	できごと	
1689年	イギリスで権利の章典(権利章典)が制定される	… ア
1775年	アメリカ独立戦争が起こる	… イ
1789年	フランス人権宣言が発表される	… ウ
1804年	ナポレオンがフランスの皇帝となる	… エ

〈資料4〉

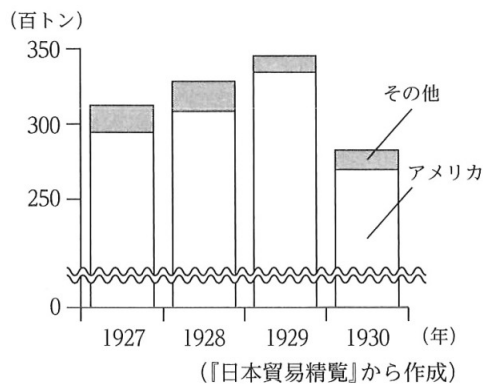
国王は議会の同意なしに、法律を停止したり、税を徴収したりすることができなくなった。

(5) 下線部⑤について、みさきさんは、世界恐慌が日本に与えた影響に関する資料を集めた。資料5、資料6、資料7はその一部である。日本の農家所得が、資料5の  で示した時期に減少したのはなぜか、その理由の1つとして考えられることを、資料6、資料7から読み取り、「アメリカとの貿易において、」で始めて、書きなさい。

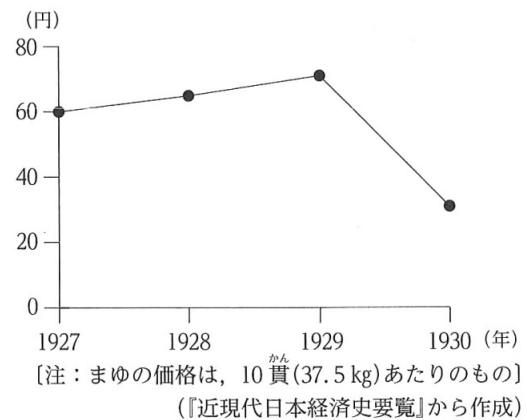
〈資料5〉 日本の農家所得の推移



〈資料6〉 日本の生糸輸出量と輸出相手国



〈資料7〉 日本のまゆの価格の推移



(6) 下線部⑥について、冷戦で対立した2つの陣営のうち、アメリカを中心とする資本主義陣営の国にあてはまる組み合わせはどれか、次の**ア**～**エ**から最も適当なものを1つ選び、その記号を書きなさい。

	ア	イ	ウ	エ
国	東ドイツ 大韓民国	東ドイツ 中華人民共和国	西ドイツ 大韓民国	西ドイツ 中華人民共和国

次のページへ→

5 次の表は、ひろとさんのクラスで行った公民的分野の学習において、班ごとに設定した学習課題をまとめたものである。これを見て、あとの各問いに答えなさい。(14点)

A班	日本国憲法は、どのような特徴をもつ憲法だろうか。
B班	人権が対立したときに、どのように調整すればよいのだろうか。
C班	裁判のしくみや裁判所のもつ役割は、どのようなものだろうか。
D班	住民の声を生かした政治を実現するために、どのような制度があるのだろうか。
E班	為替相場の ^{かわせ} 変化は、日本の経済にどのような影響を与えるのだろうか。
F班	経済を安定させるために、政府はどのような政策を行うのだろうか。
G班	社会保障と財政の関係は、国によってどのような ^{ちが} 違いがあるのだろうか。
H班	地球温暖化の対策として、どのような取り組みをしているのだろうか。

(1) A班の学習課題について、日本国憲法の3つの基本原理(基本原則)のうち2つは、基本的人権の尊重と、国民主権である。残りの1つは何か、その名称を漢字で書きなさい。

(2) B班の学習課題について、次の(a), (b)の各問いに答えなさい。

(a) 資料1は、B班が、人権が対立した事例

〈資料1〉

についてまとめたものの一部である。資料1の , にあてはまる言葉の組み合わせはどれか、次のア～エから最も適当なものを1つ選び、その記号を書きなさい。

タレントAの私生活の情報を記載した本が、タレントAの承諾なく、出版されることになった。タレントAは「 の侵害である」として、本の出版の差し止めを裁判所に求めた。これに対して出版社は、「本の出版は の自由である」と反論した。

- | | | |
|---|---|---|
| } | ア. <input type="text" value="I"/> - プライバシーの権利 | <input type="text" value="II"/> - 居住・移転 |
| | イ. <input type="text" value="I"/> - プライバシーの権利 | <input type="text" value="II"/> - 表現 |
| | ウ. <input type="text" value="I"/> - 知る権利 | <input type="text" value="II"/> - 居住・移転 |
| | エ. <input type="text" value="I"/> - 知る権利 | <input type="text" value="II"/> - 表現 |

(b) 資料2は、B班が、人権が制限される場

〈資料2〉

合についてまとめたものの一部である。資料2の にあてはまる言葉は何か、書きなさい。

日本国憲法では、国民は、自由および権利を「濫用してはならないのであって、常に のためにこれを利用する責任を負ふ」(第12条)と定められ、「」によって、人権が制限されることがある。

(3) C班の学習課題について、次の(a), (b)の各問いに答えなさい。

(a) 資料3は、裁判のしくみについてまとめ 資料3

たもの一部である。資料3の X ,
Y にあてはまる言葉の組み合わせはど
 れか、次のア～エから最も適当なものを1
 つ選び、その記号を書きなさい。

裁判は、多くの場合、地方裁判所、家庭
 裁判所、簡易裁判所のいずれかで第一審が
 行われ、第一審の判決が不服な場合は、第
 二審の裁判所に X し、さらにその判
 決にも従えなければ第三審の裁判所に
Y することができる。

- | | |
|--|--|
| ア. X - 控訴 Y - 上告 | イ. X - 控訴 Y - 尋問 |
| ウ. X - 起訴 Y - 上告 | エ. X - 起訴 Y - 尋問 |

(b) 資料4は、最高裁判所が出した判決内容をまとめたもの一部である。資料5は、資料4
 をもとに、C班が、裁判所のもつ役割について作成した発表原稿の一部である。資料5の
Z にあてはまる言葉は何か、下のア～エから最も適当なものを1つ選び、その記号を
 書きなさい。

〈資料4〉

	判決内容
薬事法距離制限 (1975年)	薬局を開く許可の条件として、他の薬局から一定以上離れていなければならないとする薬事法第6条は、職業選択の自由(憲法第22条)に違反している。
議員定数不均衡 (1976年)	衆議院議員選挙で、選挙区の間で1票の価値に大きな格差を生じさせている公職選挙法の規定は、選挙権の平等(憲法第14・44条)に違反しているが、選挙は無効としない。

〈資料5〉

裁判所は、Z を通じて、
 国の政治が憲法に基づいて行われ、
 人権が保障されることを見守る大
 切な役割を担っている。

- [ア. 閣議 イ. 弾劾裁判 ウ. 国民審査 エ. 違憲審査]

(4) D班の学習課題について、有権者数が60,000人の地方公共団体において、住民が条例制定
 を求めて直接請求権を行使する場合、必要な署名数と請求先の組み合わせはどれか、次のア
 ~エから最も適当なものを1つ選び、その記号を書きなさい。

- | | |
|---------------------|-------------|
| ア. 必要な署名数-1,200人以上 | 請求先-首長 |
| イ. 必要な署名数-1,200人以上 | 請求先-選挙管理委員会 |
| ウ. 必要な署名数-20,000人以上 | 請求先-首長 |
| エ. 必要な署名数-20,000人以上 | 請求先-選挙管理委員会 |

次のページへ→

- (5) E班の学習課題について、資料6は、てつやさんが、為替相場の変化が日本の経済に与える影響についてまとめたノートの一部である。資料6の **あ** にあてはまる数と、**う** にあてはまる言葉は何か、下のア～エから最も適当な組み合わせを1つ選び、その記号を書きなさい。

〈資料6〉

1ドル = 80円の時 <div style="border: 1px solid black; padding: 2px; margin-bottom: 5px;">日本</div> 自動車X 1台の価格：200万円	→ 日本からアメリカへの輸出	<div style="border: 1px solid black; padding: 2px; margin-bottom: 5px;">アメリカ</div> 自動車X 1台の価格： あ ドル
1ドル = 100円の時 <div style="border: 1px solid black; padding: 2px; margin-bottom: 5px;">日本</div> 自動車X 1台の価格：200万円	→ 日本からアメリカへの輸出	<div style="border: 1px solid black; padding: 2px; margin-bottom: 5px;">アメリカ</div> 自動車X 1台の価格：20,000ドル
1ドル = 125円の時 <div style="border: 1px solid black; padding: 2px; margin-bottom: 5px;">日本</div> 自動車X 1台の価格：200万円	→ 日本からアメリカへの輸出	<div style="border: 1px solid black; padding: 2px; margin-bottom: 5px;">アメリカ</div> 自動車X 1台の価格： い ドル

〈日本の経済に与える影響〉
う の方が、アメリカでの自動車Xの価格が高くなるので売れにくくなる。

- | | |
|--|--|
| ア. あ -25,000 う -円高
ウ. あ -16,000 う -円高 | イ. あ -25,000 う -円安
エ. あ -16,000 う -円安 |
|--|--|

- (6) F班の学習課題について、資料7は、F班が、政府の財政政策についてまとめたものの一部である。資料7の **a** , **b** にあてはまる言葉の組み合わせはどれか、次のア～エから最も適当なものを1つ選び、その記号を書きなさい。

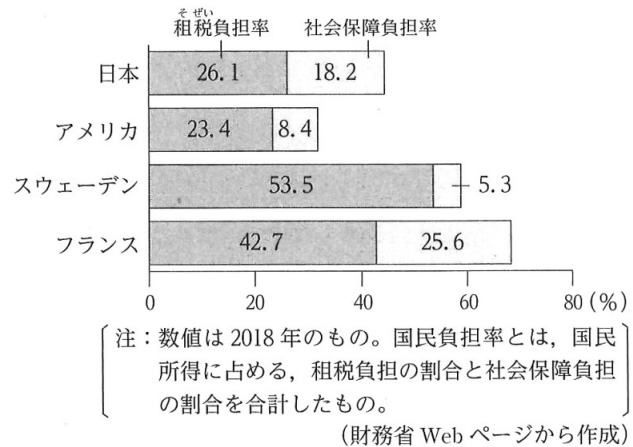
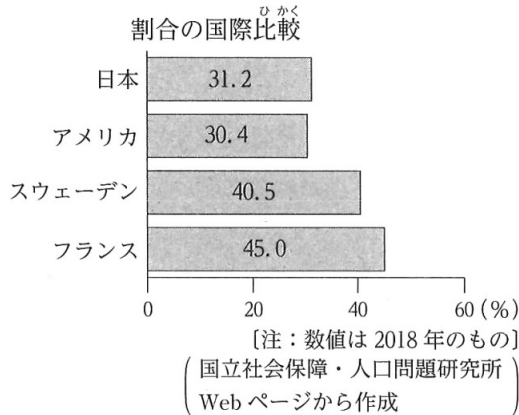
〈資料7〉

政府は、好景気の時に、公共事業を **a** たり、**b** をしたりして、景気をおさえようとする。

- | | |
|--|--|
| ア. a -増やし b -増税
ウ. a -減らし b -増税 | イ. a -増やし b -減税
エ. a -減らし b -減税 |
|--|--|

(7) G班の学習課題について、まさみさんは、社会保障と財政の関係について調べ、資料を集めた。資料8、資料9はその一部である。資料8、資料9から読み取れることを述べた文として正しいものはどれか、下のア～エから最も適当なものを1つ選び、その記号を書きなさい。

〈資料8〉 国民所得に占める社会保障支出の割合の国際比較 (資料9) 国民負担率の国際比較



- ア. 日本は、国民所得に占める社会保障支出の割合がスウェーデンより低く、国民負担率はスウェーデンより高い。
- イ. アメリカは、国民所得に占める社会保障支出の割合が4か国の中で最も低く、租税負担率と社会保障負担率はともに日本より高い。
- ウ. スウェーデンは、国民所得に占める社会保障支出の割合がフランスより低く、国民負担率はフランスより高い。
- エ. フランスは、4か国の中で、国民所得に占める社会保障支出の割合と国民負担率がともに最も高い。

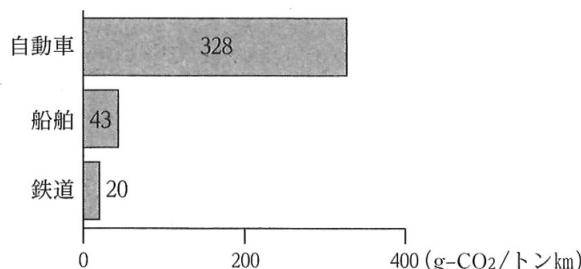
(8) H班の学習課題について、ひろとさんは、国土交通省が地球温暖化の対策として推進しているモーダルシフトに関する資料を集めた。資料10、資料11、資料12はその一部である。国土交通省が地球温暖化の対策としてモーダルシフトを推進しているのは、日本の国内貨物輸送がどのような状況であるからか、資料11、資料12から読み取り、書きなさい。

〈資料10〉 モーダルシフトについてまとめたものの一部

モーダルシフトとは、トラック等の自動車で行われている貨物輸送を、船舶や鉄道を利用した貨物輸送へと転換すること。国土交通省が地球温暖化の対策として推進している。

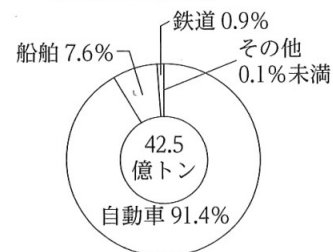
(国土交通省 Web ページから作成)

〈資料11〉 1トンの貨物を1km輸送したときの二酸化炭素の排出量



[注：数値は2021年の国内貨物輸送におけるもの]
(国土交通省 Web ページほかから作成)

〈資料12〉 国内貨物輸送量に占める輸送機関別割合



[注：数値は2021年のもの。四捨五入の関係から合計は100%にならない。]
(総務省 Web ページから作成)

—おわり—

受 検 番 号
番

得 点

1

(1)	(2)	(3)
(4)		
(5)		
(6)	(7)	

2

(1)	(2)	
(3)		
(4)	(5)	
(6)		
(7)		

3

(1)	(2)	(3)
(4)	異国船打払令をやめ、	
(5)		
(6)		
(7)		

4

(1)	
(2)	
(3)	
(4)	
(5)	アメリカとの貿易において、
(6)	

5

(1)	
(2)	(a) (b)
(3)	(a) (b)
(4)	
(5)	
(6)	(7)
(8)	

C (社会) 採点基準

「採点基準」で処理できない場合は、各校の統一見解で採点されたい。

問 題	配点	正 答 例	備 考	
1 9点	(1)	1点	エ	
	(2)	1点	d	
	(3)	1点	ア	
	(4)	2点	一人あたりの国民総所得が低い	* 同様の趣旨であればよい。 ・ 資料3から読み取り、資料4の あ にあてはまる内容を、適切に表現できていればよい。
	(5)	2点	サンベルト	
	(6)	1点	イ	
	(7)	1点	ウ	
2 9点	(1)	1点	ウ	
	(2)	1点	エ	
	(3)	2点	湿った風が山地にさえぎられるから。	* 同様の趣旨であればよい。 ・ 資料2から読み取れることをもとにして、「湿った風」、「山地」という2つの言葉を用いて、讃岐平野で降水量が少ない理由を、適切に表現できていればよい。
	(4)	1点	エ	
	(5)	1点	オ	
	(6)	2点	東京都に通勤、通学してくる人が多いから。	* 同様の趣旨であればよい。 ・ 資料7、資料8から読み取れることをもとにして、「通勤」、「通学」という2つの言葉を用いて、東京都の昼間人口が夜間人口より多い理由を、適切に表現できていればよい。
	(7)	1点	イ	
3 9点	(1)	1点	ウ	
	(2)	1点	イ	
	(3)	1点	ア	
	(4)	2点	異国船打払令をやめ、燃料や水を与えること。	* 同様の趣旨であればよい。 ・ 「燃料」、「水」という2つの言葉を用いて、方針の転換とはどのようなことかを、適切に表現できていればよい。
	(5)	1点	エ	
	(6)	2点	治安維持法	* ひらがな等での解答も可。
	(7)	1点	ウ	

4 9点	(1)	1点	イ		
	(2)	2点	ルネサンス	* 「文芸復興」も可。	
	(3)	2点	エ		
	(4)	1点	ア		
	(5)	2点	アメリカとの貿易において、生糸の輸出量が減り、まゆの価格が下がったから。	* 同様の趣旨であればよい。 ・ 資料6, 資料7から読み取り, 日本の農家所得が, 資料5で示した時期に減少した理由を, 適切に表現できていればよい。	
	(6)	1点	ウ		
5 14点	(1)	2点	平和主義	* ひらがな等での解答は1点減じる。	
	(2)	(a)	1点	イ	
		(b)	2点	公共の福祉	* ひらがな等での解答も可。
	(3)	(a)	1点	ア	
		(b)	1点	エ	
	(4)	1点	ア		
	(5)	2点	ア		
	(6)	1点	ウ		
	(7)	1点	エ		
(8)	2点	1トンの貨物を1km輸送したときの二酸化炭素の排出量の多い自動車は, 国内貨物輸送量に占める輸送機関別割合の多くを占めているから。	* 同様の趣旨であればよい。 ・ 資料11, 資料12から読み取り, 国土交通省が地球温暖化の対策としてモーダルシフトを推進しているのは, 日本の国内貨物輸送がどのような状況であるからかを, 適切に表現できていればよい。		
合計		50点			