

令和 5 年度 学力 検査

C 社 会 (11 時 30 分～12 時 15 分, 45 分間)

問 題 用 紙

注 意

1. 「開始」の合図<sup>あいず</sup>があるまで開いてはいけません。
2. 答えは、すべて解答用紙に書きなさい。
3. 問題は、**1** から **5** までで、14 ページにわたって印刷してあります。
4. 「開始」の合図で、解答用紙の決められた欄<sup>らん</sup>に受検番号を書きなさい。
5. 問題を読むとき、声を出してはいけません。
6. 漢字で書くように指示されている問いに「ひらがな」や「カタカナ」で解答した場合は減点となります。
7. 「終了」<sup>しゅうりょう</sup>の合図で、すぐに筆記用具を置きなさい。

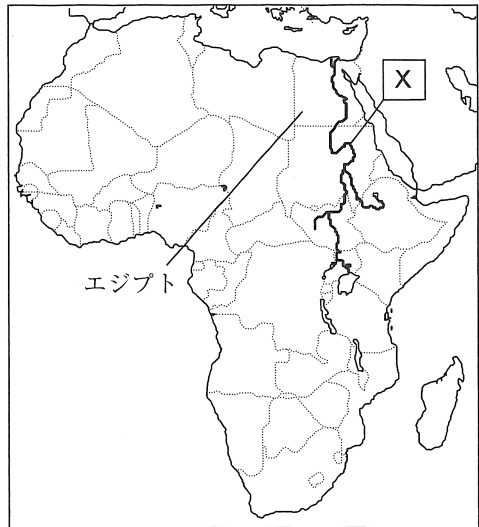
1 あとの各問いに答えなさい。(9点)

(1) 略地図1に示したアフリカ州について、次の(a)～(c)の各問いに答えなさい。

(a) 略地図1に **X** で示した川は世界最長であり、その流域では古代文明が栄えた。 **X** で示した川の名称は何か、次のア～エから最も適当なものを1つ選び、その記号を書きなさい。

- 〔ア. ナイル川      イ. インダス川〕  
〔ウ. ライン川      エ. アマゾン川〕

〈略地図1〉

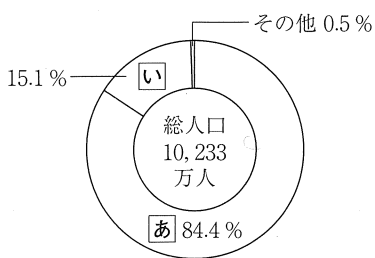


〔注：国境は一部省略〕

(b) 略地図1に示したアフリカ州には、緯線や経線を利用して引かれた、直線的な国境線が見られる。このように、直線的な国境線が見られるのはなぜか、その理由の1つとして考えられることを、「ヨーロッパ諸国」、「境界線」という2つの言葉を用いて、書きなさい。

(c) 資料1は、エジプトの総人口に占める宗教別人口の割合を示したものである。資料2のA、Bは、資料1の **あ**、**い** のいずれかの宗教について説明したものの一部である。資料1の **あ** にあてはまる宗教の名称と、その宗教の説明の組み合わせはどれか、下のア～エから最も適当なものを1つ選び、その記号を書きなさい。

〈資料1〉




〔『データブック オブ・ザ・ワールド 2022』から作成〕

〈資料2〉

A	日曜日になると多くの人々が教会へ礼拝に訪れる。食事の前に神への感謝のいのりをささげる人々もいる。
B	1日に5回、聖地に向かって礼拝を行ったり、約1か月の間、日中は飲食をしない断食を行ったりするなど、日常生活にかかわる細かい決まりがある。

- 〔ア. **あ** - イスラム教 宗教の説明 - A      イ. **あ** - キリスト教 宗教の説明 - A〕  
〔ウ. **あ** - イスラム教 宗教の説明 - B      エ. **あ** - キリスト教 宗教の説明 - B〕

(2) 略地図2に示したヨーロッパ州について、次の(a), (b)の各問いに答えなさい。

(a) 略地図2に  で示したあたりに見られる、氷河によってけずられた谷に海水が深く入りこんでできた地形を何というか、その名称を書きなさい。

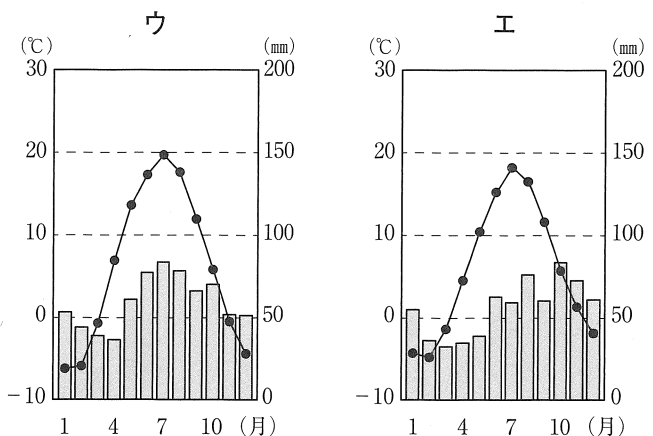
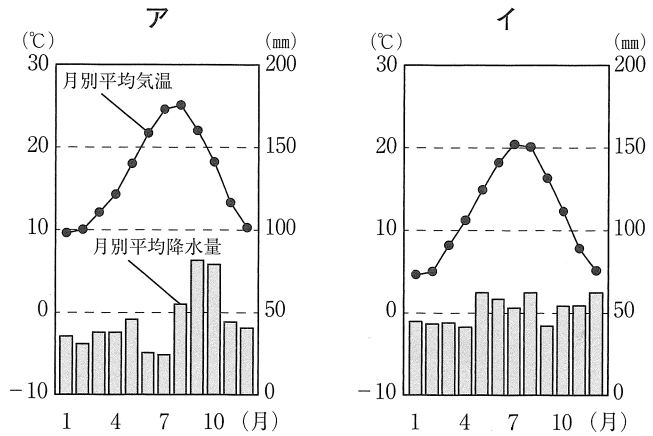
〈略地図2〉



〔注：国境は一部省略〕

(b) 資料3のア～エは、略地図2に示したa～dのいずれかの都市における雨温図である。略地図2にaで示した都市の雨温図はどれか、資料3のア～エから最も適当なものを1つ選び、その記号を書きなさい。

〈資料3〉



〔理科年表 2022〕から作成

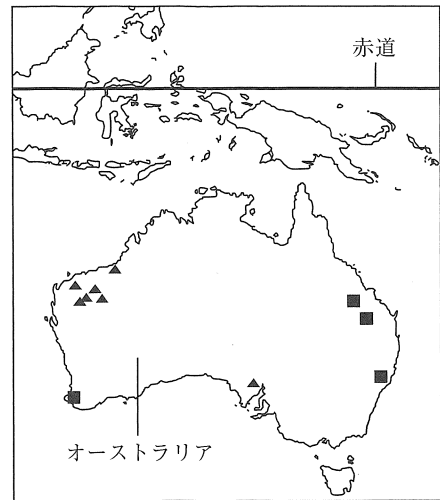
次のページへ→

(3) 略地図3に示したオーストラリアについて、次の

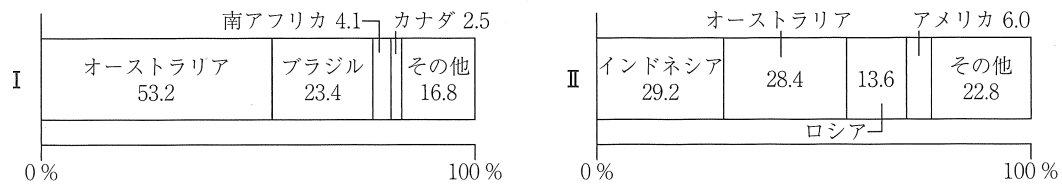
(a), (b)の各問いに答えなさい。

(a) 略地図3に示した■, ▲は、鉄鉱石、石炭のいずれかの、鉱産資源のおもな産地を示している。また、資料4のI, IIは、鉄鉱石、石炭のいずれかの、世界における輸出量の国別割合を示したものである。略地図3に示した■は、鉄鉱石、石炭のどちらのおもな産地を示しているか。また、略地図3に■で示した鉱産資源の、世界における輸出量の国別割合にあてはまるものは、資料4のI, IIのどちらか、下のア～エから最も適切な組み合わせを1つ選び、その記号を書きなさい。

〈略地図3〉



〈資料4〉 世界における輸出量の国別割合



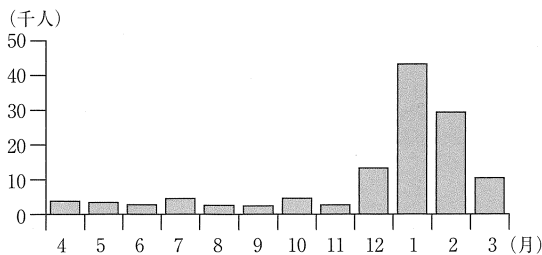
〔注：数値は2017年のもの〕  
 〔『世界国勢図会 2021/2022』ほかから作成〕

- 〔ア. ■ - 鉄鉱石    資料4 - I                    イ. ■ - 石炭    資料4 - I 〕  
 〔ウ. ■ - 鉄鉱石    資料4 - II                    エ. ■ - 石炭    資料4 - II 〕

(b) さちこさんは、オーストラリアからの観光客が冬の北海道に多く見られることに興味を持ち、資料を集めた。資料5は、2018年度における、オーストラリアから北海道を訪れた観光客の月別宿泊者数を示したものである。また、資料6は、さちこさんがオーストラリアから北海道を訪れる観光客について調べ、まとめたものの一部である。資料6の

**A** にあてはまる内容は何か、書きなさい。

〈資料5〉



〔注：数値は2018年度のもの〕  
 (北海道観光振興機構 Web ページから作成)

〈資料6〉

オーストラリアは、**A** に位置するため、日本と季節が逆になる。また、北海道では、パウダースノーとよばれる良質な雪でスキーやスノーボードを楽しむことができるので、オーストラリアからの観光客が冬の北海道に多く見られると考えられる。

2

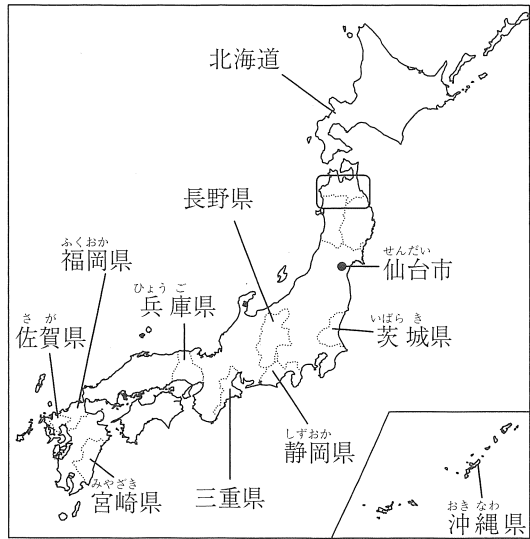
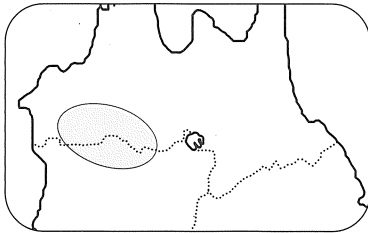
次の略地図を見て、あとの各問いに答えなさい。

〈略地図〉

(9点)

- (1) 資料1は、略地図に  で示した範囲の拡大図である。資料1に  で示したあたりに広がる自然環境について述べた文はどれか、下のア～エから最も適当なものを1つ選び、その記号を書きなさい。

〈資料1〉



- ア. 吉野<sup>よしの</sup>すぎなどの良質な樹木が育っている。  
 イ. 縄文<sup>じょうもん</sup>すぎをはじめとする貴重な自然が残っている。  
 ウ. 日本アルプスと呼ばれる、3000 m級の山脈がある。  
 エ. ブナの原生林が残る、白神<sup>しらかみさんち</sup>山地が広がっている。

- (2) 略地図に示した仙台市について、次の(a), (b)の各問いに答えなさい。

- (a) 仙台市のように、政府によって指定を受け、都道府県が担う業務の一部を分担する都市を何というか、その名称を漢字で書きなさい。

- (b) 資料2は、仙台市の一部を示した2万5千分の1の地形図である。まもるさんは、資料2に示した  P 地点から  Q 地点までの道のりを調べるために、 で経路を書きこみ、長さをはかると、4 cmであった。 で示した経路の実際の道のりと、 P 地点から見た  Q 地点のおおよその方位の組み合わせはどれか、次のア～エから最も適当なものを1つ選び、その記号を書きなさい。

〈資料2〉



(国土地理院 電子地形図 25000 から作成)

- ア. 道のり - 1000 m      方位 - 北西  
 イ. 道のり - 1000 m      方位 - 北東  
 ウ. 道のり - 2000 m      方位 - 北西  
 エ. 道のり - 2000 m      方位 - 北東

次のページへ→

(3) 資料3は、略地図に示した福岡県、佐賀県、宮崎県における、耕地面積に占める水田の割合、農業産出額のうち米と畜産の産出額、工業出荷額を示したものである。資料3のAとCにあてはまる県名の組み合わせはどれか、次のア～カから最も適当なものを1つ選び、その記号を書きなさい。

〈資料3〉

	耕地面積に占める水田の割合 (%)	農業産出額 (億円)		工業出荷額 (億円)
		米	畜産	
A	53.4	172	2,209	16,523
B	82.8	155	340	20,839
C	80.7	376	389	99,760

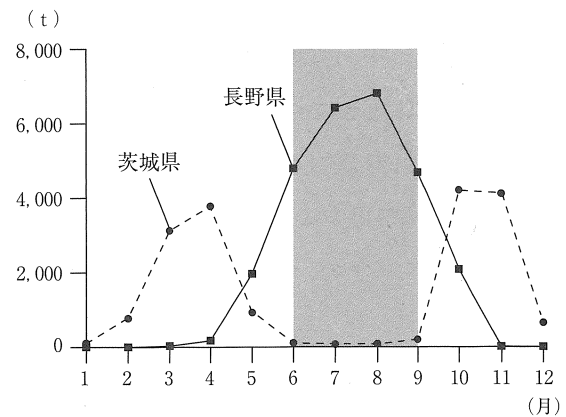
〔注：数値は2019年のもの。ただし、耕地面積に占める水田の割合は2021年のもの。〕

〔『データでみる県勢 2022』ほかから作成〕

- |            |         |            |         |
|------------|---------|------------|---------|
| ア. A - 福岡県 | C - 佐賀県 | イ. A - 福岡県 | C - 宮崎県 |
| ウ. A - 佐賀県 | C - 福岡県 | エ. A - 佐賀県 | C - 宮崎県 |
| オ. A - 宮崎県 | C - 福岡県 | カ. A - 宮崎県 | C - 佐賀県 |

(4) 略地図に示した長野県と茨城県について、資料4、資料5、資料6は、それぞれ、まもるさんが、レタスの生産と出荷に関して集めた資料の一部である。資料4の■で示した時期における、長野県産のレタスの、東京都中央卸売市場への月別出荷量には、どのような特徴があるか、資料4、資料5、資料6から読み取り、長野県の気候にふれて、書きなさい。

〈資料4〉 長野県産のレタスと、茨城県産のレタスの、東京都中央卸売市場への月別出荷量



〔注：長野県と茨城県は、東京都中央卸売市場への出荷量が多い上位1位と2位の県。数値は2021年のもの。〕

〔東京都中央卸売市場 Web ページから作成〕

〈資料5〉 レタスの生育についてまとめたものの一部

レタスの生育に適した気温は、15～20℃である。

〈資料6〉 レタスの生産がさかんである、長野県の南牧村(野辺山原)と茨城県の古河市の月別平均気温

	1月	2月	3月	4月	5月	6月	7月	8月	9月	10月	11月	12月
長野県南牧村(野辺山原)	-5.3	-4.5	-0.3	5.8	11.0	14.8	18.9	19.5	15.5	9.3	3.8	-1.9
茨城県古河市	3.6	4.6	8.2	13.5	18.4	21.8	25.6	26.8	23.0	17.2	11.0	5.8

〔注：単位は℃〕  
〔気象庁 Web ページから作成〕

- (5) 略地図に示した静岡県の工業について述べた文はどれか、次のア～エから最も適当なものを1つ選び、その記号を書きなさい。

- ア. 豊かな水を利用した製紙・パルプ工業がさかんで、パルプ・紙・紙加工品の出荷額は、全国1位である。
- イ. 金属加工の技術が発達し、ナイフやフォークなどの金属洋食器の出荷額は、全国1位である。
- ウ. 織物機械をつくる技術を土台にして自動車の生産が始まり、輸送用機械の出荷額は、全国1位である。
- エ. 明治時代に副業として眼鏡フレームづくりが始まり、眼鏡フレームの出荷額は、全国1位である。

- (6) 資料7は、略地図に示した北海道、三重県、兵庫県、沖縄県における産業別人口の割合と、人口を示したものである。北海道は、資料7のどれにあてはまるか、ア～エから最も適当なものを1つ選び、その記号を書きなさい。

〈資料7〉

	産業別人口の割合(%)			人口(千人)
	第一次産業	第二次産業	第三次産業	
ア	4.0	15.4	80.7	1,453
イ	1.9	25.0	73.0	5,466
ウ	6.1	17.4	76.5	5,250
エ	3.0	32.3	64.7	1,781

〔注：数値は2017年のもの。ただし、人口は2019年のもの。〕  
 (『データでみる県勢 2022』ほかから作成)

次のページへ→

3 右の表は、さとるさんのクラスで歴史的分野の学習を行ったときに設定されたテーマを示したものである。これを見て、あとの各問いに答えなさい。

(9点)

テーマ1	古代までの日本
テーマ2	撰閥政治
テーマ3	鎌倉時代の人々の暮らし
テーマ4	室町時代の産業の発達
テーマ5	立憲制国家の成立
テーマ6	大正デモクラシー

(1) テーマ1について、資料1は、1949年に群馬県の岩宿遺跡で発見された石器を示した写真である。資料1に示した石器の名称と、資料1の石器が発見されたことによって、日本にもあったことが明らかになった時代の組み合わせはどれか、次のア～エから最も適当なものを1つ選び、その記号を書きなさい。

打製石器  
の写真

- |               |          |
|---------------|----------|
| ア. 石器の名称－打製石器 | 時代－新石器時代 |
| イ. 石器の名称－打製石器 | 時代－旧石器時代 |
| ウ. 石器の名称－磨製石器 | 時代－新石器時代 |
| エ. 石器の名称－磨製石器 | 時代－旧石器時代 |

(2) テーマ2について、資料2は、撰閥政治が行われていたころに政治の実権をにぎっていた人物が、娘を天皇のきさきにした日によんだ歌を示したものである。資料2の歌をよんだ人物は誰か、次のア～エから最も適当なものを1つ選び、その記号を書きなさい。

〈資料2〉

この世をば  
わが世とぞ思う  
望月の欠けたることも  
無しと思えば

- [ア. 藤原鎌足      イ. 藤原純友      ウ. 藤原道長      エ. 藤原頼通]

(3) テーマ3について、資料3は、鎌倉時代に、紀伊国(和歌山県)にあった阿氏河荘の百姓たちが、荘園領主に提出した訴え状の要約の一部を示したものである。資料4は、資料3を見たさとるさんが、鎌倉時代の農民の暮らしについて調べ、まとめたものの一部である。資料3、資料4の [ I ] に共通してあてはまる言葉は何か、漢字で書きなさい。

〈資料3〉

阿氏河荘の百姓らが申し上げます。領家の寂楽寺に納める材木が遅れています。 [ I ] が、奉公のために上京するとか、近くで作業があると言っては村の人を責め使うので、暇がありません。

〈資料4〉

鎌倉時代の農民は、荘園領主に年貢を納めていたが、阿氏河荘のように、 [ I ] がおかれた荘園では、 [ I ] と荘園領主との二重の支配を受けていた。

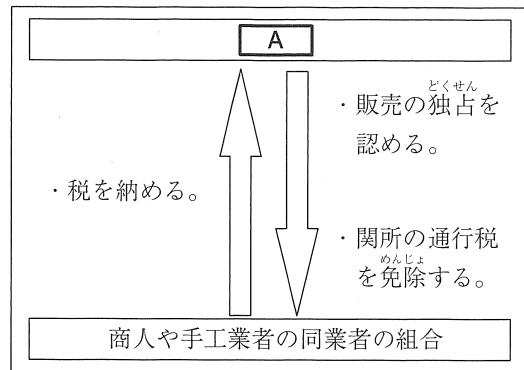


(4) テーマ4について、資料5は、室町時代における商工業のしくみについて模式的に示したものである。次の(a), (b)の各問いに答えなさい。

(a) 資料5の **A** にあてはまる言葉として誤っているものはどれか、次のア～エから1つ選び、その記号を書きなさい。

- 〔ア. 貴族           イ. 武士〕  
〔ウ. 寺社           エ. 庄屋〕

〈資料5〉



(b) 室町時代から安土桃山時代にかけて、商工業を発展させるために出された楽市令により、資料5の **A** が打撃を受けることになった理由は何か、その1つとして考えられることを、資料5から読み取り、楽市令の内容にふれて、書きなさい。

(5) テーマ5について、資料6は、大日本帝国憲法に定められた統治のしくみについてまとめたものの一部である。資料6の **X** , **Y** にあてはまる言葉の組み合わせはどれか、次のア～エから最も適当なものを1つ選び、その記号を書きなさい。

〈資料6〉

大日本帝国憲法では、帝国議会は、**X** と衆議院の二院制がとられ、**Y** は、天皇の政治を補佐する機関として位置づけられた。

- 〔ア. **X** - 参議院   **Y** - 太政官           イ. **X** - 参議院   **Y** - 内閣〕  
〔ウ. **X** - 貴族院   **Y** - 太政官           エ. **X** - 貴族院   **Y** - 内閣〕

(6) テーマ6について、護憲運動が起こるきっかけの1つとなったできごとはどれか、次のア～エから最も適当なものを1つ選び、その記号を書きなさい。

- 〔ア. 立憲政友会の内閣が倒され、藩閥や官僚に支持された、桂太郎内閣が成立した。〕  
〔イ. 閣僚のほとんどを立憲政友会の党員で組織する、原敬内閣が成立した。〕  
〔ウ. 加藤高明内閣のもとで、満25歳以上の男子に選挙権を与える普通選挙法が成立された。〕  
〔エ. 近衛文磨内閣のもとで、議会の承認なしに労働力や物資を動員する国家総動員法が制定された。〕

次のページへ→

4

次の表は、まさみさんのクラスで歴史的分野を学習したときの内容をまとめたものの一部である。これを見て、あとの各問いに答えなさい。(9点)

いなきく 稲作とともに、 <u>青銅器</u> や鉄器などの金属器も伝わった。 ①
あすか 飛鳥地方を中心に、日本で最初の <u>仏教文化</u> である飛鳥文化が栄えた。 ②
えど 江戸幕府は、 <u>長崎</u> に外国との交流の窓口を開き、交易を行った。 ③
産業革命の結果、強い工業力と軍事力をもった <u>欧米諸国</u> は、 <u>アジア</u> に支配の手をのばした。 ④
第一次世界大戦後の1919年に、 <u>パリ</u> で講和会議が開かれ、国際協調の動きが見られた。 ⑤
1973年の第四次中東戦争によって、 <u>世界や日本の経済</u> は大きな打撃を受けた。 ⑥

- (1) 下線部①について、資料1は、弥生時代に大陸から伝わった銅鐸を示し〈資料1〉  
た写真である。資料1で示した銅鐸は、おもにどのような目的で使用され  
た道具と考えられているか、次のア～エから最も適当なものを1つ選び、  
その記号を書きなさい。

銅鐸の  
写真

- 〔ア. 農作業の道具      イ. 祭りの道具〕  
〔ウ. 煮たきの道具      エ. 狩りの道具〕

- (2) 下線部②について、6世紀の半ばに日本に仏教を伝えたとされる国はどこか、次のア～エか  
ら最も適当なものを1つ選び、その記号を書きなさい。

- 〔ア. 百済      イ. 高句麗      ウ. 新羅      エ. 渤海〕

- (3) 下線部③について、次の(a), (b)の各問いに答えなさい。

- (a) 資料2は、江戸幕府の鎖国下の窓口の一部と      〈資料2〉

その相手国を示したものである。資料2の  
I, II にあてはまる言葉の組み合  
わせはどれか、次のア～エから最も適当なもの  
を1つ選び、その記号を書きなさい。

鎖国下の窓口	相手国
長崎	中国(清)・オランダ
薩摩藩	I
II	朝鮮

- 〔ア. I - 琉球王国      II - 松前藩      イ. I - ロシア      II - 松前藩〕  
〔ウ. I - 琉球王国      II - 対馬藩      エ. I - ロシア      II - 対馬藩〕

- (b) 江戸幕府の成立後、日本との国交が回復し、江戸幕府の将軍が代わるごとに日本に使節を  
派遣した国はどこか、次のア～エから最も適当なものを1つ選び、その記号を書きなさい。

- 〔ア. 中国(清)      イ. 朝鮮      ウ. 琉球王国      エ. ロシア〕

(4) 下線部④について、次の①～④のカードは、17世紀から19世紀にかけてインドとイギリスの間で起こったできごとを示したものである。①～④のカードを、書かれた内容の古いものから順に並べると、どのようになるか、下のア～エから最も適当なものを1つ選び、その記号を書きなさい。

①	産業革命後、イギリスは大量の綿織物をインドへ輸出した。	②	インドの綿織物業が衰退し、イギリスへの不満が高まりインド大反乱が起こった。
③	イギリスは東インド会社をつくり、インドから大量の綿織物を輸入した。	④	イギリス政府がインド全土を直接支配するようになった。

[ア. ①→③→④→②    イ. ①→④→②→③    ウ. ③→①→②→④    エ. ③→②→④→①]

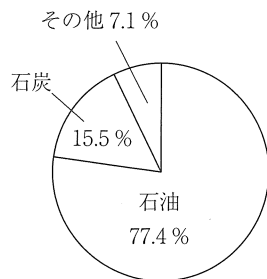
(5) 下線部⑤について、資料3は、パリで開かれた講和会議において結ばれた条約の内容を示したものの一部である。資料3に示した条約を何というか、その名称を書きなさい。

〈資料3〉

- ・ドイツにすべての植民地を放棄させる。
- ・国際連盟を設立する。

(6) 下線部⑥について、資料4は、1973年における日本のエネルギー資源の割合を示したものである。また、資料5は、1971年から1974年における原油の国際価格の推移を示したもの、資料6は、1971年から1974年における日本の消費者物価指数の推移を示したものである。日本の消費者物価指数が、資料6の■で示した時期に急上昇したのはなぜか、その理由の1つとして考えられることを、資料4、資料5から読み取り、「エネルギー資源」という言葉を用いて、書きなさい。

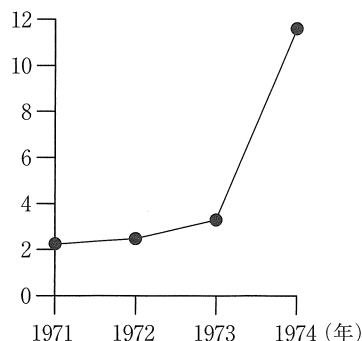
〈資料4〉



(『数字で見る日本の100年』から作成)

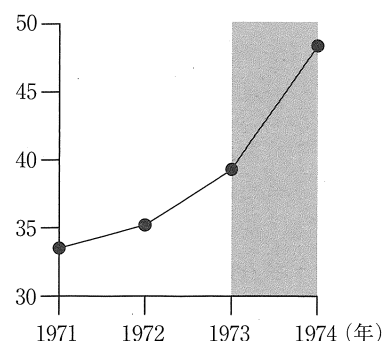
〈資料5〉

(ドル/バレル)



[注: 1バレル=約159リットル]  
(BP Web ページから作成)

〈資料6〉



[注: 2015年を100としたときの数値]  
(『数字で見る日本の100年』から作成)

次のページへ→

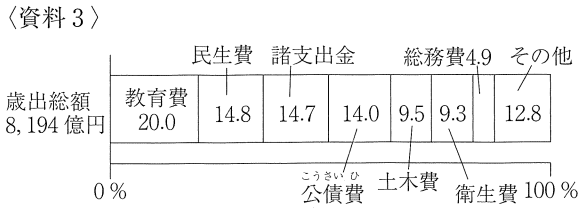
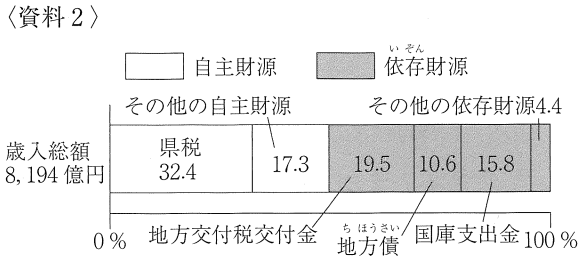
5 次の表は、あゆみさんのクラスで行った公民的分野の学習において、班ごとに設定した学習課題をまとめたものである。これを見て、あとの各問いに答えなさい。(14点)

A班	なぜ憲法は必要なのだろうか。
B班	地方公共団体は、どのようにして財源を確保しているのだろうか。
C班	私たちは、政治にどのように関わればよいのだろうか。
D班	市場経済において、価格はどのようにしてきまるのだろうか。
E班	物事を決定するとき、みんなが納得するためには何が必要なのだろうか。
F班	私たちの消費行動は、社会にどのような影響を与えるのだろうか。
G班	日本は、世界とどのような協力を行っているのだろうか。

(1) A班の学習課題について、資料1は、A班が、政治と憲法について調べ、まとめたもの的一部分である。資料1の **I** にあてはまる言葉はどれか、次のア～エから最も適切なものを1つ選び、その記号を書きなさい。  
 [ア. 拡大      イ. 集中      ウ. 制限      エ. 否定]

〈資料1〉  
 国の政治の基本的なあり方を定める法を憲法といいます。また、憲法によって、政治の権力を **I** し、人権を保障するという考え方を立憲主義といいます。

(2) B班の学習課題について、B班は、三重県の財政についてクラスで発表するために資料を集めた。資料2は、三重県の令和4年度予算の歳入とその内訳を示したもので、資料3は、三重県の令和4年度予算の歳出とその内訳を示したものである。また、資料4は、B班が資料2、資料3をもとに作成した発表原稿の一部である。資料4の **A** , **B** にあてはまる言葉の組み合わせはどれか、下のア～エから最も適切なものを1つ選び、その記号を書きなさい。



(資料2、資料3は、『令和4年度三重県版 ハロー・タックス』から作成)

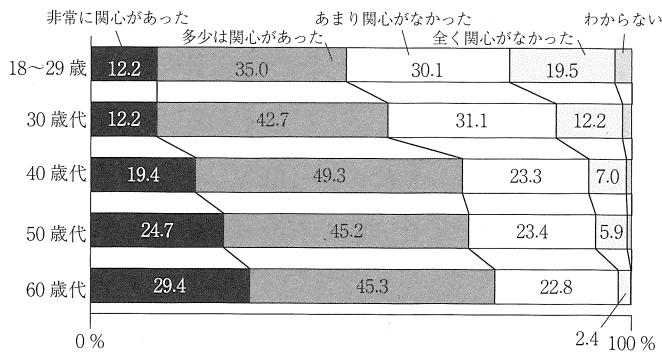
〈資料4〉  
 歳入のうち、依存財源は、50%を超えています。依存財源のうち、**A** は、使いみちが特定されていないものです。また、地方債は、地方公共団体が債券を発行して借りたお金のことです。  
 歳出のうち、**B** は、借りたお金を返すための費用です。地方債の発行が増えすぎると、地方公共団体は、収入のほとんどを **B** に使わなければならないと、住民の生活に必要な仕事ができなくなるおそれがあります。

- |    |          |            |          |       |
|----|----------|------------|----------|-------|
| ア. | <b>A</b> | - 国庫支出金    | <b>B</b> | - 民生費 |
| イ. | <b>A</b> | - 国庫支出金    | <b>B</b> | - 公債費 |
| ウ. | <b>A</b> | - 地方交付税交付金 | <b>B</b> | - 民生費 |
| エ. | <b>A</b> | - 地方交付税交付金 | <b>B</b> | - 公債費 |

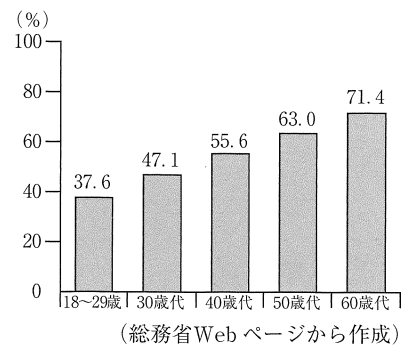
(3) C班の学習課題について、次の(a), (b)の各問いに答えなさい。

(a) 資料5は、令和3年10月31日に実施された第49回衆議院議員総選挙における、有権者の年代別選挙関心度を示したものの一部、資料6は、第49回衆議院議員総選挙における、年代別投票率を示したものの一部である。18～29歳の年代の選挙への関わり方にはどのような問題点が見られるか、資料5、資料6からそれぞれ読み取り、「他の年代と比べて、」で始めて、書きなさい。

〈資料5〉



〈資料6〉



(明るい選挙推進協会資料から作成)

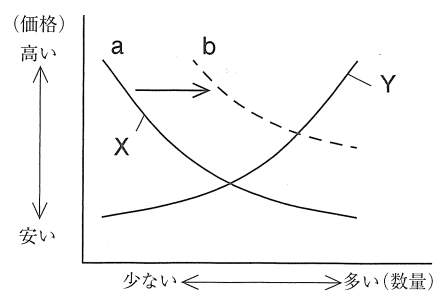
(b) 資料7は、C班が、住民の意見を政治に生かすためのある制度について調べたものの一部である。資料7に示した制度を何というか、その名称を書きなさい。

〈資料7〉

実施した地方公共団体	実施年	問われた内容
新潟県巻町 (現新潟市)	1996年	原子力発電所の建設
滋賀県米原町 (現米原市)	2002年	市町村合併
大阪府大阪市	2015年	特別区の導入 (大阪都構想)

(4) D班の学習課題について、資料8は、D班が、市場経済において、ある商品の価格と需要量および価格と供給量の関係が、状況により変化することを説明するために作成したものである。資料8の曲線X、曲線Yは、需要曲線、供給曲線のいずれかであり、2つの曲線が交わる点の価格は、この商品の均衡価格を示している。資料8の曲線Xについて、曲線Xが、aの位置からbの位置に移動したときの状況について、正しく述べたものはどれか、次のア～エから最も適当なものを1つ選び、その記号を書きなさい。

〈資料8〉



- ア. この商品より品質のよい別の商品が販売されたため、需要量が減り、価格が下がった。
- イ. この商品がテレビで紹介されて人気が出たため、需要量が増え、価格が上がった。
- ウ. この商品の原材料の調達が難しくなったため、供給量が減り、価格が上がった。
- エ. この商品の製造工場を拡張したため、供給量が増え、価格が下がった。

次のページへ→

- (5) E班の学習課題について、E班は、合唱コンクールで歌いたい曲について、クラスで行った投票結果をもとに考えた。資料9は、最も歌いたい曲だけに投票した結果を示したもの、資料10は、歌いたい曲に順位をつけて投票し集計した結果を示したものである。また、資料11は、はるみさんとひふみさんが、それぞれの投票の結果について、話し合った内容の一部である。これらを見て、次の(a)、(b)の各問いに答えなさい。

〈資料9〉 最も歌いたい曲だけに投票した結果

	結果
曲A	16票
曲B	11票
曲C	8票

〈資料10〉 歌いたい曲に順位をつけて投票し集計した結果

	1位(3点)	2位(2点)	3位(1点)	合計
曲A	16人	5人	14人	72点
曲B	11人	17人	7人	74点
曲C	8人	13人	14人	64点

[注：1位が3点、2位が2点、3位が1点として集計]

〈資料11〉

はるみ：最も歌いたい曲だけに投票した結果を見ると、曲Aが一番人気があるね。  
 ひふみ：でも、最も歌いたい曲を、曲Aに投票した人よりも、曲A以外に投票した人の方が多いね。  
 この結果から曲Aに決定することは、の考え方から、良い方法だといえるかな。  
 はるみ：歌いたい曲に順位をつけて投票し集計すると、結果が変わるね。曲を決定する前に、みんな  
 でよく話し合うことが大切だね。  
 ひふみ：意見の対立を解消し、をめざす努力をすることが大切だね。

- (a) 資料11の  ,  にあてはまる言葉の組み合わせはどれか、次のア～エから最も適当なものを1つ選び、その記号を書きなさい。

〔ア.  - 効率     - 合意    イ.  - 効率     - 共生〕  
 〔ウ.  - 公正     - 合意    エ.  - 公正     - 共生〕

- (b) ひふみさんは、資料9の投票結果で曲Aに決定した場合、曲Bと曲Cに投票された票は、以前に学習した、選挙における死票にあたるのではないかと考え、公民的分野のノートを見直した。資料12は、ひふみさんの公民的分野のノートの一部である。資料12の  にあてはまる選挙制度はどれか、下のア～エから最も適当なものを1つ選び、その記号を書きなさい。

〈資料12〉

選挙制度	特徴	課題
<input type="text" value="X"/>	最も多くの票を集めた政党が、多数の議席を得るため、政権が安定する。	死票が多い。
<input type="text" value="Y"/> <input type="text" value="Z"/>	死票が少ない。	得票の少ない政党も議席を得やすくなるため、政権が安定しない。

〔ア. 大選挙区制    イ. 小選挙区制    ウ. 議院内閣制    エ. 比例代表制〕

- (6) F班の学習課題について、資料13は、F班が、商品<sup>せんたく</sup>選択のめやすとなるマークについて調べ、まとめたものの一部である。また、資料14は、資料13をもとに、F班が、私たちの消費行動が与える影響について、持続可能性の観点から話し合い、意見をまとめたもの的一部分である。資料14の a にあてはまる内容は何か、その1つとして考えられることを、「生産者」という言葉を用いて、書きなさい。

〈資料13〉

<p>このマークは、国際フェアトレード<sup>にんしょう</sup>認証ラベルを示したもので、発展途上で生産された農産物や製品を適正な価格で継続的に取り引きしている商品に付けられます。</p>	<p>国際フェア トレード 認証ラベル</p>
---	---------------------------------

〈資料14〉

<p>私たちの消費行動は、持続可能な社会の実現に影響を与えます。だから、私たちが、国際フェアトレード<sup>こうにゆう</sup>認証ラベルのついた商品を選んで購入することで、<span style="border: 1px solid black; padding: 2px;">a</span> ことができます。</p>
---

- (7) G班の学習課題について、G班では、政府開発<sup>えんじょ</sup>援助(O DA)について調べ、資料を集めた。資料15は、政府開発援助についてまとめたもの的一部分、資料16は、先進国(29か国)における政府開発援助額の順位を示したもの、資料17は、日本の政府開発援助額と日本の国民総所得(GNI)を示したものである。日本の政府開発援助額には、どのような特徴があるか、資料15、資料16、資料17から読み取れることにふれて、書きなさい。

〈資料15〉

<p>政府開発援助とは、先進国(29か国)の政府が、発展途上国の経済や福祉<sup>ふくし</sup>の向上のために、さまざまな技術の協力や資金の援助を行うことです。国際連合は、先進国の政府開発援助の目標額を、国民総所得の0.7%としています。</p>
--

〈資料16〉

順位	国名
1	アメリカ
2	ドイツ
3	イギリス
4	日本
5	フランス
6	スウェーデン
7	オランダ
8	カナダ
9	イタリア
10	ノルウェー
	その他 19 か国

〈資料17〉

<p>日本の政府開発援助額 163 億ドル</p>
<p>日本の国民総所得 51,564 億ドル</p>

〔注：数値は2020年のもの〕  
(資料15、資料16、資料17は、外務省 Web ページから作成)

—おわり—

受 検 番 号
番

得 点

1

(a)	
(1)	(b)
(c)	
(2)	(a)
	(b)
(3)	(a)
	(b)

2

(1)	
(2)	(a)
	(b)
(3)	
(4)	
(5)	(6)

3

(1)		(2)	
(3)			
	(a)		
(4)	(b)		
(5)		(6)	

4

(1)		(2)	
(3)	(a)		(b)
(4)			
(5)			条約
(6)			

5

(1)		(2)	
(3)			他の年代と比べて、
	(a)		
(4)	(b)		
(5)	(a)		(b)
(6)			
(7)			



## C (社会) 採点基準

「採点基準」で処理できない場合は、各校の統一見解で採点されたい。

問 題	配点	正 答 例	備 考	
<b>1</b> 9点	(1)	(a) 1点	ア	
		(b) 2点	ヨーロッパ諸国が植民地にした際の境界線を、国境線として使っているから。	* 同様の趣旨であればよい。 ・ 「ヨーロッパ諸国」、「境界線」という2つの言葉を用いて、直線的な国境線が見られる理由を、適切に表現できていればよい。
		(c) 1点	ウ	
	(2)	(a) 1点	フィヨルド	
		(b) 1点	イ	
	(3)	(a) 1点	エ	
		(b) 2点	(例1) 赤道より南 (例2) 南半球	* 同様の趣旨であればよい。
	<b>2</b> 9点	(1)	1点	エ
(2)		(a) 2点	政令指定 <b>都市</b>	* ひらがな等での解答は1点減じる。
		(b) 1点	イ	
(3)		1点	オ	
(4)		2点	(例1) 6月から9月に、レタスの生育に適した気温となり、出荷量が多くなっているという特徴。 (例2) 夏でもすずしい気候を生かして、茨城県産のレタスの出荷量が少ない時期に多く出荷している。	* 同様の趣旨であればよい。 ・ 資料4、資料5、資料6から読み取り、資料4で示した時期における、長野県産のレタスの、東京都中央卸売市場への月別出荷量の特徴を、長野県の気候にふれて、適切に表現できていればよい。
(5)		1点	ア	
(6)	1点	ウ		
<b>3</b> 9点	(1)	1点	イ	
	(2)	1点	ウ	
	(3)	2点	地頭	* ひらがな等での解答は1点減じる。
	(4)	(a) 1点	エ	
		(b) 2点	座が廃止されたことにより、税が入らなくなったから。	* 同様の趣旨であればよい。 ・ 資料5から読み取り、資料5の <b>A</b> が打撃を受けることになった理由を、楽市令の内容にふれて、適切に表現できていればよい。
	(5)	1点	エ	
(6)	1点	ア		

4	(1)	1点	イ		
	(2)	1点	ア		
	(3)	(a)	1点	ウ	
		(b)	1点	イ	
	(4)	1点	ウ		
	(5)	2点	ベルサイユ <b>条約</b>		
	(6)	2点	日本のエネルギー資源の大半を占める石油の価格が上昇したから。	<ul style="list-style-type: none"> <li>* 同様の趣旨であればよい。</li> <li>・ 資料4, 資料5から読み取り, 「エネルギー資源」という言葉を用いて, 資料6で示した時期に, 日本の消費者物価指数が急上昇した理由を, 適切に表現できていればよい。</li> </ul>	
5	(1)	1点	ウ		
	(2)	1点	エ		
	(3)	(a)	2点	<b>他の年代と比べて,</b> 選挙に関心がない人が多く, 投票率が低い。	<ul style="list-style-type: none"> <li>* 同様の趣旨であればよい。</li> <li>・ 資料5, 資料6からそれぞれ読み取り, 18~29歳の年代の選挙への関わり方の問題点について, 適切に表現できていればよい。</li> </ul>
		(b)	2点	住民投票	* ひらがな等での解答も可。
	(4)	2点	イ		
	(5)	(a)	1点	ウ	
		(b)	1点	イ	
	(6)	2点	発展途上国の生産者を支援する	* 同様の趣旨であればよい。	
	(7)	2点	(例1) 政府開発援助額は上位(第四位)だが, 国際連合の目標額より少ない。 (例2) 政府開発援助額は上位(第四位)だが, 国民総所得の0.7%に達していない。	<ul style="list-style-type: none"> <li>* 同様の趣旨であればよい。</li> <li>・ 資料15, 資料16, 資料17から読み取れることにふれて, 日本の政府開発援助額に見られる特徴を, 適切に表現できていればよい。</li> </ul>	
合計	50点				