

令和 3 年度学力検査

C 社 会 (11 時 30 分～12 時 15 分, 45 分間)

問 題 用 紙

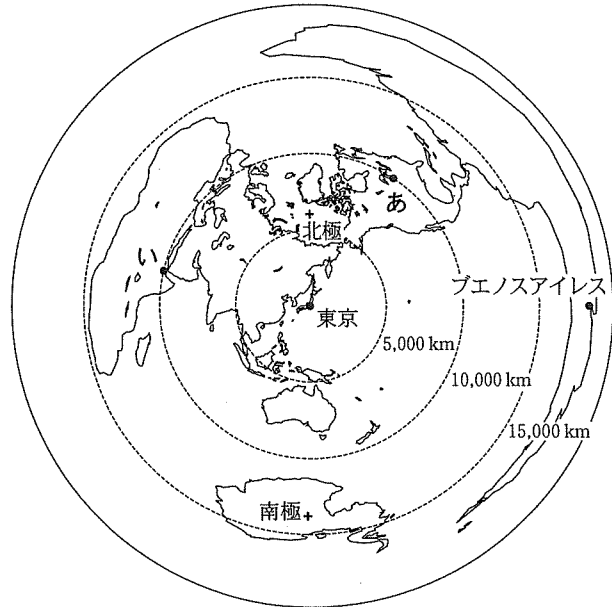
注 意

1. 「開始」の合図^{あいず}があるまで開いてはいけません。
2. 答えは、すべて解答用紙に書きなさい。
3. 問題は、**1** から **5** までで、13 ページにわたって印刷してあります。
4. 「開始」の合図で、解答用紙の決められた欄^{らん}に受検番号を書きなさい。
5. 問題を読むとき、声を出してはいけません。
6. 漢字で書くように指示されている問いに「ひらがな」や「カタカナ」で解答した場合は減点となります。
7. 「終了」^{しゅうりょう}の合図で、すぐに筆記用具を置きなさい。

1 あとの各問いに答えなさい。(9点)

(1) 資料1は、東京を中心とした、中心からの距離と方位が正しい地図である。資料1から読み取れることを正しく述べたものはどれか、次のア～エから最も適当なものを1つ選び、その記号を書きなさい。

〈資料1〉



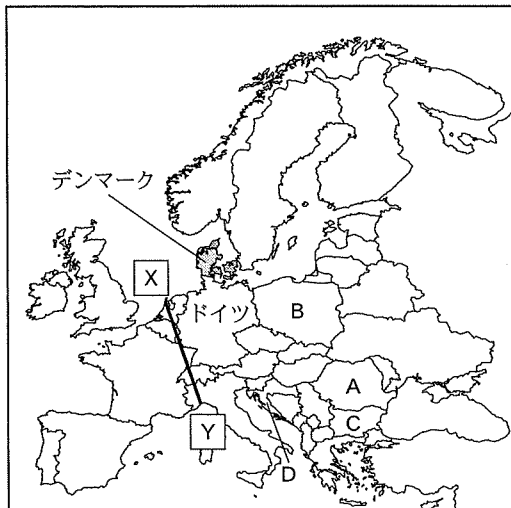
- ア. あの都市といの都市は、同じ緯度に位置している。
- イ. 赤道から離れるほど、実際の面積より大きくなっている。
- ウ. 北極から南極までの距離は、約25,000 km ある。
- エ. 東京から東へ向かうと、最短距離でブエノスアイレスに着く。

(2) 略地図1に示したヨーロッパ州について、次の

〈略地図1〉

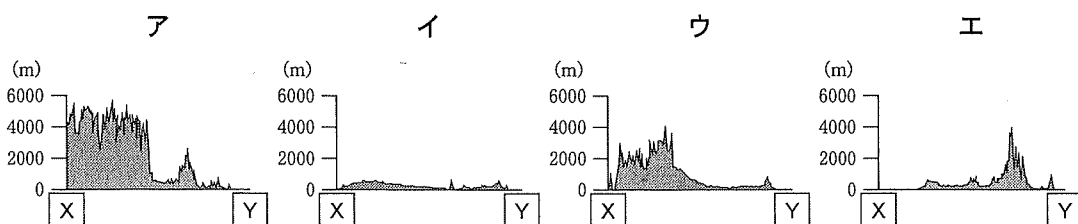
(a)～(c)の各問いに答えなさい。

(a) デンマークでよく見られる、乳牛を飼い、バターやチーズを生産する農業を何というか、次のア～エから最も適当なものを1つ選び、その記号を書きなさい。



- ア. 遊牧
- イ. 混合農業
- ウ. 酪農
- エ. 地中海式農業

(b) 略地図1に示した X - Y 間の断面図はどれか、次のア～エから最も適当なものを1つ選び、その記号を書きなさい。



(c) 資料2は、略地図1にA～Dで示し

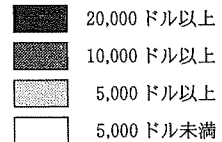
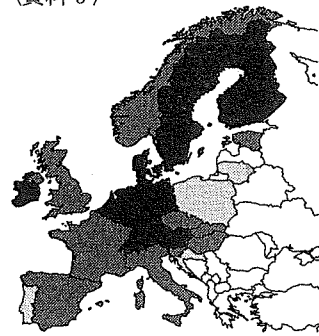
たそれぞれの国からドイツへの移住者数を示したもの、また、資料3は、各国の1人あたりの工業出荷額を示したものである。資料2に示した国からドイツへ移住するのはなぜか、その理由の1つとして考えられることを、資料3から読み取れることにふれて、「仕事」という言葉を用いて、書きなさい。

〈資料2〉

	ドイツへの移住者数(万人)
A	25.2
B	14.4
C	8.6
D	5.8

〔注：数値は2018年のもの〕
(International Migration Outlook から作成)

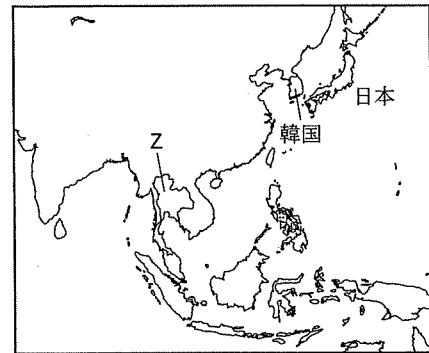
〈資料3〉




〔注：数値は2017年のもの〕
(『世界国勢図会 2019/20』ほかから作成)

(3) 略地図2に示したアジア州について、次の(a), (b)の各問いに答えなさい。

(a) 資料4は、世界の宗教別人口の割合を示したものである。Zの国名と、Zの国で最も信仰されている宗教の組み合わせはどれか、次のア～カから最も適当なものを1つ選び、その記号を書きなさい。



〈資料4〉

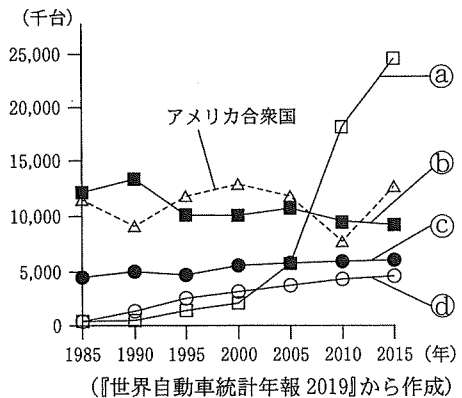


(World Almanac 2018 から作成)

- ア. 国名－インドネシア 宗教－I
- イ. 国名－インドネシア 宗教－III
- ウ. 国名－タイ 宗教－II
- エ. 国名－タイ 宗教－III
- オ. 国名－フィリピン 宗教－I
- カ. 国名－フィリピン 宗教－II

(b) 資料5は、世界のおもな自動車生産国における生産台数を示したものであり、㉔～㉖は、日本、中国、韓国、ドイツのいずれかである。日本と韓国の組み合わせはどれか、次のア～エから最も適当なものを1つ選び、その記号を書きなさい。

〈資料5〉



(『世界自動車統計年報 2019』から作成)

- ア. 日本－㉔ 韓国－㉔
- イ. 日本－㉔ 韓国－㉖
- ウ. 日本－㉖ 韓国－㉔
- エ. 日本－㉖ 韓国－㉖

次のページへ→

2 あとの各問いに答えなさい。(9点)

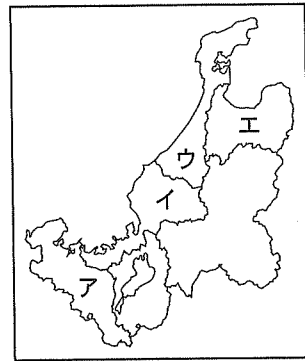
- (1) 資料1は、地場産業として眼鏡関連の工業が盛んな鯖江市さばえにおける眼鏡の組み立て作業の写真である。鯖江市について、次の(a)~(c)の各問いに答えなさい。

〈資料1〉



- (a) 略地図1は、中部地方ちゅうぶと近畿地方きんきの一部を示したものである。鯖江市が属する府県はどれか、略地図1のア~エから最も適当なものを1つ選び、その記号を書きなさい。

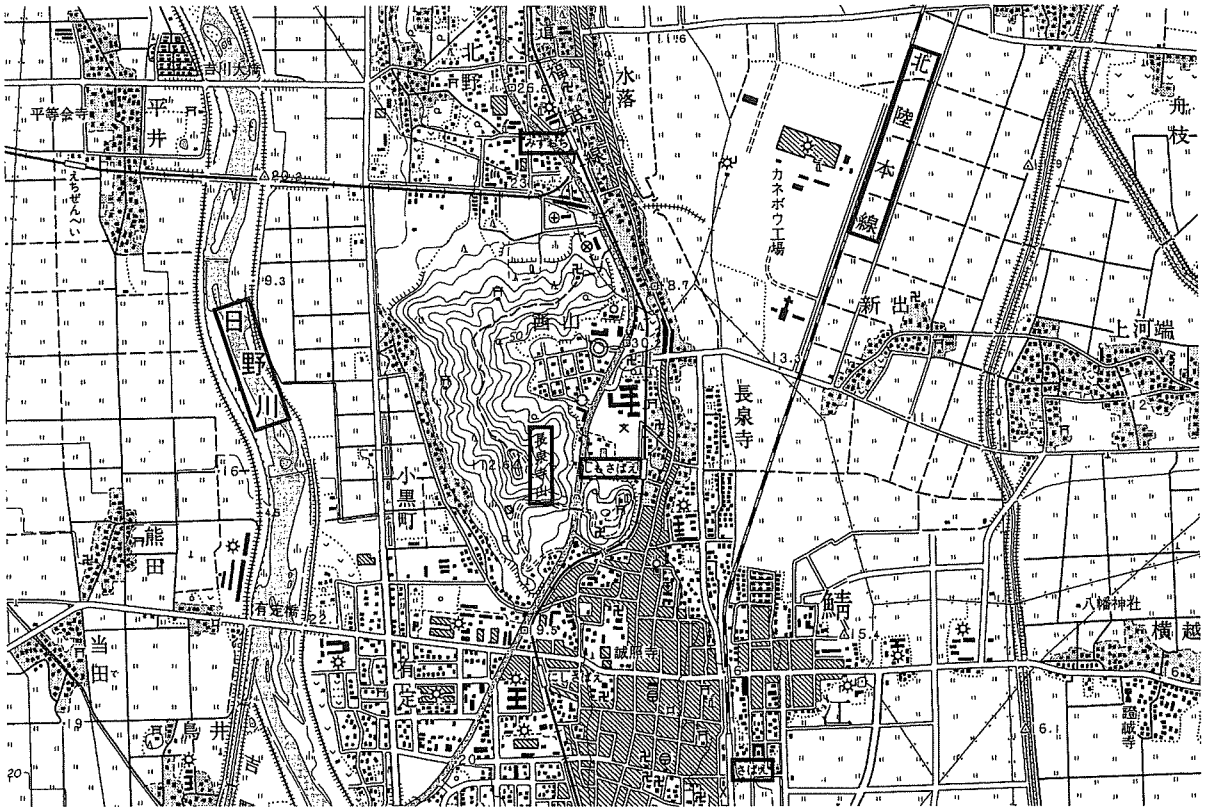
〈略地図1〉



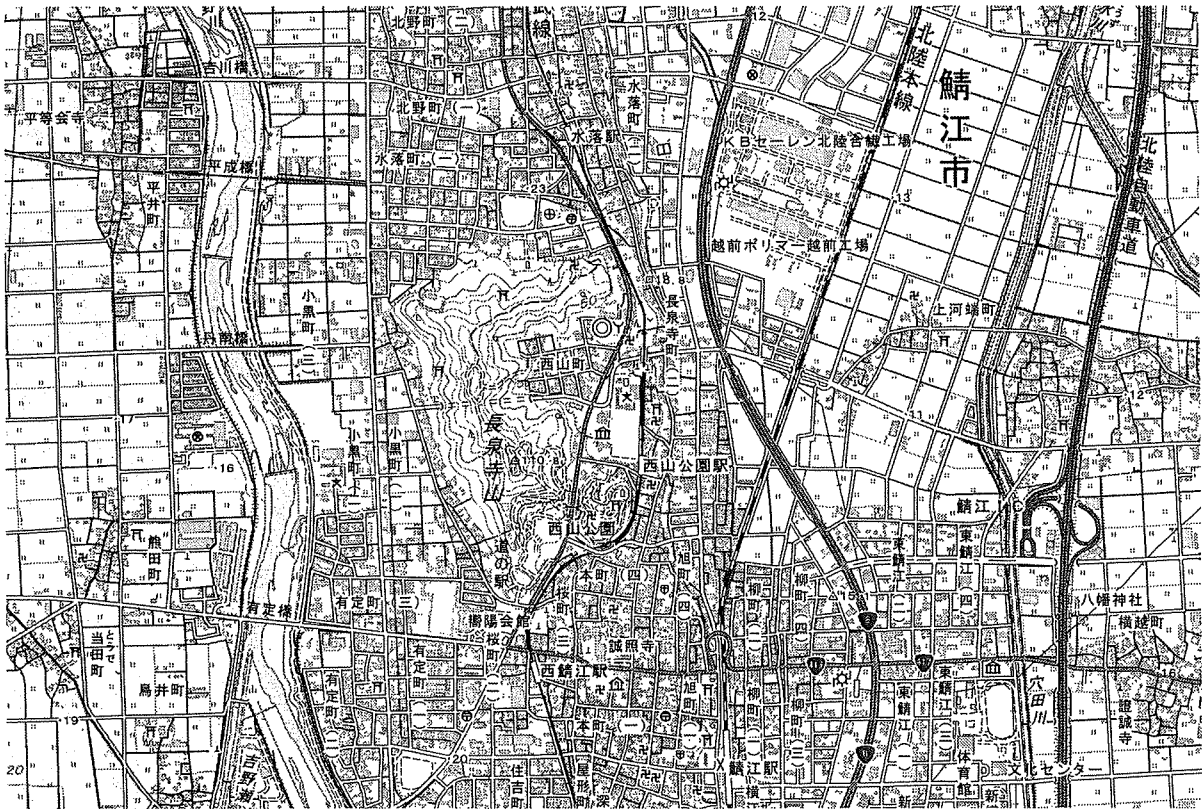
- (b) 資料2は、1975年と2018年における、鯖江市内の長泉寺山ちようせんじ付近の一部を示した2万5千分の1地形図である。1975年と2018年の地形図を比べて、変化したことは何か、資料2から読み取れる内容としてあてはまるものを、次のア~カから2つ選び、その記号を書きなさい。

- ア. みずおち(水落)駅ぶんきから分岐する鉄道路線がなくなった。
イ. 長泉寺山の山頂の標高ひょうこうが約2m高くなった。
ウ. 北陸本線をまたぐ形で、北陸自動車道が建設された。
エ. 日野川にかかっていた有定橋ありさだがなくなり、平成橋へいせいと丹南橋たんなんがかけられた。
オ. しもさばえ駅は西山公園駅にしやまこうえんに名前が変わり、駅の近くにあった博物館がなくなった。
カ. さばえ(鯖江)駅の東側に広がっていた水田が、住宅地になった。

(資料 2)
(1975 年)



(2018 年)



(国土地理院 2万5千分の1地形図「鯖江」(昭和50年,平成30年発行)から作成)

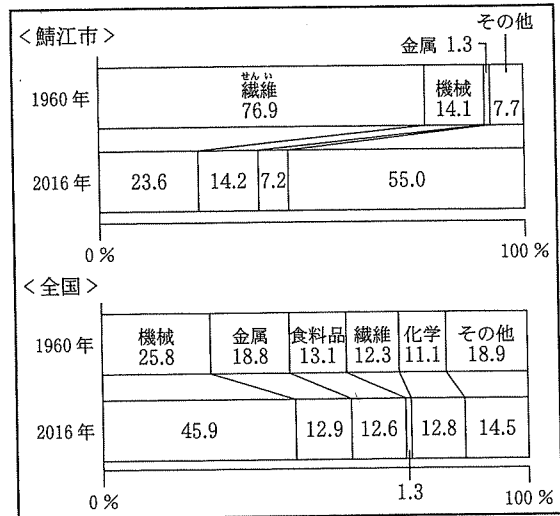
次のページへ→

(c) 資料3は、鯖江市と全国における工業出荷額の割合、資料4は、鯖江市と全国における工業出荷額の総額をそれぞれ示したものである。資料3、資料4から読み取れることとして誤っているものはどれか、下のア～エから1つ選び、その記号を書きなさい。

〈資料4〉 工業出荷額の総額

	1960年	2016年	1960年から2016年までの伸び率
鯖江市 (眼鏡関連)	70億円 (9億円)	1808億円 (606億円)	25.8倍
全国	15.6兆円	302兆円	19.4倍

〈資料3〉 工業出荷額の割合



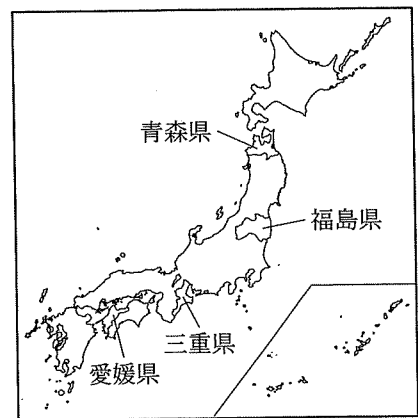
(資料3、資料4は、「工業統計調査」ほかから作成)

- ア. 鯖江市では、2016年は1960年と比べて、金属工業の割合が5倍以上になり、繊維工業の割合が半分以下になった。
- イ. 全国では、2016年は1960年と比べて、機械工業の出荷額は15倍以上になった。
- ウ. 全国では、2016年は1960年と比べて、金属工業や繊維工業の割合は低下し、化学工業や食料品工業の割合は増加した。
- エ. 1960年から2016年までの工業出荷額の伸び率において、鯖江市が全国を上回ったおもな要因は、眼鏡関連の工業が伸びたからである。

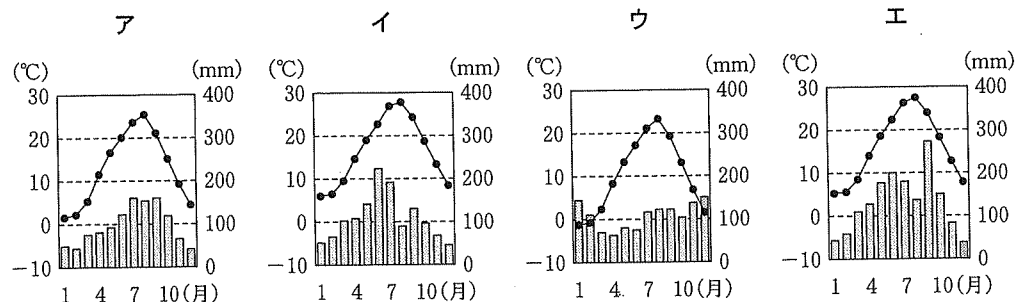
(2) 略地図2に示した青森県、福島県、三重県、愛媛県について、次の(a)、(b)の各問いに答えなさい。

(a) 資料5のア～エは、それぞれの県庁所在地における雨温図を示したものである。三重県にあてはまるものはどれか、最も適当なものを1つ選び、その記号を書きなさい。

〈略地図2〉



〈資料5〉



(『理科年表2020』から作成)

(b) 資料6は、それぞれの県における、米、野菜、果実の (資料6)

産出額を示したものである。資料6のAとCにあてはまる県名の組み合わせはどれか、次のア～カから最も適当なものを1つ選び、その記号を書きなさい。

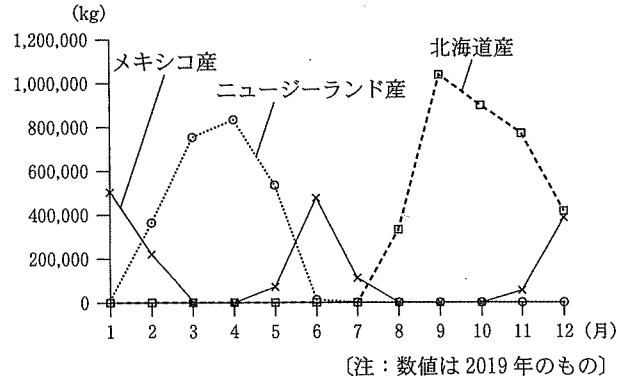
- | | |
|----------|-------|
| ア. A－青森県 | C－三重県 |
| イ. A－青森県 | C－愛媛県 |
| ウ. A－福島県 | C－青森県 |
| エ. A－福島県 | C－愛媛県 |
| オ. A－愛媛県 | C－青森県 |
| カ. A－愛媛県 | C－三重県 |

	米 (億円)	野菜 (億円)	果実 (億円)
A	513	780	790
B	747	458	250
C	164	206	537
D	275	141	67

〔注：数値は2017年のもの〕
〔『データでみる県勢 2020』から作成〕

(3) 資料7は、名古屋市中央卸売市場に (資料7)

おける、かぼちゃの取扱量上位3産地からの入荷時期と入荷量を示したものであり、資料8は、かぼちゃの取り引き価格を示したものである。メキシコ産のかぼちゃは、ニュージーランド産、北海道産と比べて、どのような時期に入荷し、どのような価格で取り引きされているか、資料7、資料8から読み取り、書きなさい。



(資料8)

	取り引き価格 (1kgあたり)
メキシコ産	1月…164円, 6月…147円
ニュージーランド産	3月…108円, 4月…126円
北海道産	9月…138円, 10月…141円

〔注：数値は2019年のもの〕
(資料7、資料8は、名古屋市 Web ページから作成)

次のページへ→

- 3 右の表は、たくやさんの学級で歴史的分野の学習を行ったときに設定されたテーマを示したものである。これを見て、あとの各問いに答えなさい。(9点)

テーマ1	とう たんじょう きんぱく 唐の誕生と緊迫する東アジア
テーマ2	戦国大名の登場
テーマ3	げんろく 元禄文化
テーマ4	たぬまおきつぐ 田沼意次の政治
テーマ5	立憲制国家の成立
テーマ6	第一次世界大戦と日本
テーマ7	戦後の日本経済

- (1) テーマ1について、くいだら 百済を復興するため大軍を送った日本が、ちようせん しらぎ 朝鮮半島で唐と新羅の連合軍に敗れた戦いを何というか、次のア～エから最も適当なものを1つ選び、その記号を書きなさい。

[ア. はくそんこう 白村江の戦い イ. だんのうら 壇ノ浦の戦い ウ. おけはざま 桶狭間の戦い エ. ながしの 長篠の戦い]

- (2) テーマ2について、資料1は、戦国大名のあさくら 朝倉氏が定めた「たかかげじょうじょう 朝倉孝景条々」を要約したものの一部である。資料1に示したような、戦国大名が定めた、領国支配のための法律を何というか、漢字で書きなさい。

〈資料1〉

ほんきよ やかた
本拠である朝倉館のほかには、国内に城を構えてはならない。全ての有力な家臣は、いちじょうだに 一乗谷に引越し、村には代官を置くようにしなさい。

- (3) テーマ3について、おおさか 大阪の町人で、武士や町人の生活をもとにしたうきよぞうし 浮世草子と呼ばれる小説を書いた人物はだれ 誰か、次のア～エから最も適当なものを1つ選び、その記号を書きなさい。

[ア. ちかまつもんざえもん 近松門左衛門 イ. いはらさいかく 井原西鶴 ウ. おがたこうりん 尾形光琳 エ. ひしかわもろのぶ 菱川師宣]

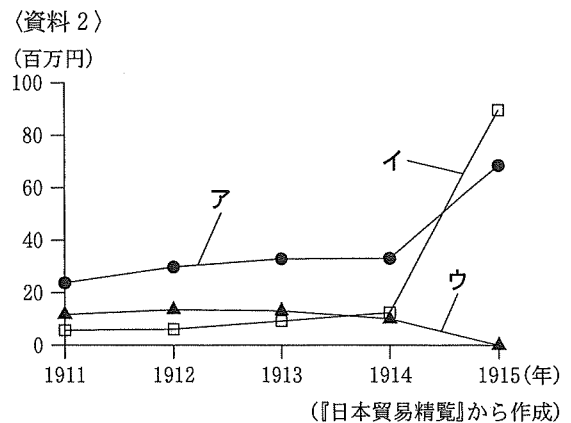
- (4) テーマ4について、田沼意次が行った政治の内容について述べた文はどれか、次のア～エから最も適当なものを1つ選び、その記号を書きなさい。

[ア. しょうるいあわれ 生類憐みの令を出し、きょくたん 極端な動物保護を行った。
イ. 財政難を切りぬけるために、金貨・銀貨の質を落としてその数量を増やした。
ウ. 株仲間を認め、どくせん 営業を独占させる代わりに税をとった。
エ. くじかた おさだめがき 公事方御定書をつくり、裁判の基準とした。]

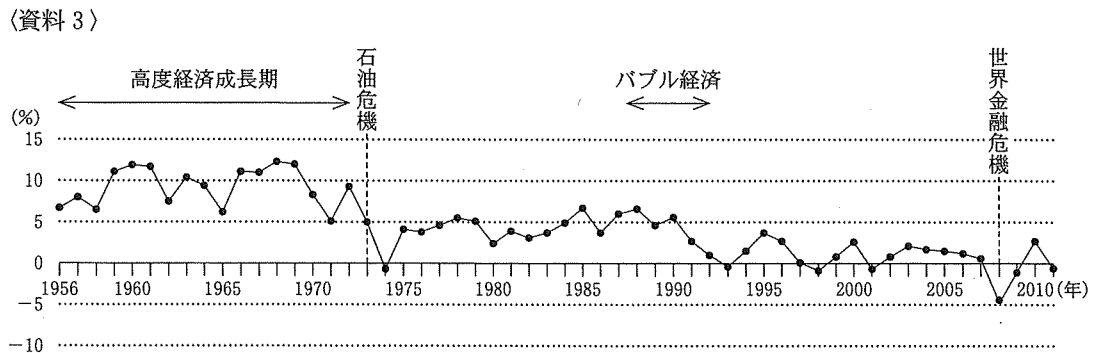
(5) テーマ5について、大日本帝国憲法で定められたことがらについて述べた文はどれか、次のア～エから最も適当なものを1つ選び、その記号を書きなさい。

- ア. 天皇は、日本国・日本国民統合の象徴とされた。
 イ. 予算や法律の成立には、議会の同意が必要とされた。
 ウ. 基本的人権は、永久の権利として保障された。
 エ. 首長と議員は、住民の選挙によって選ばれるとされた。

(6) テーマ6について、資料2は、1911年から1915年の日本の国別輸出額を示したものであり、ア～ウはイギリス、ドイツ、ロシアのいずれかである。ドイツにあてはまるものはどれか、最も適当なものを1つ選び、その記号を書きなさい。また、そのように判断した理由を、「第一次世界大戦」という言葉を用いて、書きなさい。



(7) テーマ7について、たくやさんは、1956年から2011年までの日本の経済成長率の推移を資料3にまとめた。資料3から読み取れる、日本の経済成長率について述べた文として正しいものはどれか、下のア～エから最も適当なものを1つ選び、その記号を書きなさい。



[注：経済成長率は、国民総所得を前年と比較した増減率]
 (『数字でみる日本の100年』から作成)

- ア. 高度経済成長期には、経済成長率が毎年4%以上あった。
 イ. 石油危機から世界金融危機まで、経済成長率が0%を下回る年はなかった。
 ウ. バブル経済時には、1956年以降で最高の経済成長率を示した年があった。
 エ. 2001年から2010年までの間に、経済成長率が-5%を下回る年があった。

次のページへ→

- 4 次の表は、さおりさんの学級で、歴史的分野を学習したときの内容をまとめたものである。これを見て、あとの各問いに答えなさい。(9点)

<p>ヤマト王権(大和政権)は、中国に小野妹子らを派遣し、対等の立場で国交を結ぼうとした。 ①</p>
<p>桓武天皇は、寺院勢力の強い平城京から、山城国の平安京に都を移した。 ②</p>
<p>源頼朝は、鎌倉を本拠として指揮をとり、集まってきた武士と主従関係を結んで御家人とし、武家の政治の仕組みを整えた。 ③</p>
<p>1858年にアメリカやイギリスなどと通商条約が結ばれ、自由貿易が開始されると、国内の綿織物の生産地は大きな打撃を受けた。 ④</p>
<p>江戸や大阪で世が変わることへの期待と不安から、「ええじゃないか」と群衆が熱狂し、歌い踊るさわぎが起こった。 ⑤</p>
<p>連合国の代表は、1945年にサンフランシスコに集まり、国際連合憲章に調印し、国際連合を成立させた。 ⑥</p>

- (1) 下線部①について、ヤマト王権(大和政権)が小野妹子らを派遣した時の中国の王朝を何というか、次のア～エから最も適当なものを1つ選び、その記号を書きなさい。

[ア. 秦 イ. 漢 ウ. 魏 エ. 隋]

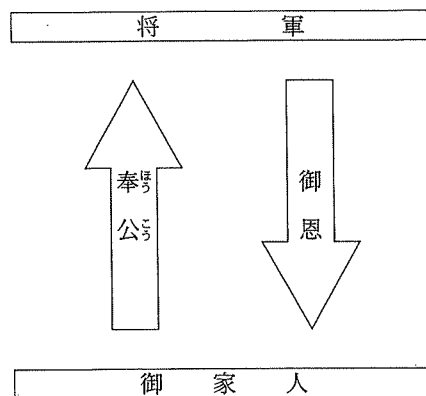
- (2) 下線部②について、平安京が都とされてから鎌倉幕府が成立するまでの、平安時代のできごとについて述べた文はどれか、次のア～エから最も適当なものを1つ選び、その記号を書きなさい。

- [ア. 奥州藤原氏によって、平泉に中尊寺金色堂が建設された。
イ. 聖武天皇によって、東大寺が建てられ、大仏がつくられた。
ウ. 運慶らによって、東大寺南大門の金剛力士像が制作された。
エ. 観阿弥・世阿弥によって、能が大成された。]

- (3) 下線部③について、資料1は、鎌倉幕府の将軍と御家人との主従関係を模式的に表したものである。資料1の

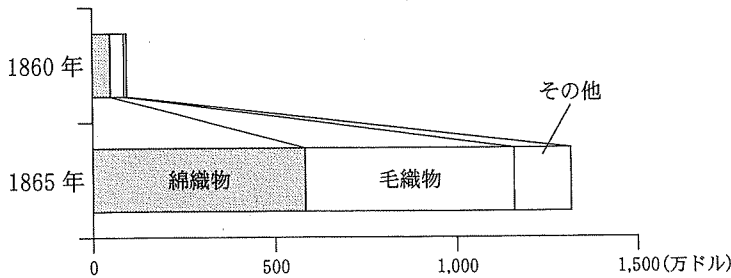
御恩にあたるものについて述べた文はどれか、次のア～エから最も適当なものを1つ選び、その記号を書きなさい。

- [ア. 口分田を与えられること。
イ. 国司に任命されること。
ウ. 領地を保護されること。
エ. 管領に任命されること。]




(4) 下線部④について、資料2は、1860年と1865年における日本の輸入総額とおもな輸入品を示したもので、資料3は、1865年における日本の輸入総額に占める国別割合を示したものである。通商条約が結ばれ、自由貿易が開始されると、国内の綿織物の生産地が大きな打撃を受けたのはなぜか、資料2、資料3から読み取れることをもとにして、書きなさい。

〈資料2〉



[注：綿織物には綿糸も含む]

〈資料3〉



(資料2、資料3は、『横浜市史』から作成)

(5) 下線部⑤について、次の①～④のカードはそれぞれ、「ええじゃないか」というさわぎが発生したころの、日本国内で起きたできごとを示したものである。①～④のカードを、書かれた内容の古いものから順に並べると、どのようになるか、下のア～エから最も適当なものを1つ選び、その記号を書きなさい。

① とくがわよしのぶ 徳川慶喜は、ちやうてい 政権を朝廷に返上することを申し出た。

② 新政府は、こかじやう 五箇条の御誓文を出した。

③ 新政府は、諸大名に土地と人民を政府に返させた。

④ さかもとりやうま 坂本龍馬は、さつまはん 薩摩藩と長州藩の間を仲介し、さつちやうどうめい 薩長同盟を結ばせた。

- ア. ①→②→③→④ イ. ②→①→③→④
 ウ. ①→②→④→③ エ. ②→①→④→③

(6) 下線部⑥について、資料4は、国際連合加盟国数の推移を州別に示したものであり、A～Fには、世界の6つの州のいずれかがあてはまる。資料5は、たくやさんが、Bがどの州であるかを考え、その理由をまとめたものである。資料5の **I** にあてはまる言葉は何か、書きなさい。

〈資料4〉

	A	B	C	D	E	F	合計
1945年の加盟国数	2	4	9	10	12	14	51
1955年の加盟国数	2	5	21	10	12	26	76
1965年の加盟国数	2	37	28	10	14	27	118

(国際連合広報センターWebページから作成)

〈資料5〉

Bは、**I** 州だと考えられる。なぜなら、「**I** の年」と呼ばれた1960年に、多くの独立国が誕生し、国連への加盟国数が大幅に増加したからである。


次のページへ→

5 右の表は、せいやさんの学級で行った公民的分野の調べ学習について、班ごとのテーマをまとめたものである。これを見て、あとの各問いに答えなさい。(14点)

A班	人権思想の成立
B班	行政改革
C班	多様化する家族
D班	国会の運営
E班	政治参加と選挙
F班	日本企業の海外進出
G班	日本の財政
H班	持続可能な社会

(1) A班のテーマについて、資料1は、フランス人権宣言を記した版

画であり、資料2は、資料1を説明したものの一部である。資料2の **A** にあてはまる言葉はどれか、下のア～エから最も適切なものを1つ選び、その記号を書きなさい。



(資料2)

版面には、前文と17か条が記載されています。左上には、**A** のくさり^{きざり}を断ち切る自由を表す女神^{えが}が描かれ、中央上部には、理性の光を照らすという意味を表した絵が描かれています。

(ア. 議院内閣制 イ. 絶対王政 ウ. 普通選挙制^{ふつうせんきゆうせい} エ. 立憲主義)

(2) B班のテーマについて、行政改革の1つとして、経済活動^{けいぎかつどう}に対する規制緩和^{きぎはんわ}がある。経済活動に対する規制緩和の具体例にあてはまるものはどれか、次のア～エから最も適切なものを1つ選び、その記号を書きなさい。

- ア. かぜ薬がコンビニエンスストアで販売されること。
- イ. タクシー運賃^{りんごう}の変更が政府に認可^{にんか}されること。
- ウ. 産業が寡占^{かせん}や独占に近づき、独占価格が設定されること。
- エ. 同じ旅行先でも出発日によって異なる旅行代金が設定されること。

(3) C班のテーマについて、なるみさんは、日本の家族構成に関する資料を集めた。資料3、資料4は、その一部であり、資料5は、資料3、資料4をもとに、なるみさんが、考えたことをまとめたものである。資料5の **a** にあてはまる理由は何か、次のア～エから最も適切なものを1つ選び、その記号を書きなさい。

〈資料3〉

年	1世帯あたり 人員(人)
1980	3.22
2000	2.67

〈資料4〉

年	全世帯にしめる核家 族世帯の割合(%)
1980	60.3
2000	59.1

(資料3、資料4は、総務省 Web ページから作成)

〈資料5〉

1980年と2000年を比べて、1世帯あたり人員は減少しているのに、全世帯にしめる核家族世帯の割合が増加していないのは **a** だと考えられる。

- ア. 日本の総人口が減少したから
- イ. 単独(一人)世帯の数が増加したから
- ウ. 夫婦^{ふうふ}と子どものいる世帯の数が増加したから
- エ. 祖父母と親と子どもで構成される世帯の数が増加したから

(4) D 班のテーマについて、国会において、両院協議会が開かれることがある。両院協議会はどのような時に開かれるか、両院とは何かを明らかにして、書きなさい。

(5) E 班のテーマについて、次の(a), (b)の各問いに答えなさい。

(a) 資料 6 は、れいじさんが、参議院議員の任期と選挙についてまとめたものの一部である。資料 6 の あ にあてはまる、参議院議員選挙が 3 年ごとに行われる理由は何か、「改選」という言葉を用いて、書きなさい。

〈資料 6〉

参議院議員の任期は 6 年です。参議院議員の選挙は、2000 年以降では、2001 年、2004 年、2007 年、2010 年、2013 年、2016 年、2019 年に行われました。このように 3 年ごとに選挙が行われるのは、あ です。

(b) 資料 7 は、2019 年に行われた参議院議員選挙における政策課題に対する有権者へのアンケート結果であり、Ⅰ～Ⅳは、医療・介護、消費税、子育て・教育、景気対策のいずれかである。また、資料 8 は、資料 7 の結果についてまとめたものである。資料 7 のⅠにあてはまるものはどれか、下のア～エから最も適当なものを 1 つ選び、その記号を書きなさい。

〈資料 7〉

政策課題	18～29 歳	30～49 歳	50～69 歳	70 歳以上
Ⅰ	37.8	46.7	47.5	44.9
Ⅱ	36.2	48.0	27.9	25.2
Ⅲ	29.7	29.2	30.0	31.7
年金	27.6	38.0	60.6	63.7
Ⅳ	26.5	40.8	58.8	69.7

〔注：「今回の参院選では、どのような政策課題を考慮しましたか」という質問に対する回答であり、単位は％〕

〈資料 8〉

いずれの年代においても、景気対策は消費税よりも上位に位置している。また、年代ごとの特色として、年金や医療・介護については、高齢者層ほど考慮する順位が高まり、子育て・教育は、若年者層ほど上位に位置している。

（資料 7、資料 8 は、明るい選挙推進協会資料から作成）

〔ア. 医療・介護 イ. 消費税 ウ. 子育て・教育 エ. 景気対策〕

(6) F 班のテーマについて、資料 9 は、1999 年、

2009 年、2019 年の、ベトナムにおける日本の現地法人数を示したものであり、資料 10 は、つばきさんが、資料 9 をもとに立てた仮説である。資料 10 に示したつばきさんの仮説が正しいかどうかを確かめる場合、どのような資料が必要か、次のア～エから最も適当なものを 1 つ選び、その記号を書きなさい。

〈資料 9〉

	1999 年	2009 年	2019 年
ベトナムにおける日本の現地法人数	184	404	1278

（『海外進出企業総覧 2020』ほかから作成）

〈資料 10〉

ベトナムで日本の現地法人数が増えているのは、ベトナムには安い労働力があるからだと考えられる。

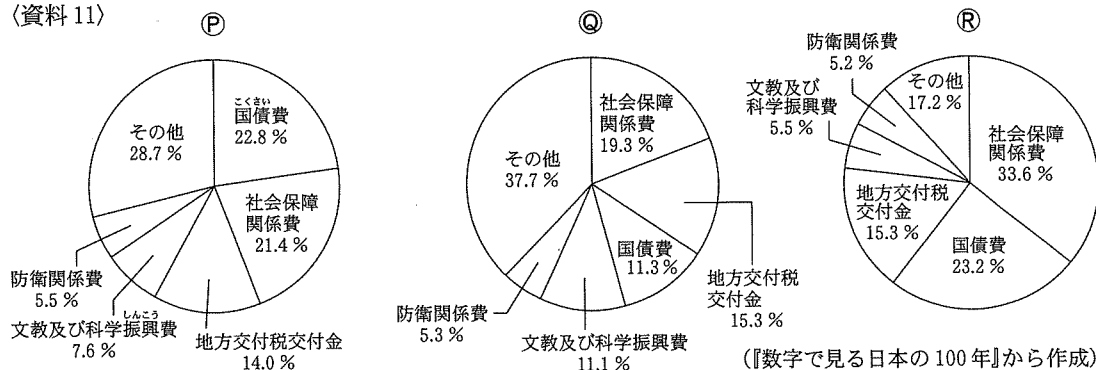
- 〔ア. ベトナムにおける就職率の推移を示す資料。
- イ. 日本の労働者とベトナムの労働者の平均賃金を比較した資料。
- ウ. 日本の労働力人口とベトナムの労働力人口の平均年齢を比較した資料。
- エ. ベトナムにおける日本の現地法人のベトナム人従業員数の推移を示す資料。〕

次のページへ→

(7) G班のテーマについて、次の(a), (b)の各問いに答えなさい。

(a) 資料11の⒫~⒯は、1979年度、1999年度、2019年度のいずれかの年度の、日本の一般会計における歳出の内訳を示したものである。⒫、⒬、⒯を古いものから順に並べると、どのようになるか、下のア~カから最も適当なものを1つ選び、その記号を書きなさい。

〈資料11〉



- 〔ア. ⒫→⒬→⒯ イ. ⒫→⒯→⒬ ウ. ⒬→⒫→⒯〕
 〔エ. ⒬→⒯→⒫ オ. ⒯→⒫→⒬ カ. ⒯→⒬→⒫〕

(b) 資料12は、税の1つである所得税についてまとめたものの一部である。資料12の X, Y にあてはまる言葉の組み合わせはどれか、次のア~エから最も適当なものを1つ選び、その記号を書きなさい。


〈資料12〉

所得税は、実際に税を負担する人と納税者が X 税金であり、 Y 。

- 〔ア. X — 一致する Y — 所得が多いほど、高い税率が適用される〕
 〔イ. X — 一致する Y — 所得に関係なく、同じ税率が適用される〕
 〔ウ. X — 一致しない Y — 所得が多いほど、高い税率が適用される〕
 〔エ. X — 一致しない Y — 所得に関係なく、同じ税率が適用される〕

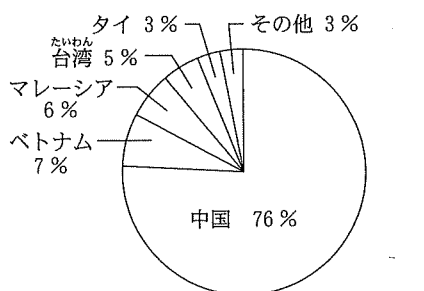
(8) H班のテーマについて、せいやさんは、日本の廃プラスチックの処理状況に関する資料を集めた。資料13、資料14、資料15は、その一部である。廃プラスチックについて、持続可能な社会を実現するために解決すべき日本の課題は何か、その1つとして考えられることを、資料13、資料14、資料15から読み取れることをもとにして、「輸出」と「国内」という2つの言葉を用いて、書きなさい。

〈資料13〉 2017年における日本の廃プラスチックの処理状況



〔注：数値は、処理前と同様な用途の原料として再生利用するもの内訳〕
 (プラスチック循環利用協会資料ほかから作成)

〈資料14〉 2017年7月における日本の廃プラスチックの主な輸出先



(「財務省貿易統計」から作成)

〈資料15〉 海外における廃プラスチックの輸入規制の動向

・中国	2017年12月末 非工業由来廃プラスチックの輸入を禁止 2018年12月末 工業由来の廃プラスチック輸入を停止
・ベトナム	2018年6月 輸入基準を厳格化
・マレーシア	2018年7月 実質的に輸入禁止
・台湾	2018年10月 輸入規制の厳格化
・タイ	2021年 全面輸入禁止の方針

(経済産業省 Web ページほかから作成)

—おわり—

受 検 番 号
番

得 点

1

(1)			
(a)		(b)	
(2)		(c)	
(3)	(a)	(b)	

2

(1)	(a)	(b)	
(c)			
(2)	(a)		
(b)			
(3)			

3

(1)			
(2)			
(3)	(4)	(5)	
(6)	記号		
(7)	理由		

4

(1)		(2)		(3)	
(4)					
(5)					
(6)					

5

(1)		(2)		(3)	
(4)					
(5)	(a)				
(b)					
(6)					
(7)	(a)		(b)		
(8)					

C (社会) 採点基準

「採点基準」で処理できない場合は、各校の統一見解で採点されたい。

問 題	配点	正 答 例		備 考	
1 9点	(1)	1点	エ		
	(2)	(a)	1点	ウ	
		(b)	2点	エ	
		(c)	2点	工業が発達しているドイツに仕事を求めるから。	* 同様の趣旨であればよい。 ・ 資料3から読み取れることにふれて、「仕事」という言葉を用いて、A～Dの国からドイツへ移住する理由を、適切に表現できていればよい。
	(3)	(a)	1点	エ	
		(b)	2点	イ	
2 9点	(1)	(a)	1点	イ	
		(b)	2点	ア, カ	* 順不同, 各1点。
		(c)	1点	ウ	
	(2)	(a)	1点	エ	
		(b)	2点	イ	
	(3)	2点	ニュージーランド産, 北海道産が入荷しない時期に入荷し, それらよりも高い価格で取り引きされている。	* 同様の趣旨であればよい。	
3 9点	(1)	1点	ア		
	(2)	2点	分国法	* ひらがな等での解答は1点減じる。	
	(3)	1点	イ		
	(4)	1点	ウ		
	(5)	1点	イ		
	(6)	記号	ウ	* 記号のみの解答には点を与えない。	
		理由	ドイツは, 第一次世界大戦で日本と戦ったので, 貿易を行わなくなったと考えられるから。	* 同様の趣旨であればよい。	
(7)	1点	ア			
4 9点	(1)	1点	エ		
	(2)	1点	ア		
	(3)	1点	ウ		
	(4)	2点	(例1) 大量の綿織物がイギリスから輸入されるようになったから。 (例2) 安価な綿織物がイギリスから輸入されるようになったから。	* 同様の趣旨であればよい。	
	(5)	2点	イ		
	(6)	2点	アフリカ		

5 14点	(1)	1点	イ		
	(2)	1点	ア		
	(3)	1点	イ		
	(4)	2点	衆議院と参議院の議決が異なる時。	* 同様の趣旨であればよい。	
	(5)	(a)	2点	半数ずつ改選する から	* 同様の趣旨であればよい。
		(b)	1点	エ	
	(6)	1点	イ		
	(7)	(a)	2点	ウ	
		(b)	1点	ア	
	(8)	2点	(例1) 輸出できなくなってきたので、国内で 排出される量を減らすこと。 (例2) 輸出するのではなく、国内における再生利 用を進めること。	* 同様の趣旨であればよい。 ・ 資料13, 資料14, 資料15から読み取れることを もとにして、「輸出」と「国内」という2つの言 葉を用いて、廃プラスチックについて、持続可能 な社会を実現するために解決すべき日本の課題を 適切に表現できていければよい。	
合 計	50点				