

学 力 検 査  
社 会

注 意

- 1 指示があるまでは、この用紙を開いてはいけません。
- 2 解答用紙は、この用紙の裏面です。
- 3 答えは、全て解答用紙に記入しなさい。ただし、の欄には、何も書いてはいけません。
- 4 検査問題は6ページで、問題は1から3まであります。

- 1 あやこさんは、歴史の授業で学んだ法に関心を持ち、時代区分ごとに関連する内容について調べ、まとめを書いた。1～12の問いに答えなさい。

[あやこさんのまとめ]

古代

聖徳太子は、仏教や儒学の考え方を取り入れた **I** で、天皇の命令に従うべきことなど、役人の心構えを示した。8世紀には、唐の法律にならって ①大宝律令が作られるなど、律令国家が成立していった。 律令国家は、天皇や貴族が中心となって運営され、②様々な文化が発展した。

中世

鎌倉時代、執権の北条泰時は1232年に、③御成敗式目(貞永式目)を定めた。 武士は、朝廷の律令とは別に、独自の法を制定し、御成敗式目は長く武士の法律の見本となった。応仁の乱以後の戦国時代には、④戦国大名が独自の分国法を定めて、領国を統一して支配する新しい政治を行った。

近世

江戸幕府の3代将軍 **II** は、武家諸法度で、大名が原則1年おきに領地と江戸とを往復する参勤交代を制度化し、外交面では、禁教、貿易統制、外交独占の鎖国体制を築いた。しかし、長崎では中国やオランダと交流が続き、次第に国内で⑤ヨーロッパの学問を学ぶ者が現れた。 一方で、幕府は財政が悪化すると、⑥様々な政治改革を行った。

近代

明治政府は、⑦近代国家を造るための諸政策を進めた。 ヨーロッパへの憲法調査や内閣制度の創設が行われた後、1889年に大日本帝国憲法が公布され、翌年には資料1のような⑧議会政治が始まった。 続いて、民法や商法なども公布され、法制度が整備された。その後、⑨国民の政治意識が次第に高まり、大正時代には政党政治が発展した。

現代

政府は、GHQの指示を受けて憲法の改正に着手し、1946年に日本国憲法が公布された。また、民法が改正され、個人の尊厳と男女の本質的平等に基づく家族制度が定められた。その後、⑩高度経済成長が進む中で公害問題が深刻化すると、それに対応する法整備が必要となった。

[資料1]

議会政治の写真

- 1 **I** に当てはまる、資料2の法の名を書きなさい。  
 2 下線①について、次の **a** , **b** に当てはまる言葉の正しい組み合わせを、ア～エから一つ選び、符号で書きなさい。

6年ごとに作られる **a** に登録された6歳以上の全ての人々には、性別や良民、賤民の身分に応じて **b** が与えられた。人々は **b** の面積に応じて租を負担したほか、調や庸などの税が課された。

- ア a = 検地帳 b = 口分田      イ a = 戸籍 b = 口分田  
 ウ a = 検地帳 b = 荘園      エ a = 戸籍 b = 荘園

- 3 下線②について、次のア～ウの出来事を、年代の古い順に並べ、符号で書きなさい。

- ア 神話や伝承、記録などを基にした歴史書の「古事記」と「日本書紀」がまとめられた。  
 イ 紫式部の「源氏物語」や、清少納言の「枕草子」など、女性による文学作品が生まれた。  
 ウ 仏教の新しい教えとして、唐に渡った最澄が天台宗を、空海が真言宗を日本に伝えた。

- 4 下線③について、資料3の **c** に当てはまる、国ごとに置かれた役職の名を書きなさい。

[資料2]

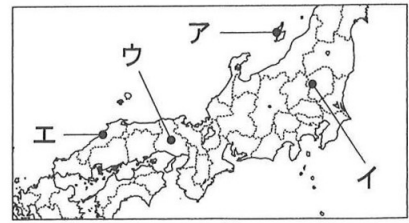
一に曰く、和をもって貴しとなし、さからう(争う)ことなきを宗と(第一に)せよ。  
 二に曰く、あつく三宝を敬え。三宝とは仏・法(仏教の教え)・僧なり。  
 三に曰く、詔(天皇の命令)をうけたまわりては必ずつつしめ(守りなさい)。  
 (初めの3条の一部)

[資料3] 御成敗式目(部分要約)

一 諸国の **c** の職務は、頼朝公の時代に定められたように、京都の御所の警備と、謀反や殺人などの犯罪人の取りしまりに限る。

5 下線④が保護した商人により開発された鉱山の一つに石見銀山がある。石見銀山の位置を、略地図のア～エから一つ選び、符号で書きなさい。

[略地図]



6  に当てはまる人物の名を、漢字で書きなさい。

7 下線⑤について、次の出来事は、略年表のア～エのどの期間の出来事か。一つ選び、符号で書きなさい。

伊能忠敬がヨーロッパの技術で全国の海岸線を測量し、正確な日本地図を作ることに着手した。

[略年表]

1641年	平戸のオランダ商館を長崎の出島に移す	……ア
1720年	徳川吉宗が禁書をゆるめる	……イ
1792年	ラクスマンが根室に来航する	……ウ
1842年	外国船にまきや水を与える政策をとる	……エ
1854年	日米和親条約を結び開国する	

8 下線⑥について、次の  に当てはまる言葉を書きなさい。

18世紀後半、老中になった田沼意次は、 という商工業者の同業者組織を作ることを奨励し、特権を与えるかわりに営業税を取り、幕府の財政を立て直そうとした。

9 下線⑦について、表のア～エは、板垣退助、伊藤博文、大久保利通、大隈重信のいずれかである。伊藤博文に当たるものをア～エから一つ選び、符号で書きなさい。

[表] 近代国家を造った政治家たち

	ア	イ	ウ	エ
岩倉使節団に参加した	×	×	○	○
大日本帝国憲法制定前に政党を結成した	○	○	×	×
内閣総理大臣になった	×	○	○	×

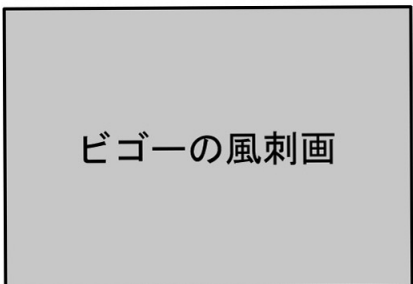
10 下線⑧について、(1)、(2)に答えなさい。

(1) 次の  に当てはまる文を、資料4を参考にして、「投票」という言葉を用いて、簡潔に書きなさい。

注：○は該当する、×は該当しないことを意味する。

大日本帝国憲法によって、天皇を中心とした国の仕組みが作られ、帝国議会は、国民が  と、皇族や華族、天皇が任命した議員などで構成する貴族院の二院制が採られた。

[資料4] ビゴアの風刺画



(2) 世界で最初に議会政治を始めたイギリスについて、次の  に当てはまる言葉を、ア～エから一つ選び、符号で書きなさい。

イギリスでは、1688年から89年の名誉革命によって議会を尊重する国王が新たに選ばれ、 が定められた。こうして、世界初の立憲君主制と議会政治が始まった。

ア 権利章典      イ 人権宣言      ウ 独立宣言      エ マグナ・カルタ

11 下線⑨について、次のア～ウの出来事を、年代の古い順に並べ、符号で書きなさい。

ア 普通選挙法が制定された。      イ 第一次護憲運動が起こった。  
ウ 原敬が政党内閣を組織した。

12 下線⑩について、このころの日本の社会の様子として最も適切なものを、ア～エから一つ選び、符号で書きなさい。

ア 地主が持つ小作地を政府が強制的に買い上げて、小作人に安く売りわたした。  
イ ラジオ放送が始まり、新聞とならぶ情報源となった。  
ウ インターネットが普及し、国境をこえて高速で双方向にやりとりができるようになった。  
エ 国民の所得が増え、テレビ、洗濯機、冷蔵庫などの家庭電化製品や自動車が広く普及した。

2 岐阜県に住むひできさんは、興味をもった国や地域についてクラスで発表するためのメモを作成した。1～11の問いに答えなさい。

[ひできさんのメモ1] 日本と同緯度にある国：イタリア

《言語》 イタリア語は、**I** などと同じラテン系言語である。

《国際》 1993年に発足した①ヨーロッパ連合の原加盟国の一つである。

《産業》 イタリアやスペインなどの地中海沿岸では、②夏は高温で乾燥し、冬は温暖で雨が多いため、ぶどうやオリーブなどの果樹、小麦などの穀物を栽培する地中海式農業が行われている。

[ひできさんのメモ2] 日本と同経度にある国：オーストラリア

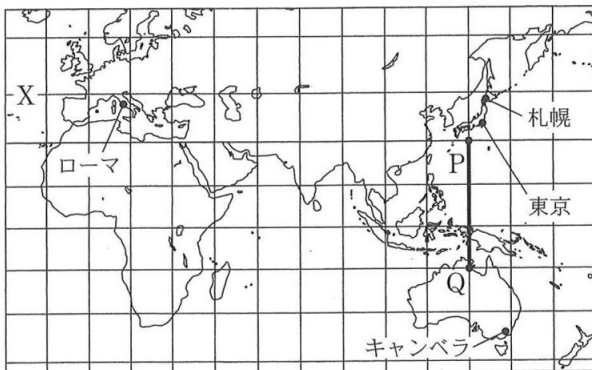
《言語》 かつてイギリスの植民地であり、主として英語が使われている。

《国際》 貿易相手上位国は③中国、日本、アメリカで、特にアジアの国との関係が強くなっている。

《産業》 南東部や南西部では、小麦などの作物栽培と牧畜を組み合わせた農業が行われている。大規模で品質の良い鉱産資源を採掘することができ、④鉱業が重要な輸出産業になっている。

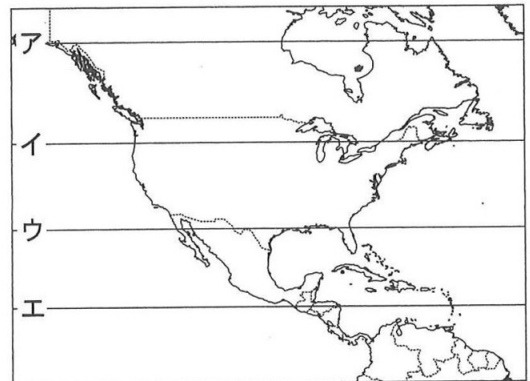
1 ひできさんは発表にあたり、略地図1を作成した。(1)、(2)に答えなさい。

[略地図1]



注：赤道及び15度ごとの緯線と、本初子午線及び15度ごとの経線が示してあり、緯線と経線は直角に交わっている。

[略地図2]



注：赤道から15度ごとの緯線が示してある。

(1) 略地図1の緯線Xと同じ緯線を、略地図2のア～エから一つ選び、符号で書きなさい。

(2) 略地図1のP-Q間の実際の距離はおおよそどれくらいか。地球の周囲を40,000 kmとして、適切な距離を、ア～エから一つ選び、符号で書きなさい。

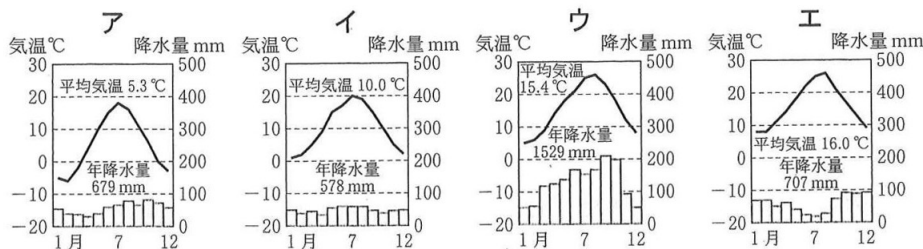
ア 約2,500 km      イ 約3,300 km      ウ 約5,000 km      エ 約7,500 km

2 **I** に当てはまる言語名を、ア～エから一つ選び、符号で書きなさい。

ア 英語      イ ドイツ語      ウ ロシア語      エ フランス語

3 下線①の略号を、大文字のアルファベット2字で書きなさい。

4 下線②の地中海性気候の特徴をもつ気温と降水量のグラフを、ア～エから一つ選び、符号で書きなさい。



(「理科年表2021」などより作成)

5 下線③について、表1のア～エは、オーストラリア、中国、日本、アメリカのいずれかである。オーストラリアに当たるものを、ア～エから一つ選び、符号で書きなさい。

[表1] オーストラリア、中国、日本、アメリカの人口密度(2020年)とエネルギー自給率(2018年)

	ア	イ	ウ	エ
人口密度(人/km <sup>2</sup> )	3	34	150	339
エネルギー自給率(%)	321.5	97.4	80.2	11.8

(「世界国勢図会2021/22」より作成)

6 下線④について、次の **a** , **b** に当てはまる言葉の正しい組み合わせを、ア～エから一つ選び、符号で書きなさい。

表2から、オーストラリアの輸出総額に占める日本への輸出額の割合を計算すると約 **a** %で、日本は中国に続いて第2位の輸出相手国である。また、表3から、日本のオーストラリアからの輸入品目は、液化天然ガス、石炭、**b** のような鉱産資源が多いことが分かる。

[表2] オーストラリアの貿易(2020年)

項目	金額(億ドル)
輸出総額	2,519
輸入総額	2,147
日本への輸出額	310
日本からの輸入額	129

[表3] 日本の、オーストラリアからの輸入上位3品目と、それぞれの輸入先上位2か国の金額の割合(2020年)

輸入品目	1位	2位
液化天然ガス	オーストラリア 40.2%	マレーシア 13.2%
石炭	オーストラリア 60.2%	インドネシア 13.3%
<b>b</b>	オーストラリア 52.3%	ブラジル 29.6%

注：割合(%)とは、それぞれの品目の輸入額全体に占める割合である。

(表2、表3とも「日本国勢図会 2022/23」より作成)

- ア a=6 b=鉄鉱石      イ a=6 b=石油  
ウ a=12 b=鉄鉱石      エ a=12 b=石油

[ひできさんのメモ3] 岐阜県の属する中部地方

《地形》 略地図3の **II** で示した3000m級の山々が連なる三つの山脈は、ヨーロッパの **II** 山脈にちなんで、日本 **II** と総称される。これらの山脈の影響もあり、東海、北陸、中央高地のそれぞれに地域的特色が見られる。

《産業》 東海では⑤中京工業地帯や東海工業地域が広がり、⑥北陸では伝統産業や地場産業が各地に見られる。また、⑦東海では野菜や花の施設園芸農業、中央高地では高冷地で野菜の栽培、北陸では米の生産が盛んである。

《人口》 人口の多くは平野部に集中しており、特に東海には名古屋、浜松、静岡といった **III** をはじめ、たくさんの都市が連なっている。

[略地図3]

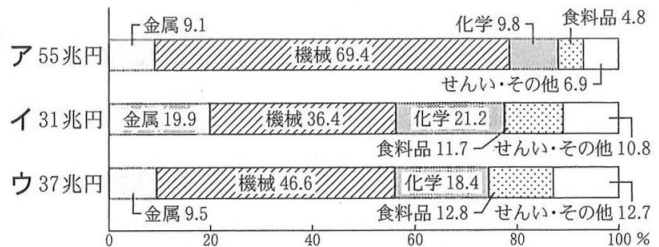


7 **II** に当てはまる言葉を書きなさい。

8 下線⑤について、グラフ1のア～ウは、中京工業地帯、京浜工業地帯、阪神工業地帯のいずれかである。中京工業地帯に当たるものを、ア～ウから一つ選び、符号で書きなさい。

[グラフ1]

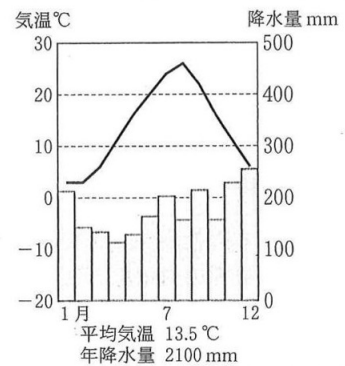
三大工業地帯の工業生産額とその内訳(2016年)



(「工業統計調査 平成29年版」より作成)

北陸では、小千谷ちぢみや加賀友禅などの伝統産業や、富山の売菜などの地場産業が見られる。略地図3の輪島市の輪島塗も、**c** として始まり、伝統産業として継承されている。

[グラフ2] 輪島市の気温と降水量



(「理科年表 2021」より作成)

10 下線⑦について、次の **d** に当てはまる言葉を書きなさい。

長野県の高原野菜の栽培では、夏でも冷涼な気候を利用して、他の温暖な地域と出荷時期をずらし、高い価格で販売できるように工夫している。また、愛知県の電照菊の栽培では、夜間に照明を当てて、花の開く時期を遅らせ、秋から冬にかけて出荷するように工夫している。このように、他の産地より出荷時期を遅らせる栽培方法を **d** という。

11 **III** は、政府によって指定を受けた人口50万人以上の市で、市域を複数の行政区に分けて区役所を設置し、市民の健康や福祉に関する多くの事務を都道府県に代わって行うことができる都市のことである。**III** に当てはまる言葉を書きなさい。

- 3 あおいさんのクラスでは、公民の授業で、「住民の社会参画」について、班ごとに事例を調べ、クラスで意見交流をした。1～9の問いに答えなさい。

《住民の社会参画の事例》

A班

X市のある商店街では、1991年の **あ** 以降客数が減少し、地価が下落した。そこで、商店街がまちづくり会社を設立し再開発を行った。商店街にマンション、医療機関や保育園を設け、商店街が生活の場として機能するようにして、住民が安心して暮らせる環境づくりに取り組んでいる。

B班

Y市では、スマートフォンなどの①ICT機器の活用により、地域の課題を市民と②行政が共有し、効率的な解決を目指す仕組みを作った。例えば、市民が道路の不具合など地域の困りごとをいつでも簡単に投稿することができるようにして、地域の課題解決に役立っている。

C班

Z市では、住民による地域活性化の企画に補助金を出す事業を始めた。この事業では、企画の内容や補助金の使い方などを住民が審査する。例えば、まちの③文化遺産のボランティアガイドの養成やガイドマップづくりが採用され、文化遺産を生かしたまちづくりが進められている。

《クラスでの意見交流》

- これからの少子高齢社会に対応するには、国の④社会保障制度とともに、X市の事例のように住民の社会参画による取り組みも大切になる。
- Y市の事例は、若い世代でも手軽に地域の課題解決に貢献できる工夫だと感じた。選挙権年齢や成年年齢が18歳になったことで、若い世代の社会参画や⑤政治参加に期待が高まっているので、主体的に行動したい。
- Z市で養成されたボランティアガイドや、作成されたガイドマップは、⑥外国人観光客が日本に来たときにも利用できる。
- 以前、授業で、⑦企業が社会貢献活動をしていることを学習した。これからは、企業が、地域住民と協力して地域課題を解決するような取り組みも工夫できる可能性がある。
- 三つの班の調べた事例は、住民が地域の課題を解決し、持続可能な社会をつくるための取り組みである。持続可能な社会を実現するためには、さらに⑧地球規模の課題をどう解決するかを考える必要もある。

- 1 **あ** に当てはまる言葉を、ア～エから一つ選び、符号で書きなさい。  
 ア 石油危機      イ バブル経済崩壊      ウ 世界金融危機      エ アメリカ同時多発テロ
- 2 下線①が進むと同時に、課題も生じている。プライバシーの権利の一つで、自分の顔などを勝手に撮影されたり、その写真や映像を公表されたりしない権利を、ア～エから一つ選び、符号で書きなさい。  
 ア 環境権      イ 肖像権      ウ 著作権      エ 知る権利
- 3 下線②について、行政改革の一つに、行政が企業などに出す許認可権を見直して、自由な経済活動をうながす規制緩和がある。日本での規制緩和の例として最も適切なものを、ア～エから一つ選び、符号で書きなさい。  
 ア 旅館が、宿泊希望の多い時期に、宿泊料金を高くする。  
 イ 少数の企業が相談して、生産量や価格を決める。  
 ウ 一般市民が住宅を活用して、旅行者などに宿泊場所を提供する。  
 エ 食料品店が、閉店間際に生鮮食品や総菜を値引きする。
- 4 下線③について、17世紀初めに、出雲の阿国という女性がはじめた踊りが発達し、江戸時代には資料のように栄えた伝統芸能の名を書きなさい。
- 5 下線④について、次の **a** に当てはまる言葉を書きなさい。

日本の社会保障制度は、四つの柱からなっており、そのうち、生活環境の改善や感染症の対策などにより、人々の健康や安全な生活を守ることを **a** という。

- 6 下線⑤について、(1)～(3)に答えなさい。  
 (1) 次の **b** に当てはまる言葉を書きなさい。

地域は住民自身によって運営されるべきであり、そのために国から自立した地方公共団体を作るという **b** の原則は、日本国憲法第92条に「**b** の本旨」として示されている。そして、地方公共団体の仕組みや運営の方法などについては、**b** 法で定められている。

[資料]

伝統芸能の絵

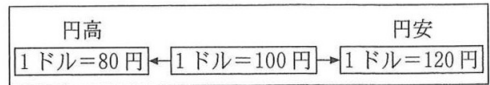
- (2) 表1は、有権者が240,000人のM市についてのものである。表1の  ,  に当てはまる数字と言葉の正しい組み合わせを、ア～エから一つ選び、符号で書きなさい。
- ア c = 4,800 d = 首長    イ c = 4,800 d = 議会  
ウ c = 80,000 d = 首長    エ c = 80,000 d = 議会
- (3) 現在の選挙の4原則のうち、どの政党や候補者に投票したかを他人に知られないように無記名で投票する原則を何というか、書きなさい。

[表1] M市における条例の制定・改廃の請求に必要な有権者の署名数

必要な有権者の署名数	請求先
<input type="text" value="c"/> 以上	M市の <input type="text" value="d"/>

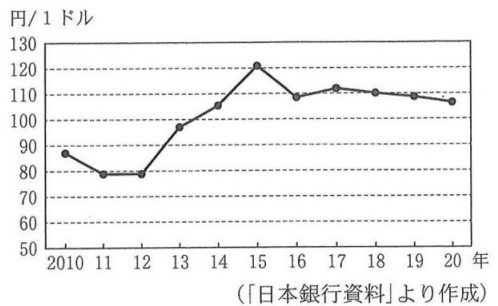
- 7 下線⑥について、次の  ,  に当てはまる言葉の正しい組み合わせを、図1とグラフを参考にして、ア～エから一つ選び、符号で書きなさい。

[図1] 円高と円安



アメリカから日本への旅行者が、1,200ドルを日本円に交換した場合、図1の円安のときには  になる。したがってグラフの、2012年と2015年を比較すると、一般に、 の方が、アメリカから日本へ旅行するには有利であったと考えられる。

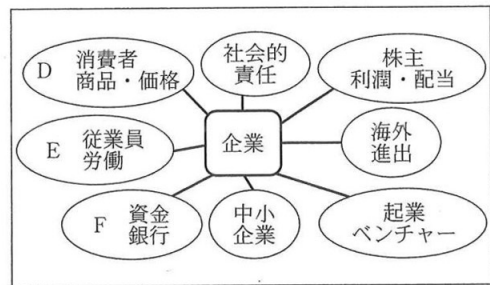
[グラフ] 円とドルの為替相場の推移



- ア e = 96,000円    f = 2012年  
イ e = 144,000円    f = 2012年  
ウ e = 96,000円    f = 2015年  
エ e = 144,000円    f = 2015年

- 8 下線⑦について、図2は、あおいさんが授業のときに作成したウェビングマップである。図2のD～Fについて、(1)～(3)に答えなさい。

[図2] 企業からイメージされるもの



- (1) Dについて、次の  に当てはまる法律の名を書きなさい。

2000年に制定された  には、契約上のトラブルから消費者を保護するために、事業者による一定の行為によって、消費者が誤認したり、とまどったりした状態で契約を結ぶなどした場合は、その契約や意思表示を取り消すことができることと定められている。

- (2) Eについて、日本では近年、ワーク・ライフ・バランスの実現が重要になっている。表2のI, II, 表3のIII, IVは、1995年、2019年のいずれかである。2019年の正しい組み合わせを、ア～エから一つ選び、符号で答えなさい。

[表2] 1995年と2019年の正規労働者と非正規労働者の数と割合

	正規労働者		非正規労働者	
	数(万人)	割合(%)	数(万人)	割合(%)
I	3,779	79.1	1,001	20.9
II	3,476	61.5	2,169	38.5

[表3] 1995年と2019年の年間総労働時間

	年間総労働時間
III	1,733時間
IV	1,909時間

- ア 表2 = I 表3 = III  
イ 表2 = I 表3 = IV  
ウ 表2 = II 表3 = III  
エ 表2 = II 表3 = IV

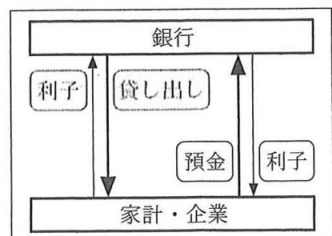
(「総務省資料」より作成)

(「厚生労働省資料」より作成)

- (3) Fについて、銀行の主な業務には預金の受け入れとお金の貸し出しがある。次の  に当てはまる文を、「貸し出し」、「預金」という二つの言葉を用いて、簡潔に書きなさい。

図3は、銀行の働きの一部を模式的に示したものである。銀行は、一般に、 ことで、その差から収入を得ている。

[図3] 銀行の働き(一部)



- 9 下線⑧について、2015年に、温室効果ガスの排出量が増大した産業革命の前からの気温上昇を、地球全体で2度未満におさえる目標を設定し、途上国を含む各国・地域がそれぞれ立てた目標に取り組むことを決めた国際協定の名を書きなさい。

# 社会解答用紙

□の欄には、何も記入しないこと。

1	1		
	2		
	3	古い出来事 → 新しい出来事 → →	
	4		
	5		
	6		
	7		
	8		
	9		
	10	(1)	
		(2)	
	11	古い出来事 → 新しい出来事 → →	
12			

2	1	(1)	
		(2)	
	2		
	3		
	4		
	5		
	6		
	7		
	8		
	9		
10		栽培	
11		都市	

3	1		
	2		
	3		
	4		
	5		
	6	(1)	
		(2)	
		(3)	選挙
	7		
8	(1)		
	(2)		
	(3)		
9			

受検番号		合計	
------	--	----	--

◇MS(726-44)

◇MS(726-52)



社会解答 計100点

(注)ここに示した以外の細部については、学校ごとに統一すること。

問題	正答	配点	備考		
1 34点	1	十七条の憲法(又は, 憲法十七条)	2点		
	2	イ	3点		
	3	ア → ウ → イ	3点		
	4	守護	2点		
	5	エ	2点		
	6	徳川家光	3点	漢字のみ正答とする。	
	7	ウ	3点		
	8	株仲間	2点		
	9	ウ	3点		
	10	(1)	投票して選んだ議員で構成する衆議院	4点	正答の一例である。
		(2)	ア	2点	
	11	イ → ウ → ア	3点		
12	エ	2点			
2 33点	1	(1)	イ	3点	
		(2)	ウ	3点	
	2	エ	3点		
	3	EU	2点	大文字のアルファベット2字のみ正答とする。	
	4	エ	3点		
	5	ア	3点		
	6	ウ	3点		
	7	アルプス	2点		
	8	ア	2点		
	9	雪におおわれる冬の副業	4点	正答の一例である。	
	10	抑制	2点		
11	政令指定	3点			
3 33点	1	イ	2点		
	2	イ	2点		
	3	ウ	3点		
	4	歌舞伎	2点		
	5	公衆衛生	2点		
	6	(1)	地方自治	3点	漢字のみ正答とする。
		(2)	ア	3点	
		(3)	秘密	2点	
	7	エ	3点		
	8	(1)	消費者契約法	2点	
		(2)	ウ	3点	
(3)		貸し出しの利子を, 預金している人々に支払う利子よりも高くする	4点	正答の一例である。	
9	パリ協定	2点			