

学 力 検 査  
社 会

注 意

- 1 指示があるまでは、この用紙を開いてはいけません。
- 2 解答用紙は、この用紙の裏面です。
- 3 答えは、全て解答用紙に記入しなさい。ただし、の欄には、何も書いてはいけません。
- 4 検査問題は6ページで、問題は1から3まであります。

1 みなさんは、容器や食器などを通して見た日本と外国のつながりの歴史についてまとめを書いた。

1～10の問いに答えなさい。

[みなさんのまとめ]

《古代》

古墳時代に朝鮮半島から須恵器を作る技術がもたらされ、その後も遣隋使や遣唐使により中国大陸から様々なものが伝わった。中には、①西アジアやインドの文化の影響を受けた写真1のガラス製の容器や漆器の水さしなども見られ、それらは、東大寺の正倉院に②聖武天皇の使用した道具とともに納められている。

[写真1]

ガラス製の容器

ガラス製の容器

《中世》

室町時代には、南北朝の統一を実現した  が始めた日明貿易(勘合貿易)で、陶磁器などが大量に輸入され、日本からは漆器などが輸出された。貿易などにより産業も発達し、③農業では、あさやあいの栽培が広がり、手工業では陶器や鋳物の生産が盛んになった。

《近世》

④安土桃山時代に、朝鮮から伝わった技術を基に、写真2のような有田焼が作られ始め、⑤江戸時代のはじめにはヨーロッパに向けて輸出された。⑥江戸時代の後半には、陶磁器を専売制にして輸出する藩も現れるようになった。

[写真2]

有田焼の皿

有田焼の皿

《近代から現代》

⑦明治時代に近代化が進むと、欧米風の生活様式が広まり、洋風の食器の利用が増えた。⑧20世紀前半にプラスチックが登場すると、日本でも⑨第二次世界大戦後には、容器の素材として広まった。

1 下線①について、次の  ,  に当てはまる言葉の正しい組み合わせを、ア～エから一つ選び、符号で書きなさい。

ギリシャの文化とオリエントの文化が結び付いた  の文化の影響は、推古天皇の下で  となった聖徳太子が建てたとされる法隆寺の金堂の壁画などにも見ることができる。

ア a = ルネサンス b = 摂政      イ a = ヘレニズム b = 摂政

ウ a = ルネサンス b = 関白      エ a = ヘレニズム b = 関白

- 2 下線②の時代に、都を中心に栄え、仏教と唐の影響を強く受けた国際的な文化の名を書きなさい。
- 3  に当てはまる人物の名を書きなさい。
- 4 下線③について、一年の間に同じ田畑で米と麦を交互に作ることを何というか、漢字で書きなさい。
- 5 下線④について、(1)、(2)に答えなさい。

[資料]

(1) 資料は、豊臣秀吉が出した法令の一部を要約したものである。これにより行われた、兵農分離を進めるための政策の名を書きなさい。

諸国の百姓が刀やわきざし、弓、やり、鉄砲、そのほかの武具などを持つことは、かたく禁止する。

(2) この時代に見られた桃山文化について述べた文として最も適切なものを、ア～エから一つ選び、符号で書きなさい。

ア 雪舟が、自然などを表現する水墨画を完成させた。

イ 菱川師宣が、都市の町人の生活を基に浮世絵をえがいた。

ウ 狩野永徳が、ふすまや屏風に、はなやかな絵をえがいた。

エ 葛飾北斎が、錦絵で優れた風景画を残した。

6 下線⑤に、江戸幕府が大名を統制するため、大名が許可なく城を修理したり、大名どうしが無断で縁組をしたりすることなどを禁止した法律の名を書きなさい。

7 下線⑥について、江戸幕府にラクスマンやレザノフを使節として派遣し、日本との通商を求めた国を、ア～エから一つ選び、符号で書きなさい。

ア ロシア      イ フランス      ウ イギリス      エ アメリカ

8 下線⑦について、次の文を読んで、(1)、(2)に答えなさい。

近代化を進めた明治政府は、c が外務大臣のときに、イギリスとの間で領事裁判権の撤廃に成功した。日清戦争後、政府は軍備の拡張を中心に国力の充実を図ったが、議会で大規模な予算を承認してもらうために、政党の協力が必要となり、伊藤博文は自らd の結成に乗り出した。また、教育の普及が進み、グラフ1のように日清戦争直後には小学校の就学率が約e %となった。

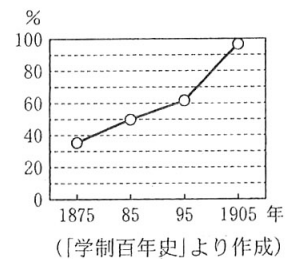
(1) c に当てはまる人物をア～エから一つ選び、符号で書きなさい。

ア 小村寿太郎      イ 井上馨      ウ 大隈重信      エ 陸奥宗光

(2) d , e に当てはまる言葉の正しい組み合わせを、ア～エから一つ選び、符号で書きなさい。

ア d = 自由党      e = 60      イ d = 自由党      e = 90  
 ウ d = 立憲政友会      e = 60      エ d = 立憲政友会      e = 90

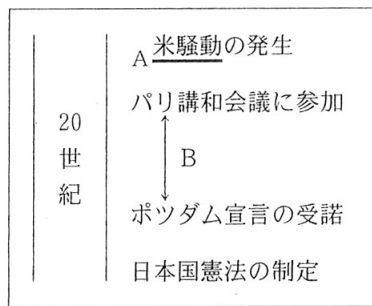
[グラフ1] 小学校の就学率



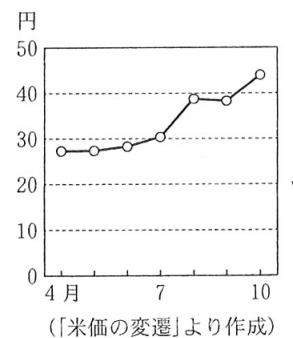
9 下線⑧について、(1)、(2)に答えなさい。

(1) 略年表の下線Aについて、次のf に当てはまる文を、グラフ2を参考にして、「買いしめ」、「価格」という二つの言葉を用いて、簡潔に書きなさい。

[略年表]



[グラフ2] 1918年4月から10月の一石あたりの米の価格



第一次世界大戦によって日本経済は好況となったが、物価が上がり、民衆の生活は苦しくなった。さらに1918年に、シベリア出兵を見こしたf ことに対して、米の安売りを求める騒動が全国に広まった。

(2) 表のア～エは、日本、アメリカ、フランス、ドイツのいずれかである。それぞれの国について、略年表のBの期間の出来事に当てはまる場合を○、当てはまらない場合を×で示している。日本に当たるものを、ア～エから一つ選び、符号で書きなさい。

[表] 略年表のBの期間の出来事

出来事	ア	イ	ウ	エ
ワシントン会議で四か国条約を結んだ。	×	○	○	○
国際連盟を脱退した。	○	○	×	×
ヤルタ会談に参加した。	×	×	○	×

10 次のア～ウは、下線⑨の期間に起こった日本の出来事である。これらの出来事を、年代の古い順に並べ、符号で書きなさい。

ア 国際連合に加盟した。  
 イ サンフランシスコ平和条約を結んだ。  
 ウ 沖縄が日本に復帰した。

2 たかしさんは、地理の授業で、ショッピングセンターの施設の様子や商品についてまとめを書いた。

1～9の問いに答えなさい。

[たかしさんのまとめ]

地球温暖化への対策として、①再生可能エネルギーである太陽光を利用した発電の設備があることに気づいた。

日本列島は、新しい造山帯の一つである  造山帯に属し、地震の発生が多いことから、地震による被害を少なくする工夫がされた家具が販売されていた。

日本で作られた製品のほかに、②BRICSの一つである中国や、③東南アジアの国々で作られた製品が多く見られた。

カナダ北部の写真展が開かれていた。一年の大半が雪や氷でおおわれ、樹木がほとんど育たない  の自然や、 と呼ばれる人々のイグルーでの伝統的な生活を知ることができた。

洋服などの生地には④京都市の友禅染を用いた商品などが見られ、伝統産業を生かすための工夫を知ることができた。

⑤日本の沿岸や外国でとれた魚、⑥国内外から仕入れられた農作物が販売されていた。

1 下線①について、再生可能エネルギーとして最も適切なものを、ア～エから一つ選び、符号で書きなさい。

ア 石炭      イ 天然ガス      ウ バイオマス      エ 石油

2  に当てはまる言葉を書きなさい。

3 下線②について、中国のほかに、21世紀に入り、広大な国土と多くの人口や資源をもち、急速に経済成長したBRICSに含まれるアジアの国を、ア～エから一つ選び、符号で書きなさい。

ア シンガポール      イ 韓国      ウ ベトナム      エ インド

4 下線③について、略地図1のI、II、グラフ1のIII、IVは、タイ、インドネシアのいずれかである。タイの正しい組み合わせを、ア～エから一つ選び、符号で書きなさい。

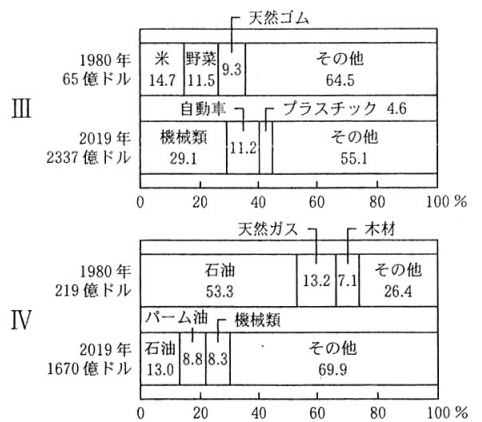
- ア 略地図1 = I      グラフ1 = III
- イ 略地図1 = I      グラフ1 = IV
- ウ 略地図1 = II      グラフ1 = III
- エ 略地図1 = II      グラフ1 = IV

[略地図1]



[グラフ1]

タイとインドネシアの輸出品の割合



([世界国勢図会 2021/22] などより作成)

5  は気温と降水量により分けられた五つの気候帯の一つである。 に当てはまる言葉を書き、漢字で書きなさい。

6  に当てはまる言葉を書き、ア～エから一つ選び、符号で書きなさい。

ア マオリ      イ メスチソ      ウ アボリジニ      エ イヌイット

7 下線④について、地形図を見て、(1)、(2)に答えなさい。

(1) 次の  に当てはまる方角を八方位で書きなさい。

地形図の●から  の方角に博物館の地図記号がある。

(2) 次の  に当てはまる都の名を書きなさい。

地形図にみられる、基盤の目のような通りや、二条や三条などの数字の付いた地名は、794年に桓武天皇によって新たな都として作られた  の名残である。

8 下線⑤について、次の文を読んで、(1)~(3)に答えなさい。

略地図2に示された都市の周辺では、魚介類の養殖が盛んである。

舞鶴市や宮古市の周辺には、沈水海岸の一つで奥行きのある湾と岬が連続する  海岸があり、岡山市を含む瀬戸内地方には、多くの島が点在している。一方で、これらの地域は海流や季節風などの影響から、A 降水量 や気温に違いが見られ、宮古市では、寒流の影響を受けたB やませ が吹いてくることにより冷夏となることがある。

(1)  に当てはまる言葉を書きなさい。

(2) 下線Aについて、表のC、Dは舞鶴市、岡山市、X、Yは1月、8月のいずれかである。岡山市と1月の降水量の正しい組み合わせを、ア~エから一つ選び、符号で書きなさい。

ア 岡山市=C 1月=X

イ 岡山市=D 1月=X

ウ 岡山市=C 1月=Y

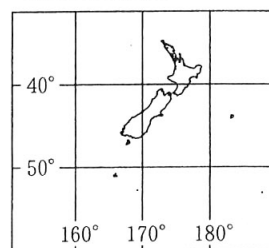
エ 岡山市=D 1月=Y

(3) 下線Bが吹いてくる方向を示した矢印として最も適切なものを、略地図2のア~エから一つ選び、符号で書きなさい。

9 下線⑥について、次の  に当てはまる文を、「赤道」、「季節」という二つの言葉を用いて、簡潔に書きなさい。

カボチャは主に夏から秋にかけて収穫される。略地図3とグラフ2を参考にすると、ニュージーランドは、 ことから、国内産のカボチャの入荷量が少なくなる時期に、ニュージーランド産の入荷量が増えていることがわかる。

[略地図3] ニュージーランド付近の緯度と経度

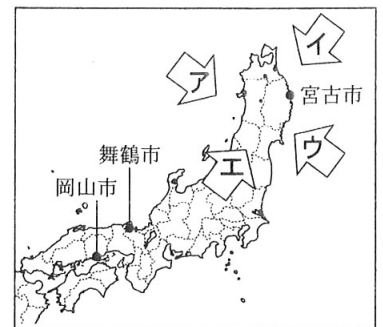


[地形図] 京都市



(国土地理院発行の2万5千分の1地形図「京都東北部」より作成。一部改変)

[略地図2]



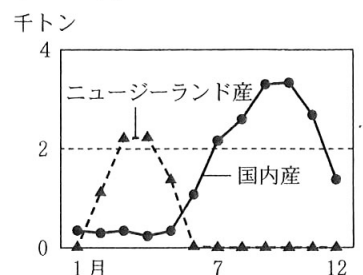
[表] 1991~2020年における宮古市、舞鶴市、岡山市の平均降水量

(単位: mm)

	X	Y	年降水量
宮古市	177.9	63.4	1370.9
C	97.2	36.2	1143.1
D	149.6	183.4	1941.2

(「気象庁資料」より作成)

[グラフ2] 東京都中央卸売市場のカボチャの入荷量(2019年)



(「東京都中央卸売市場統計」より作成)

3 えみさんとけんさんは、地域の課題について調査し、解決案を考えた。1～10の問いに答えなさい。

[えみさんが調査した地域の課題] 子育てをしている人が働くことができる職場が少ない

《課題に取り組む理由》

- ・全ての人が、やりがいや充実感をもって働き、仕事と個人の生活を両立できる **あ** を実現することを通して、  
① 人間らしい豊かな生活を送ることができる社会になると良いと考えたから。

《調査から分かったこと》

- ・② 出産後も子育てをしながら働きたいという希望をもつ人が多い。
- ・育児を支援したいが、雇用の維持に不安を抱える企業がある。

《解決案》

- ・③ 社会保障の財源となる④税による収入を増やし、保育園の充実や様々な働き方を支援する制度を設けるため、⑤海外の企業も含めて多くの企業の誘致を行うことを市に提案したい。

1 **あ** に当てはまる言葉を、ア～エから一つ選び、符号で書きなさい。

- ア フェアトレード      イ ワーク・ライフ・バランス  
ウ バリアフリー      エ ユニバーサルデザイン

2 下線①について、資料1に示された、社会権の一つである権利の名を、漢字で書きなさい。

3 下線②について、次の **a** , **b** に当てはまる言葉の正しい組み合わせを、ア～エから一つ選び、符号で書きなさい。

グラフのⅠ、Ⅱは、1985～1989年、2010～2014年のいずれかである。1991年に育児・介護休業法が、1999年に **a** が制定されたことなどから、2010～2014年には、一人目の子の出産後も仕事を継続した女性の割合は、約 **b** %となった。

- ア a = 男女雇用機会均等法      b = 53  
イ a = 男女雇用機会均等法      b = 39  
ウ a = 男女共同参画社会基本法      b = 53  
エ a = 男女共同参画社会基本法      b = 39

4 下線③について、えみさんは、税や保険料の国民負担と社会保障給付費の関係をまとめるため図1を作成した。現在の日本の状況を●の位置としたとき、次のことを行うと、日本の状況はどの位置に移動するか。図1のア～エから最も適切なものを一つ選び、符号で書きなさい。

医療保険の保険料を引き上げて、医療機関で支払う医療費の自己負担を少なくする。

5 下線④について、納税者と担税者が異なる税金として適切なものを、ア～エから一つ選び、符号で書きなさい。

- ア 相続税      イ 所得税      ウ 法人税      エ 消費税

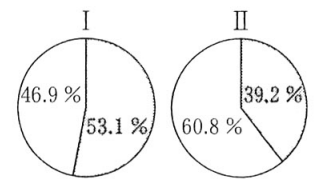
6 下線⑤について、次の **c** に当てはまる言葉を書きなさい。

離れた場所への送金には振り込みなどの **c** が利用される。また、海外の企業との取り引きなどでは、外国通貨の売買を行う市場を通じて、交換の比率である **c** 相場が決定される。

[資料1] 日本国憲法第25条の条文の一部

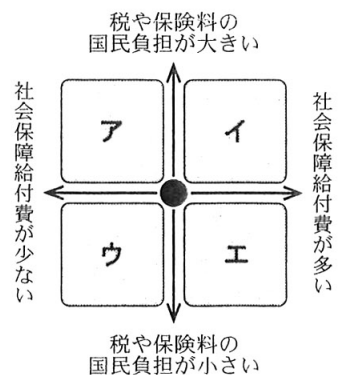
すべて国民は、健康で文化的な最低限度の生活を営む権利を有する。

[グラフ] 一人目の子の出産後に、仕事を継続した女性と退職した女性の割合



□ 出産後も仕事を継続  
□ 出産を理由に退職  
([「出生動向基本調査」より作成])

[図1] 国民の負担と社会保障給付費の関係



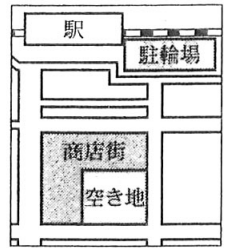
[けんさんが調査した地域の課題] 駅前の路上駐輪が通行の妨げとなっている

《課題に取り組む理由》

- ・身近な課題を考え、住民の⑥意見を反映させた住みやすい地域づくりに取り組むことが、⑦国際的な課題の解決に向けた持続可能な開発目標(SDGs)の実現につながると思ったから。

《調査から分かったこと》

- ・駅前には図2のように、駐輪場、商店街、空き地が見られる。
- ・駅前の駐輪場は、月ごとの⑧契約をした人が有料で利用できる。
- ・駐輪場を利用したい人数が駐輪可能台数を上回っている。月ごとの契約ができない人や商店街を利用する人の自転車が、路上に駐輪されている。



《解決案》

- ・駅や商店街を利用する人が便利になるように、無料の新しい駐輪場を空き地に作ることを、市に提案したい。このことは、土地を有効に活用し、駐輪可能台数の不足を解消するので、⑨効率と公正の考え方にもつながる。

7 下線⑥について、次の文を読んで、(1)~(3)に答えなさい。

主権をもつ国民が直接選んだ議員によって組織される国会は、国権の最高機関として重要な地位にあり、唯一の  機関である。衆議院は、参議院に比べ  ために、優越が認められている。

- (1)  に当てはまる言葉を書きなさい。
- (2)  に当てはまる文を、表を参考にして、「国民の意見」という言葉を用いて、簡潔に書きなさい。
- (3) 現在、18歳の有権者ができることを、ア~エから一つ選び、符号で書きなさい。

[表] 衆議院と参議院の任期と解散の有無

	任期	解散
衆議院	4年	あり
参議院	6年	なし

- ア 最高裁判所裁判官の国民審査      イ 市町村議会議員の選挙への立候補  
ウ 衆議院議員の選挙への立候補      エ 都道府県知事の選挙への立候補

8 下線⑦について、(1), (2)に答えなさい。

- (1) 先進国が発展途上国の開発などを支援するために行う、「政府開発援助」の略号を、大文字のアルファベット3字で書きなさい。
- (2) 国際的な人権保障の意識の高まりを背景に、1966年に国際連合で採択された、締約国に人権の保障を義務づけた規約の名を書きなさい。

9 下線⑧について、次の  に当てはまる言葉を書きなさい。

私たちの消費生活は契約によって成り立ち、契約上のトラブルから消費者を守る制度も整備されている。訪問販売などで商品を購入した場合、購入後8日以内であれば、買い手が売り手に資料2のような契約解除の通知書を送付することで、無条件で契約を取り消すことができる。この制度を  制度と呼ぶ。

[資料2]

クーリング・オフ  
通知書の例

10 下線⑨について、次の  ,  に当てはまる言葉の正しい組み合わせを、ア~エから一つ選び、符号で書きなさい。

ルールなどの決定には、全員が参加しているか、結果が不当に制限されていないかなどの  の考え方を意識しなければならない。しかし、一度に大勢が集まるのは難しく、複雑な物事の決定には適さないため、多くの国では、選挙で選ばれた代表者が集まって議会を作り、物事を話し合って決める  が採られている。

- ア g = 公正    h = 間接民主制      イ g = 効率    h = 間接民主制  
ウ g = 公正    h = 直接民主制      エ g = 効率    h = 直接民主制



# 社会解答用紙

□の欄には、何も記入しないこと。

1	1		
	2	文化	
	3		
	4		
	5	(1)	
		(2)	
	6		
	7		
	8	(1)	
		(2)	
9	(1)		
	(2)		
10	古い出来事 → 新しい出来事 → →		

2	1		
	2		
	3		
	4		
	5		
	6		
	7	(1)	
		(2)	
	8	(1)	
(2)			
(3)			
9			

3	1		
	2	権	
	3		
	4		
	5		
	6		
	7	(1)	
		(2)	
		(3)	
	8	(1)	
(2)			
9			
10			

◇MS(561-44)

◇MS(561-52)

受検番号		合計	
------	--	----	--



社会解答 計100点

(注)ここに示した以外の細部については、学校ごとに統一すること。

問題	正答	配点	備考		
1 34点	1	イ	3点		
	2	天平	2点		
	3	足利義満	2点		
	4	二毛作	3点	漢字のみ正答とする。	
	5	(1)	刀狩	2点	
		(2)	ウ	3点	
	6	武家諸法度	2点		
	7	ア	2点		
	8	(1)	エ	2点	
		(2)	ウ	3点	
9	(1)	米の買いしめから、米の価格が上がった	4点	正答の一例である。	
	(2)	イ	3点		
10	イ → ア → ウ	3点			
2 33点	1	ウ	3点		
	2	環太平洋	2点		
	3	エ	3点		
	4	ア	3点		
	5	寒帯	3点	漢字のみ正答とする。	
	6	エ	3点		
	7	(1)	南東	2点	
		(2)	平安京	2点	
	8	(1)	リアス(又は、リアス式)	2点	
(2)		ウ	3点		
(3)		イ	3点		
9	赤道より南にあり、日本と季節が反対になる	4点	正答の一例である。		
3 33点	1	イ	2点		
	2	生存	3点	漢字のみ正答とする。	
	3	ウ	3点		
	4	イ	3点		
	5	エ	2点		
	6	為替	3点		
	7	(1)	立法	2点	
		(2)	任期が短く、解散があることから、国民の意見を反映しやすい	4点	正答の一例である。
		(3)	ア	2点	
	8	(1)	ODA	2点	大文字のアルファベット3字のみ正答とする。
(2)		国際人権規約	2点		
9	クーリング・オフ	2点			
10	ア	3点			

令和4年度岐阜県公立高等学校入学者選抜の  
学力検査（社会）の問題用紙の訂正

該当箇所

○問題用紙

2 [グラフ1] タイとインドネシアの輸出品の割合

グラフ中の IV 2019年 石油 13.0



(正) 石炭 13.0