

学 力 検 査
社 会

注 意

- 1 指示があるまでは、この用紙を開いてはいけません。
- 2 解答用紙は、この用紙の裏面です。
- 3 答えは、全て解答用紙に記入しなさい。ただし、の欄には、何も記入してはいけません。
- 4 検査問題は6ページで、問題は1から3まであります。

1 あつしさんは、興味をもった貨幣を時代区分ごとに取り上げ、社会や文化の移り変わりについてまとめを書いた。1～10の問いに答えなさい。

[あつしさんのまとめ]

<p>古代 律令国家が発行した和同開珎</p> <p>和同開珎は、①中国の唐にならって、律令国家が発行した貨幣である。都として造られた②平城京には市が設けられ、地方の特産物などが売買された。</p> <p>奈良時代には、唐の制度や文化を取り入れようと、日本はたびたび中国に③遣唐使を送ったため、仏教と唐の文化の影響を強く受けた国際的な文化が栄えた。</p>	<p>和同開珎</p>	<p>中世 明から輸入された明銭(永楽通宝)</p> <p>明銭は、南北朝を統一した足利義満が始めた日明貿易(勘合貿易)で大量に輸入された貨幣である。明銭は、定期市での取り引きに使用されることが多くなり、④日本の商業の発展に影響を与えた。</p> <p>① I の後に各地に登場した戦国大名は、鉱山の開発を進め、やがて金貨や銀貨を造るようになった。</p>	<p>永楽通宝</p>
<p>近世 江戸時代に流通した寛永通宝</p> <p>寛永通宝は、江戸幕府が各地に設けた銭座で大量に造らせた貨幣である。江戸、⑤大阪、京都などの都市では、問屋や仲買などの大商人が、株仲間を作り、幕府の許可を得て営業を独占した。</p> <p>19世紀中頃に開国し、⑥外国との自由な貿易が始まると、日本の経済や産業は大きな影響を受けた。</p>	<p>寛永通宝</p>	<p>近代 明治政府が発行した20円金貨</p> <p>20円金貨は、1871年に、政府が発行した貨幣である。政府は、⑦近代化を目指す政策を進め、その土台となる欧米の文化を取り入れた。</p> <p>⑧日露戦争後、日本は関税自主権を回復し、第一次世界大戦にも連合国側で参戦するなど、列強としての⑨国際的地位を固めていった。</p>	<p>20円金貨</p>

1 下線①について、日本は、663年に略地図のAの復興を助けるために、唐と略地図のBの連合軍と白村江で戦った。略地図のBの国の名を、ア～エから一つ選び、符号で書きなさい。

ア 伽耶(任那) イ 高麗 ウ 百済 エ 新羅

2 下線②に都が置かれていた期間の出来事として最も適切なものを、ア～エから一つ選び、符号で書きなさい。

- ア 聖徳太子が、仏教や儒学の考え方を取り入れた十七条の憲法で、役人の心構えを示した。
 イ 聖武天皇と光明皇后が、仏教の力に頼って国家を守ろうと、都に大仏を造らせた。
 ウ 中大兄皇子が、中臣鎌足などとともに蘇我蝦夷・入鹿の親子を倒した。
 エ 藤原道長が、四人の娘を天皇のきさきにすることで権力を握った。

3 下線③とともに9世紀初めに唐に渡り、真言宗を日本に伝え、高野山に金剛峯寺を建てた人物の名を書きなさい。

4 下線④について、次の , に当てはまる言葉の正しい組み合わせを、ア～エから一つ選び、符号で書きなさい。

土倉や酒屋、商人や手工業者などは、同業者ごとに と呼ばれる団体を作り、武士や貴族、寺社に税を納めて保護を受け、営業を独占する権利を与えられた。また、商業の発展に伴い都市が発達し、九州の は、日明貿易や日朝貿易で栄え、自治が行われた。

- ア a=座 b=堺 イ a=惣 b=堺
 ウ a=座 b=博多 エ a=惣 b=博多

5 は、将軍のあとつぎ問題をめぐる細川氏と山名氏の対立から、京都を中心に11年にわたって続いた戦乱である。 に当てはまる戦乱の名を書きなさい。

6 下線⑤について、次の に当てはまる文化の名を書きなさい。

大阪や京都を中心とする上方では、都市の繁栄を背景に、経済力をもった町人をにない手とする文化が栄えた。井原西鶴は、武士や町人の生活を基に浮世草子を書き、近松門左衛門は、心中など現実に起こった事件を基に人形浄瑠璃の台本を書き、庶民の共感を呼んだ。この文化を、この時期の年号から という。

[略地図]

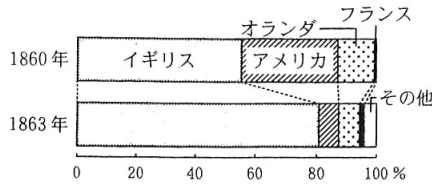
7世紀半ばの東アジア



7 下線⑥について、開国後、 [グラフ]

グラフのように、日本の貿易額に占めるアメリカの割合は低くなった。その原因となった略年表1の [d] に当てはまる出来事を、ア～エから一つ選び、符号で書きなさい。

貿易相手国と貿易額の割合



(「近代日本経済史要覧」より作成)

[略年表1]

年	出来事
1854	日米和親条約を結ぶ
1858	日米修好通商条約を結ぶ
1861	[d] が始まる

ア アメリカ南北戦争 イ アメリカの独立戦争 ウ アヘン戦争 エ ベトナム戦争

8 下線⑦について、次の文を読んで、(1)、(2)に答えなさい。

政府は、1872年に [e] を公布し、小学校から大学校までの学校制度を定めた。特に小学校での教育が重視され、満6歳になった男女を全て通わせることが義務になった。
また、政府は、国家の財政を安定させるために、1873年から地租改正を実施した。これまで収穫高を基準にして税をかけ、主に農民が米で税を納めていたが、この改革により、資料1のような地券を発行し、 [f] こととした。

[資料1]



- [e] に当てはまる言葉を、漢字で書きなさい。
- 地租改正によって税のかけ方と税の納め方はどのように変わったか。 [f] に当てはまることばを、「基準にして」、「土地の所有者」という二つの言葉を用いて、簡潔に書きなさい。

9 下線⑧について、(1)、(2)に答えなさい。

- 略年表2のXの期間に起きた次のア～ウの出来事を、年代の古い順に並べ、符号で書きなさい。

ア 日本が列強の一員として義和団を鎮圧する
イ 日英同盟を結ぶ
ウ 日本が遼東半島を清に返還する

- 略年表2の [Y] に当てはまる出来事を、ア～エから一つ選び、符号で書きなさい。

ア 柳条湖事件 イ 米騒動 ウ 五・一五事件

エ 日比谷焼き打ち事件

10 下線⑨について、(1)、(2)に答えなさい。

- 資料2は、日本、アメリカ、イギリス、ドイツの国際連盟への加盟状況を示している。日本に当たるものを、ア～エから一つ選び、符号で書きなさい。

[略年表2]

19世紀	日清戦争が始まる
	下関条約を結ぶ
20世紀	X
	日露戦争が始まる
	ポーツマス条約を結ぶ
	[Y] が起こる
	日本が韓国を併合する

- 国際連盟に代わり、第二次世界大戦後に国際連合が設立された。日本はある国との外交が進展したことによって国際連合への加盟が実現したが、その出来事を、ア～エから一つ選び、符号で書きなさい。

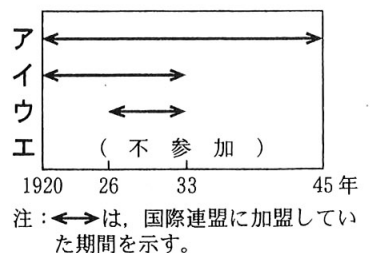
ア ドイツと同盟を結ぶ。

イ 中国との国交が正常化する。

ウ ソ連との国交が回復する。

エ 韓国との国交が正常化する。

[資料2]



注：←→は、国際連盟に加盟していた期間を示す。

- 2 けんさんのクラスでは、ある週の給食の献立に使用された主な食材に関連することを調べるために、表1のように班ごとにまとめた。1～10の問いに答えなさい。

[表1]

班	献立	主な食材	調べたいこと
A	米飯	米	①東アジアや東南アジアでは稲作が盛んで、米を主食にする地域が多い。東南アジアでは、地域の安定と発展のために②東南アジア諸国連合が結成され、日本も様々な分野で協力を進めている。アジアの国々と日本との経済協力について調べたい。
B	揚げだし豆腐	大豆	③給食の大豆は地元産を用いているが、日本は大豆の多くをアメリカやブラジルから輸入している。これらの国々では、④どのように農業が行われているのか、日本と比較して調べたい。
C	ビーフシチュー	牛肉	日本は牛肉の多くを、アメリカや⑤オーストラリアから輸入し、消費している。一方で、経済の発展が進むBRICSの一つである <input type="text" value="X"/> では、人口の80%以上が牛を神聖なものと考え、ヒンドゥー教を信仰し、多くの人が牛肉を食べない。このような、宗教と食との関係について調べたい。
D	ポテトサラダ	じゃがいも	じゃがいもは⑥アンデス山脈原産であり、ペルーでは100種類をこえるじゃがいもが栽培されている。標高の差を利用した人々の営みについて調べたい。
E	フルーツゼリー	桃	⑦果実は水はけの良い土地で栽培されることが多く、⑧高速道路などの交通網が整備されたことによって、大都市に短時間で出荷できるようになった。⑨交通の発達が生産や生活にもたらす影響について調べたい。

- 1 下線①について、次の に当てはまる風の名を書きなさい。

アジアの東部から南部にかけての海沿いの地域では、半年ごとに風向きが変化する が海から吹くことで降水量が多くなり、雨季となる。

- 2 下線②の略号を、大文字のアルファベット5字で書きなさい。

- 3 下線③について、地域の農業の活性化や地域への愛着を深めることを期待し、地元で作られた農林水産物を地元で消費することを何というか、漢字4字で書きなさい。

- 4 下線④について、B班はメモを書いた。
 に当てはまることばを、表2と資料を参考にして、「農地」、「大型機械」という二つの言葉を用いて、簡潔に書きなさい。

[B班のメモ]
日本とアメリカの農業経営を比べると、アメリカの農業の特色は、少ない労働力で という、企業的な農業が主流となっていることである。

- 5 下線⑤について、グラフ1のI、II、グラフ2のIII、IVは、それぞれ1960年、2016年のいずれかである。2016年の正しい組み合わせを、ア～エから一つ選び、符号で書きなさい。

- ア グラフ1 = I グラフ2 = III
イ グラフ1 = I グラフ2 = IV
ウ グラフ1 = II グラフ2 = III
エ グラフ1 = II グラフ2 = IV

- 6 に当てはまる国の名を書きなさい。

[表2] 日本とアメリカの農業経営の比較

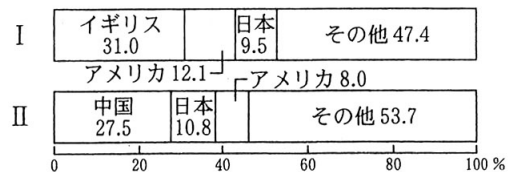
	日本	アメリカ
農民一人あたりの農地の面積(2012年)	3.7 ha	169.6 ha
農民一人あたりの機械の保有台数(2007年)	1.64 台	1.77 台

([FAOSTAT]より作成)

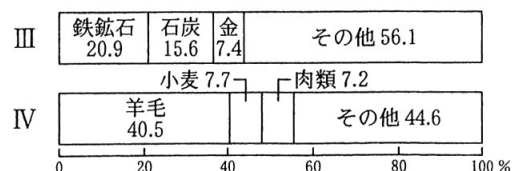
[資料] アメリカの大規模なかんがい農業

スプリンクラー たくさんのスプリンクラーがついた、長さ400mのかんがい装置が散水しながら動く。

[グラフ1] オーストラリアの貿易相手国の割合



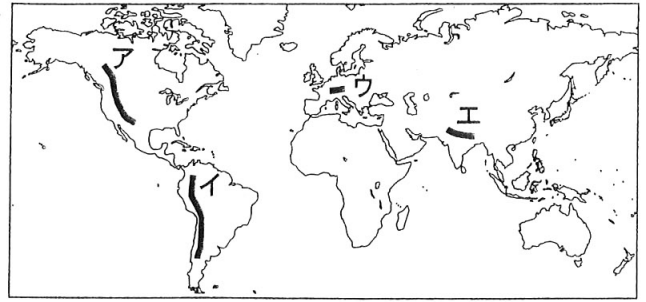
[グラフ2] オーストラリアの輸出品の割合



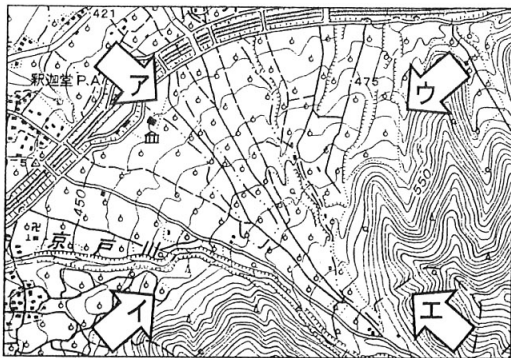
([国連資料]などより作成)

- 7 下線⑥の位置を、略地図1のア～エから一つ選び、符号で書きなさい。
- 8 下線⑦について、(1), (2)に答えなさい。
- (1) 地形図内に見られる、緩やかな傾斜をもつ地形の名を書きなさい。
- (2) 写真を撮影した方向を示す矢印として最も適切なものを、地形図のア～エから一つ選び、符号で書きなさい。

[略地図1]



[地形図] 山梨県甲州市・笛吹市



(国土地理院発行の2万5千分の1地形図「石和」より作成)

[写真] 地形図の一部を撮影した写真



- 9 下線⑧について、(1), (2)に答えなさい。
- (1) 日本の東北地方では、近年、略地図2の●で示したように、高速道路沿線の地域に工場が造られた。これらの工場で生産される製品を、ア～エから一つ選び、符号で書きなさい。
- ア 鉄鋼 イ 船舶 ウ 石油化学製品 エ 半導体
- (2) 次の , に当てはまる言葉の正しい組み合わせを、ア～エから一つ選び、符号で書きなさい。

交通網が整備された結果、大都市に人が引き寄せられる現象を という。交通の発達は、都市と農村の時間距離を が、その一方で、地方や農村の消費が落ち込み、経済を衰退させることもある。

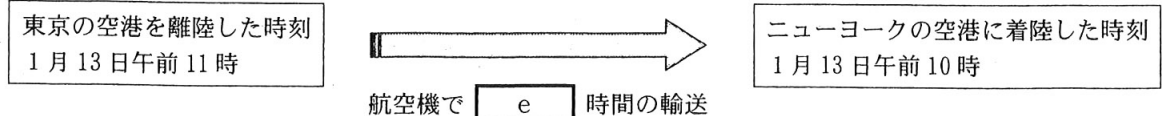
- ア c = ドーナツ化現象 d = 縮める イ c = ストロー現象 d = 縮める
 ウ c = ドーナツ化現象 d = 伸ばす エ c = ストロー現象 d = 伸ばす

- 10 下線⑨について、E班は航空交通の発達により、果実が海外に輸出されていることを調べ、メモを書いた。図を参考にして、 に当てはまる数字を書きなさい。

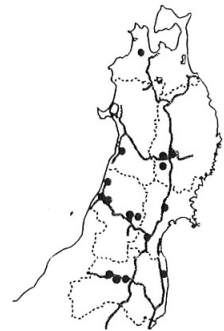
[E班のメモ]

日本からアメリカのニューヨークへ果実を輸送するときに、直行便を利用するとどのくらい時間がかかるのかを計算した。日本とニューヨークの時差は14時間である。図に示したように航空機で輸送する場合、計算上、輸送にかかる時間は 時間となる。

[図]



[略地図2] 東北地方の高速道路と工場の分布(2019年)



注：●は主な工場の所在地を、
 ——は高速道路を示す。
 (〔日本国勢図会 2020/21〕などより作成)

3 あすかさんのクラスでは、公民の授業で「誰もが幸せに暮らせる社会をつくろう」というテーマを設け、班ごとに探究活動を行った。1～11の問いに答えなさい。

《課題の把握》

日本は少子高齢化が進み、地域の人口減少や①家族の形の多様化がおきている。そこで、誰もが幸せに暮らせるように、人と人とのつながりや資源の有効活用を考え、持続可能な社会を形成していく必要がある。

《解決の方法を考える》

A班 企業を誘致する

資料1から、今後若者の数が減少していくと考えられる。若者にとって魅力のある②企業を誘致して、定住しやすくすることで、③地域住民を増やせないか。企業を誘致することは、④市の財源を増やすことや、地域の雇用を増やすことにつながり、市の経済が活性化すると考える。

B班 人と人とのつながりをつくる

資料2から、日本に住む外国人の数は、2008年の や2011年の東日本大震災の影響で一時減少したが、2006年と2016年を比べると、およそ %増加した。地域に多様な人々が増える中で、外国人や他の地域の人との交流機会、⑤高齢者と⑥子どもとの交流機会など、人と人とのつながりをつくる機会を増やせば、まちが活性化すると考える。

C班 資源を有効活用する

資料3は、2015年に⑦国際連合が定めた持続可能な開発目標の一つで、計画的な消費などに関する目標である。この目標を達成するために、スーパーマーケットなどで廃棄する食材やお弁当などを、食品ロス削減のアプリケーションを活用して安い⑧価格で必要な人に提供できないか。生ゴミを減らす取り組みが、持続可能な社会の形成につながると考える。

《提案の発信とまとめ》

各班で作成した提案を学校のウェブページに掲載するとともに、市役所に届けたい。私たちは⑨主権者として、⑩地方公共団体や国の政治、経済や社会全体のことをより広く学び、積極的に社会参画していきたい。

- 1 下線①について、親と子ども、あるいは夫婦だけの世帯を何というか、書きなさい。
- 2 下線②について、次の ～ に当てはまる言葉の正しい組み合わせを、ア～エから一つ選び、符号で書きなさい。

企業のうち、利潤を目的とする株式会社は に分類される。企業が、株式や債券を発行することで出資者から資金を借りることを 金融といい、銀行などを通じて資金を集めることを 金融という。

- ア a = 公企業 b = 直接 c = 間接 イ a = 公企業 b = 間接 c = 直接
ウ a = 私企業 b = 直接 c = 間接 エ a = 私企業 b = 間接 c = 直接

- 3 下線③について、次の に当てはまる言葉を、大文字のアルファベット3字で書きなさい。

地域住民が、自発的に、地域のために活動するボランティアが広がりを見せている。利益目的ではなく公共の利益のために自発的に活動する団体は (非営利組織)と呼ばれる。

- 4 下線④について、地方税などでまかなえない分を補う依存財源のうち、義務教育や道路整備など特定の費用の一部について国が負担する財源を、ア～ウから一つ選び、符号で書きなさい。

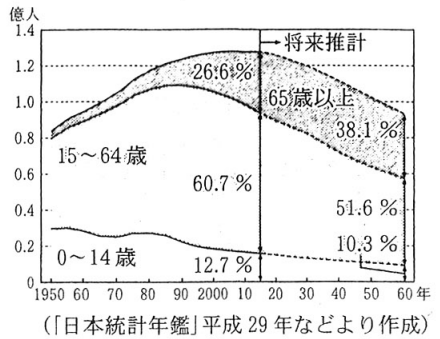
ア 地方交付税交付金 イ 国庫支出金 ウ 地方債

- 5 , に当てはまる言葉の正しい組み合わせを、ア～エから一つ選び、符号で書きなさい。

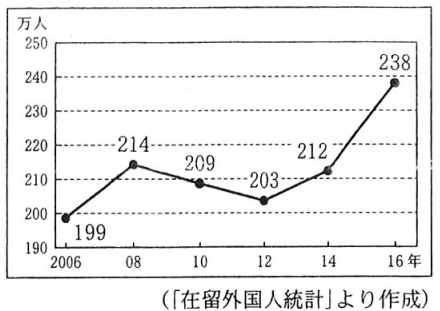
- ア I = 世界金融危機 II = 20 イ I = バブル経済崩壊 II = 20
ウ I = 世界金融危機 II = 50 エ I = バブル経済崩壊 II = 50

【資料1】


日本の人口と人口構成の変化



【資料2】 在留外国人数の変化



【資料3】



6 下線⑤について、老齢年金の給付などが行われることは、日本の社会保障制度の四つの柱のうち、どの種類に当たるか、ア～エから一つ選び、符号で書きなさい。

ア 公衆衛生 イ 公的扶助 ウ 社会福祉 エ 社会保険

7 下線⑥について、次の に当てはまる基本的人権を、ア～エから一つ選び、符号で書きなさい。

教育を受ける権利は、基本的人権のうち、生存権や勤労の権利とともに、人間らしい豊かな生活を保障する に含まれる。

ア 自由権 イ 社会権 ウ 平等権 エ 参政権

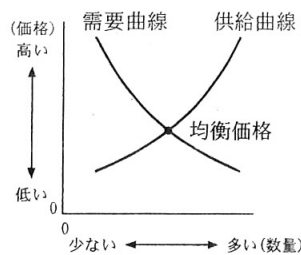
8 下線⑦の安全保障理事会では、常任理事国のうち1か国でも反対すると重要な問題について決議できないことになっている。常任理事国がもつこの権利を何というか、書きなさい。

9 下線⑧について、(1), (2)に答えなさい。

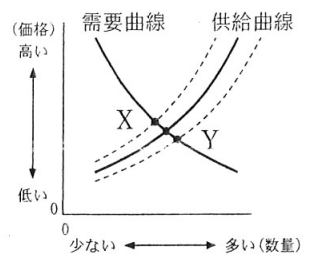
(1) 次の , に当てはまる言葉の正しい組み合わせを、ア～エから一つ選び、符号で書きなさい。

一般に、商品の価格は、需要量と供給量との関係で変化する。例えば、キャベツの需要量・供給量・価格が、グラフ1の関係にあるとする。大雪や冷害が起こると、キャベツの供給量が するため、一般に、グラフ1の均衡価格は、グラフ2の に移動する。

[グラフ1]



[グラフ2]



ア f = 減少 g = X イ f = 減少 g = Y ウ f = 増加 g = X エ f = 増加 g = Y

(2) 次の に当てはまる機関の名を書きなさい。

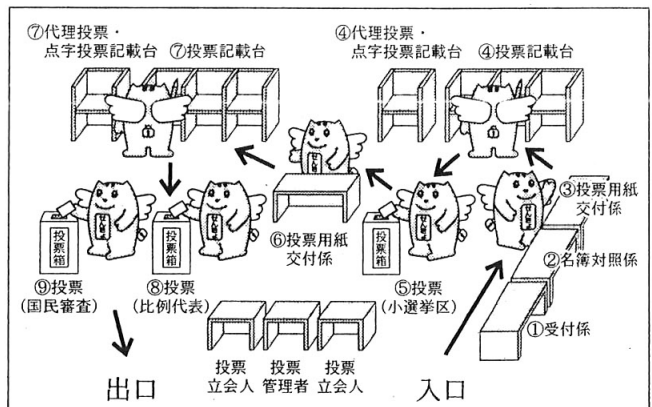
市場で商品を提供する企業が少ない状態を寡占という。寡占の場合は、価格競争が弱まり、消費者が不当に高い価格を支払わされることになりかねない。そこで、競争を促すために独占禁止法が制定され、 という機関がその運用に当たっている。

10 下線⑨について、(1), (2)に答えなさい。

(1) 図1は、ある年の衆議院議員の選挙の投票手順を表したものである。次の , に当てはまる言葉の正しい組み合わせを、ア～エから一つ選び、符号で書きなさい。

図1には投票箱が三つ設置されており、一つの選挙区で の代表を選ぶ小選挙区制の投票、得票に応じて各政党の議席数を決める比例代表制の投票、 裁判官の国民審査の、合計3回投票する。

[図1] 投票所での投票手順



(明るい選挙推進協議会ウェブページより作成)

ア i = 一人 j = 地方裁判所 イ i = 二人以上 j = 最高裁判所
ウ i = 一人 j = 最高裁判所 エ i = 二人以上 j = 地方裁判所

(2) 司法制度改革の一環として2009年から始まった、国民が裁判官とともに刑事裁判に参加する制度を何というか、漢字で書きなさい。

11 下線⑩について、地方公共団体の首長の選出方法と内閣総理大臣の選出方法にはどのような違いがあるか。図2を参考にして、「有権者」、「国会」という二つの言葉を用いて、簡潔に書きなさい。

[図2]



社会解答用紙

□の欄には、何も記入しないこと。

1	1		
	2		
	3		
	4		
	5		
	6	文化	
	7		
	8	(1)	
		(2)	
	9	(1)	古い出来事 → 新しい出来事
(2)			
10	(1)		
	(2)		

2	1		
	2		
	3		
	4	(1)	
		(2)	
	5		
	6		
	7		
	8	(1)	
		(2)	
9	(1)		
	(2)		
10	時間		

◇M5(182-44)

3	1	世帯	
	2		
	3		
	4		
	5		
	6		
	7		
	8		
	9	(1)	
		(2)	
	10	(1)	
(2)		制度	
11	(1)	地方公共団体の首長は有権者が直接選ぶが、内閣総理大臣は	
	(2)		

◇M5(152-52)

受検番号		合計	
------	--	----	--

社会解答 計100点

(注)ここに示した以外の細部については、学校ごとに統一すること。

問題	正答	配点	備考
1 34点	1 エ	2点	
	2 イ	2点	
	3 空海(又は、弘法大師)	2点	
	4 ウ	3点	
	5 応仁の乱	2点	
	6 元禄	2点	
	7 ア	3点	
	8(1) 学制	3点	漢字のみ正答とする。
	(2) 地価を基準にして税をかけ、土地の所有者が現金で税を納める	4点	正答の一例である。
	9(1) ウ → ア → イ	3点	
	(2) エ	2点	
	10(1) イ	3点	
	(2) ウ	3点	
2 33点	1 季節風(又は、モンスーン)	2点	
	2 ASEAN	2点	大文字のアルファベット5字のみ正答とする。
	3 地産地消	3点	漢字4字のみ正答とする。
	4 広大な農地を、大型機械を使って経営する	4点	正答の一例である。
	5 ウ	3点	
	6 インド	2点	
	7 イ	3点	
	8(1) 扇状地	2点	
	(2) ア	3点	
	9(1) エ	3点	
	(2) イ	3点	
10 13	3点		
3 33点	1 核家族	2点	
	2 ウ	3点	
	3 NPO	2点	大文字のアルファベット3字のみ正答とする。
	4 イ	2点	
	5 ア	3点	
	6 エ	2点	
	7 イ	2点	
	8 拒否権	2点	
	9(1) ア	3点	
	(2) 公正取引委員会	2点	
	10(1) ウ	3点	
(2) 裁判員	3点	漢字のみ正答とする。	
11 (地方公共団体の首長は有権者が直接選ぶが、内閣総理大臣は)有権者が選んだ国会議員からなる国会が指名する。	4点	正答の一例である。	