

平成30年学力検査

全 日 制 課 程 A

第 3 時 限 問 題

社 会

検査時間 11時20分から12時05分まで

「解答始め」という指示があるまで、次の注意をよく読みなさい。

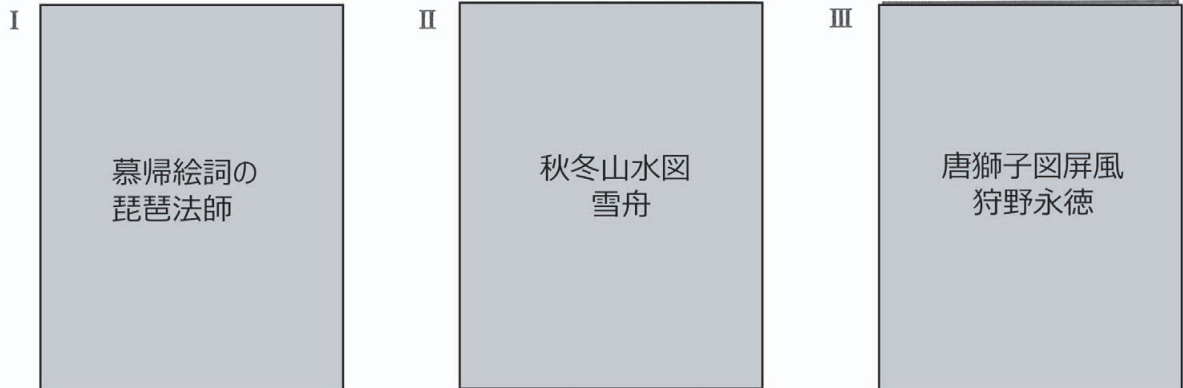
注 意

- (1) 解答用紙は、この問題用紙とは別になっています。
- (2) 「解答始め」という指示で、すぐ受検番号をこの表紙と解答用紙の決められた欄に書きなさい。
- (3) 問題は(1)ページから(10)ページまであります。表紙の裏と(10)ページの次からは白紙になっています。受検番号を記入したあと、問題の各ページを確かめ、不備のある場合は手をあげて申し出なさい。
- (4) 答えは全て解答用紙の決められた欄に書きなさい。
- (5) 印刷の文字が不鮮明なときは、手をあげて質問してもよろしい。
- (6) 「解答やめ」という指示で、書くことをやめ、解答用紙と問題用紙を別々にして机の上に置きなさい。

受検番号	第	番
------	---	---

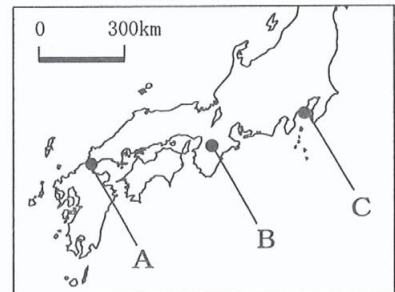
社 会

1 次のⅠ、Ⅱ、Ⅲの絵をみて、あとの(1)から(3)までの問いに答えなさい。



(1) Ⅰの絵は、琵琶法師が「平家物語」を語っているようすを描いたものである。右の略地図中のA、B、Cのうち、この物語に登場する平氏が滅ぼされた場所と、その一族を滅ぼした人物の組み合わせとして最も適当なものを、次のアからシまでのの中から選んで、そのかな符号を書きなさい。

(略地図)



- | | | | |
|-----------|-----------|-----------|----------|
| ア A, 明智光秀 | イ A, 足利義政 | ウ A, 藤原純友 | エ A, 源義経 |
| オ B, 明智光秀 | カ B, 足利義政 | キ B, 藤原純友 | ク B, 源義経 |
| ケ C, 明智光秀 | コ C, 足利義政 | サ C, 藤原純友 | シ C, 源義経 |

(2) 次の文は、Ⅱの絵が描かれた時代について述べたものである。文中の()にあてはまる最も適当なことばを、漢字3字で書きなさい。

実力のある者が、上の身分の者をたおして地位を奪う()の風潮が広がり、幕府の勢力はおとろえ、戦乱の時代がしばらく続いた。

(3) Ⅲの絵が描かれた年代とほぼ同じ時期に起こったできごとについて述べた文として最も適当なものを、次のアからエまでのの中から選んで、そのかな符号を書きなさい。

- ア 極楽浄土への強いあこがれから、阿弥陀仏を納める平等院鳳凰堂が建てられた。
- イ 日蓮が、法華經の題目を唱えれば人も国も救われると説いて、日蓮宗を開いた。
- ウ 豊臣秀吉は、国内統一のさまたげになると考え、宣教師の国外追放を命令した。
- エ アメリカやヨーロッパ諸国からの要求によって、キリスト教の禁止が解かれた。

2 次のⅠ、Ⅱ、Ⅲは、生徒が17世紀以降の日本と世界のできごとについて発表したときの資料の一部である。あとの(1)から(4)までの問いに答えなさい。

Ⅰ 17世紀以降の日本と世界のできごとに関する年表

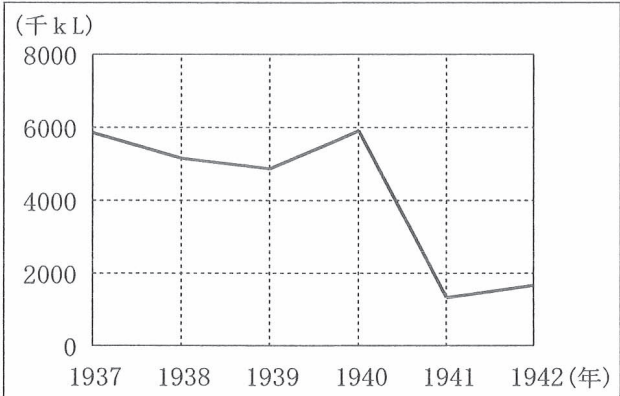
世紀	できごと
17	・日本がポルトガル船の来航を禁止した。
18	↕ A
19	・アメリカからペリーが来航した。
20	<div> <div>・日露戦争が起こった。</div> <div>↕ B</div> <div>・満州事変が起こった。</div> <div>↕ C</div> <div>・日本がポツダム宣言を受諾した。</div> <div>↕ D</div> <div>・第1回先進国首脳会議が開かれた。</div> </div>

Ⅱ 長崎での貿易の推移

年	入港できる清船 の上限（隻）	年間貿易額の 上限（貫）
1715	30	銀6 000
1765	13	銀3 510
1791	10	銀2 740

(注) 1貫はおよそ3.75kg。
 おおたかつや
 (太田勝也「長崎貿易」をもとに作成)

Ⅲ 日本の石油輸入量の推移



(「現代日本産業発達史Ⅱ 石油」をもとに作成)

(1) 次の文章は、生徒がⅠの年表中のAの時期の日本の貿易について、Ⅱの表を用いて発表したときのメモである。文章中の(①), (②)にあてはまることばの組み合わせとして最も適当なものを、下のアからエまでのの中から選んで、そのかな符号を書きなさい。

幕府は、この表のように長崎での貿易を管理することにより、銀の(①)を防いだ。18世紀の後半になると、老中の(②)が、海産物などの輸出品の開発に力を注ぎ、貿易を奨励した。

- ア ① 国内への流入, ② たぬまおきつぐ 田沼意次
 イ ① 国内への流入, ② みずのただくに 水野忠邦
- ウ ① 国外への流出, ② 田沼意次
 エ ① 国外への流出, ② 水野忠邦

(2) I の年表中のBの時期の日本とロシア（ソ連）との関係について述べた文として最も適当なものを、次のアからエまでの中から選んで、そのかな符号を書きなさい。

- ア 日本は、ロシア革命の影響が広がることをおそれて、シベリアに出兵した。
イ 日本は、ロシアとの間で樺太・千島交換条約を結び、ロシアに樺太の領有を認めた。
ウ ロシアは、ラクスマン（ラックスマン）を使節として派遣し、日本に通商を求めた。
エ ソ連は、日ソ中立条約を破って日本に宣戦し、満州や朝鮮などに侵攻した。

(3) 次の文章は、生徒がIの年表中のCの時期の日本とアメリカとの関係について、Ⅲのグラフを用いて発表したときのメモである。文章中の にあてはまる文を、「石油」、「日本」の二つのことばを用いて、10字以上15字以下で書きなさい。

日本がフランス領インドシナ南部に侵攻すると、アメリカは 。その後、日本は、アメリカとの交渉を繰り返したが、最後までまとまらなかった。

(4) 次の文章は、Iの年表中のDの時期の日本の外交について述べたものである。文章中の（ ① ）、（ ② ）、（ ③ ）にあてはまる国名の組み合わせとして最も適当なものを、下のアからカまでの中から選んで、そのかな符号を書きなさい。

日本は、（ ① ）など48か国と平和条約を結び、独立を回復した。その後、冷戦のもとで対立していた（ ② ）との国交を回復することにより、国際連合への加盟を果たした。しかし、（ ③ ）との関係改善には時間がかかり、1972年に国交を正常化した。

- | | | | |
|---|---------|---------|--------|
| ア | ① アメリカ, | ② ソ連, | ③ 中国 |
| イ | ① アメリカ, | ② 中国, | ③ ソ連 |
| ウ | ① ソ連, | ② アメリカ, | ③ 中国 |
| エ | ① ソ連, | ② 中国, | ③ アメリカ |
| オ | ① 中国, | ② アメリカ, | ③ ソ連 |
| カ | ① 中国, | ② ソ連, | ③ アメリカ |

3 次のⅠの表は、日本のおもな港の輸出額、輸入額それぞれの上位3品目とその額を示したものであり、Ⅱの地形図は、神戸市の一部を示したものである。あとの(1)から(3)までの問いに答えなさい。


なお、Ⅰの表中のA、B、C、Dは、神戸港、東京港、名古屋港、横浜港のいずれかである。

Ⅰ おもな港の輸出額、輸入額それぞれの上位3品目とその額

港名	輸出品目	輸出額 (億円)	輸入品目	輸入額 (億円)
A	自動車	17 019	衣類	1 725
	自動車部品	3 574	液化ガス	1 722
	内燃機関	2 687	アルミニウム	1 462
	総額	68 847	総額	37 999
B	プラスチック	3 325	衣類	1 912
	建設・鉱山用機械	2 726	たばこ	1 250
	織物類	1 820	無機化合物	1 200
	総額	51 101	総額	29 008
C	自動車	28 576	衣類	3 499
	自動車部品	18 000	液化ガス	3 215
	内燃機関	4 306	石油	2 922
	総額	107 455	総額	44 804
D	自動車部品	3 402	衣類	8 915
	コンピュータ部品	3 028	コンピュータ	5 429
	プラスチック	2 748	魚介類	4 762
	総額	58 204	総額	105 873

(「日本国勢図会 2017/18年版」による)

Ⅱ 神戸市の地形図 (縮尺 2 万 5 千分の 1)



ものさし

(1) I の表中の D が位置する都県にあたる地域で起こったできごとについて述べた文として最も適当なものを、次のアからエまでのの中から選んで、そのかな符号を書きなさい。

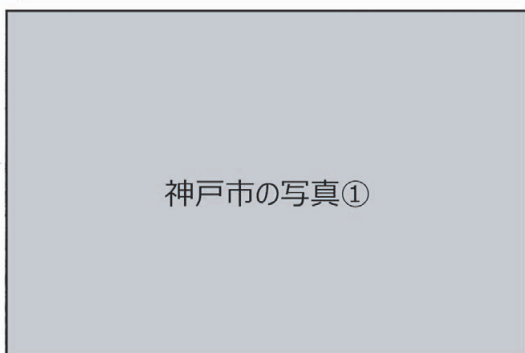
- ア 平安時代に、平^{たいらの}清盛が日宋貿易を進めるために、兵庫の港などを整備した。
- イ 鎌倉時代に、幕府がおかれ、北条^{ほうじょう}氏が執権という地位について政治を行った。
- ウ 戦国時代に、織田^{おだ}信長が長篠の戦いで足軽の鉄砲隊を活用した戦法により勝利した。
- エ 江戸時代に、三井^{みつい}家が越後屋呉服店を開き、新しい商法により大きな富を築いた。

(2) II の地形図から読み取ることができる内容について述べた文として最も適当なものを、次のアからエまでのの中から選んで、そのかな符号を書きなさい。

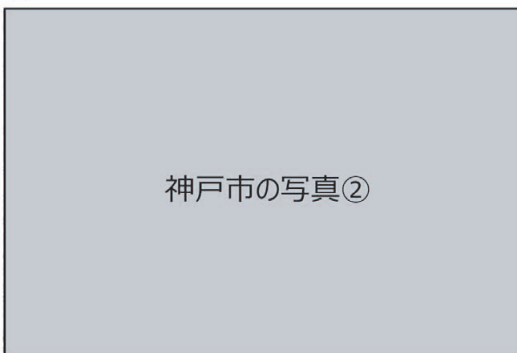
- ア 三ノ宮駅からみて、ほぼ北東の方角に元町駅がある。
- イ 県庁と市役所は、直線距離で約 1 km 離れている。
- ウ 諏訪山の北側の斜面に、神社が二つある。
- エ a 地点と b 地点の標高差は、100m 以下である。

(3) 次の W, X, Y, Z の写真は、II の地形図中に示された①から④までの●の各地点で→→の方向に向けて撮影したものである。①、③の地点で撮影した写真として最も適当なものを、W から Z までのの中からそれぞれ選んで、その符号を書きなさい。

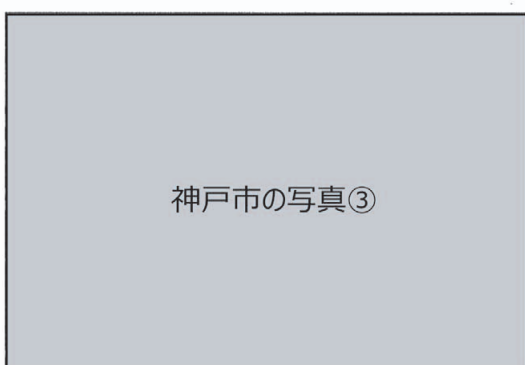
W



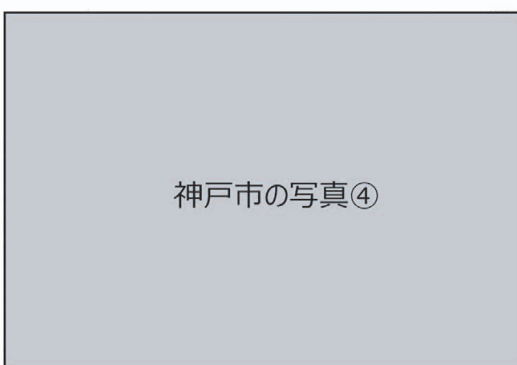
X



Y



Z



4 次のⅠの表は、ヨーロッパのおもな国の到着旅行客数等を示しており、ⅡのX、Yのグラフは、Ⅰの表中のA、B、C、Dのうちの2国の首都の月別平均気温と月別降水量を示している。また、Ⅲの略地図は、ヨーロッパを含む地域を描いたものであり、略地図中の二つの●は、ⅡのX、Yのグラフで示された首都の位置を示している。あとの(1)から(3)までの問いに答えなさい。

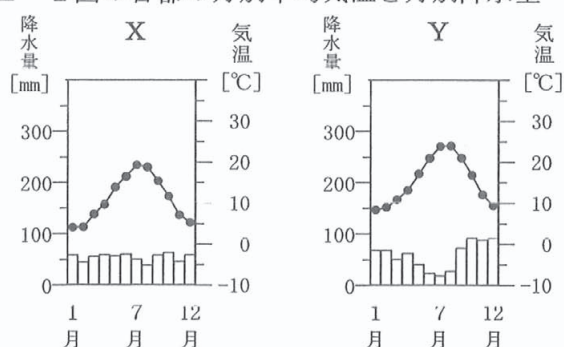
なお、Ⅰの表中のA、B、C、Dは、イギリス、イタリア、ドイツ、フランスのいずれかである。

Ⅰ ヨーロッパのおもな国の到着旅行客数、人口、小麦生産量、ぶどう生産量、原油生産量、自動車生産台数

国名	到着 旅行客数 (千人)	人口 (千人)	小麦 生産量 (千t)	ぶどう 生産量 (千t)	原油 生産量 (万t)	自動車 生産台数 (千台)
A	83 013	64 668	38 967	5 541	79	1 970
B	46 360	59 801	7 142	8 010	550	1 014
C	31 084	65 111	16 621	1	3 846	1 682
D	30 410	80 682	27 785	1 140	264	6 033

(「世界国勢図会 2016/17年版」などによる)

Ⅱ 2国の首都の月別平均気温と月別降水量



(「理科年表 平成29年版」などによる)

Ⅲ 略地図



(注) 国境線は一部省略している箇所がある。

(1) 次の①、②の資料は、ⅡのX、Yのグラフで示された首都にある建造物の写真と、それらの建造物についての説明文である。①、②の資料の建造物がある首都名を、それぞれカタカナで書きなさい。また、それぞれの首都の月別平均気温と月別降水量を示したグラフを、ⅡのX、Yの中から選んで、それぞれ符号で書きなさい。

①

イタリア・ローマ
コロッセオの写真

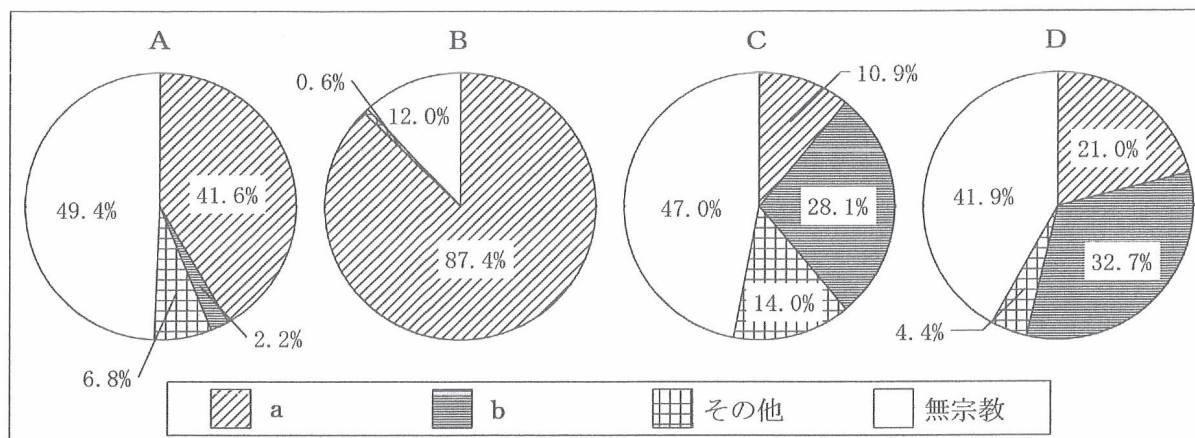
ヨーロッパを広く支配した大帝国が紀元1世紀につくった闘技場で、多くの市民が集まりました。

②

フランス・パリ
凱旋門の写真

ナポレオン皇帝が、戦いの勝利を記念してつくらせた凱旋門で、シャンゼリゼ通りにあります。

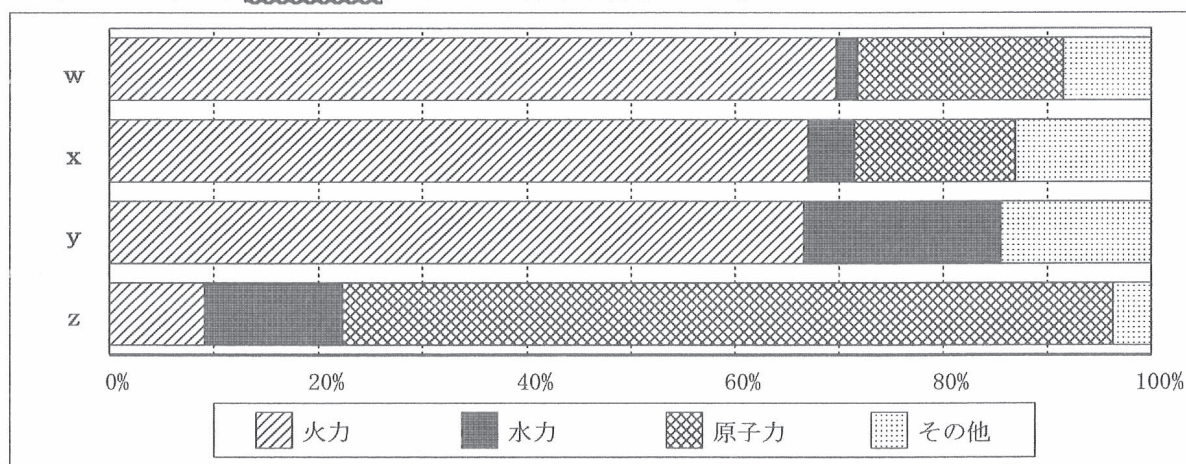
(2) 次のグラフは、Iの表中のA、B、C、Dの宗教別人口割合をそれぞれ順に示したものである。グラフのa、bにあてはまることばの組み合わせとして最も適当なものを、下のアからカまでの中から選んで、そのかな符号を書きなさい。



(「World Value Survey 2005-2009」をもとに作成)

- ア a イスラム教, b カトリック イ a イスラム教, b プロテスタント
 ウ a カトリック, b イスラム教 エ a カトリック, b プロテスタント
 オ a プロテスタント, b イスラム教 カ a プロテスタント, b カトリック

(3) 次のグラフは、Iの表中のA、B、C、Dの発電量の割合を示したものであり、グラフのw、x、y、zは、4国いずれかの国名を示している。また、下の文章は、このグラフについて述べたものである。A、B、C、Dとw、x、y、zの組み合わせとして適当なものを、あとのアからクまでの中から二つ選んで、そのかな符号を書きなさい。



(「データブック オブ・ザ・ワールド 2017」をもとに作成)

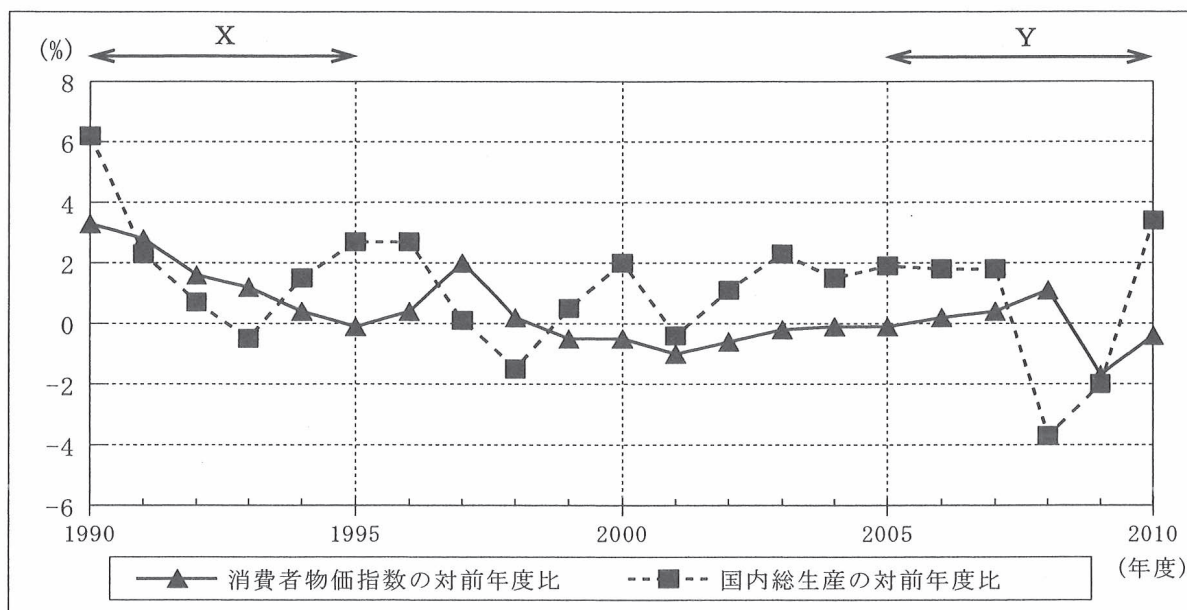
水力の割合が10%を超えているのは、イタリアとフランスであり、このうち、イタリアはその他の割合も10%を超えている。原子力の割合は、ドイツよりイギリスの方が高い。

- ア A : w イ A : x ウ B : y エ B : z
 オ C : w カ C : x キ D : y ク D : z

5 次の文章を読んで、あとの(1)から(4)までの問いに答えなさい。

日本では、1990年代以降、景気の低迷が続き、政府や日本銀行は、さまざまな景気対策をとった。また、国内での消費が伸び悩むなか、小売業では、販売方法を消費者のニーズに合わせて売上を伸ばそうとする企業が増えた。

- (1) 次のグラフは、1990年代以降の消費者物価指数の対前年度比と国内総生産の対前年度比の推移を示したものである。グラフのX、Yの時期に起こったできごとの組み合わせとして最も適切なものを、下のアからカまでのの中から選んで、そのかな符号を書きなさい。



(「数字でみる日本の100年 改訂第6版」などをもとに作成)

- ア X 世界金融危機, Y 石油危機 イ X 世界金融危機, Y バブル経済崩壊
 ウ X 石油危機, Y 世界金融危機 エ X 石油危機, Y バブル経済崩壊
 オ X バブル経済崩壊, Y 世界金融危機 カ X バブル経済崩壊, Y 石油危機

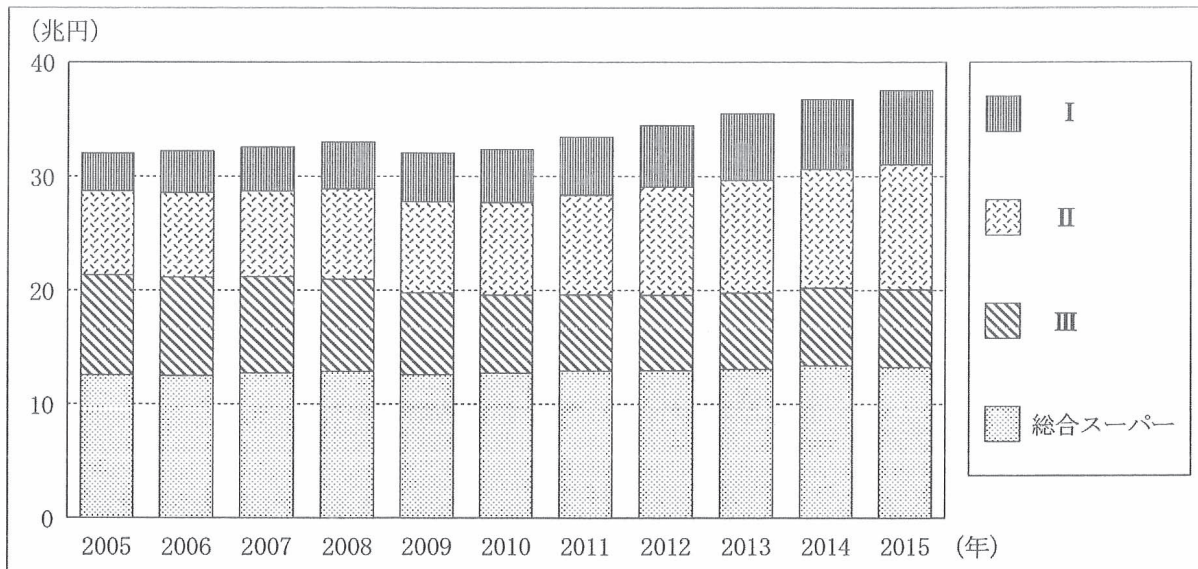
- (2) 日本銀行の景気対策について述べた次の文章中の(A), (B), (C)にあてはまることばの組み合わせとして最も適切なものを、下のアからクまでのの中から選んで、そのかな符号を書きなさい。

日本銀行は、国債などを銀行から買ったり、銀行に売ったりする(A)を行う。一般に、不景気(不況)のときには、日本銀行が国債を(B)傾向を強めるため、資金量の増えた銀行は企業に貸し出す際の金利を(C)ようになり、企業の生産活動は活発化する。

- ア A 金融政策, B 売る, C 上げる イ A 金融政策, B 売る, C 下げる
 ウ A 金融政策, B 買う, C 上げる エ A 金融政策, B 買う, C 下げる
 オ A 財政政策, B 売る, C 上げる カ A 財政政策, B 売る, C 下げる
 キ A 財政政策, B 買う, C 上げる ク A 財政政策, B 買う, C 下げる

- (3) 次のグラフは、おもな小売業の年間売上額の推移を示したものであり、下の文は、このグラフについて述べたものである。グラフのⅠ、Ⅱ、Ⅲにあてはまることばの組み合わせとして最も適当なものを、あとのアからカまでのの中から選んで、そのかな符号を書きなさい。

なお、グラフのⅠ、Ⅱ、Ⅲは、コンビニエンスストア、通信販売、百貨店のいずれかである。



(経済産業省「商業動態統計調査」などをもとに作成)

コンビニエンスストアと通信販売の売上額は、いずれも伸びており、2015年には、コンビニエンスストアの売上額と総合スーパーの売上額との差が、約2兆円に縮まっている。

- | | | | |
|---|---------------|---------------|--------------|
| ア | Ⅰ コンビニエンスストア, | Ⅱ 通信販売, | Ⅲ 百貨店 |
| イ | Ⅰ コンビニエンスストア, | Ⅱ 百貨店, | Ⅲ 通信販売 |
| ウ | Ⅰ 通信販売, | Ⅱ コンビニエンスストア, | Ⅲ 百貨店 |
| エ | Ⅰ 通信販売, | Ⅱ 百貨店, | Ⅲ コンビニエンスストア |
| オ | Ⅰ 百貨店, | Ⅱ コンビニエンスストア, | Ⅲ 通信販売 |
| カ | Ⅰ 百貨店, | Ⅱ 通信販売, | Ⅲ コンビニエンスストア |

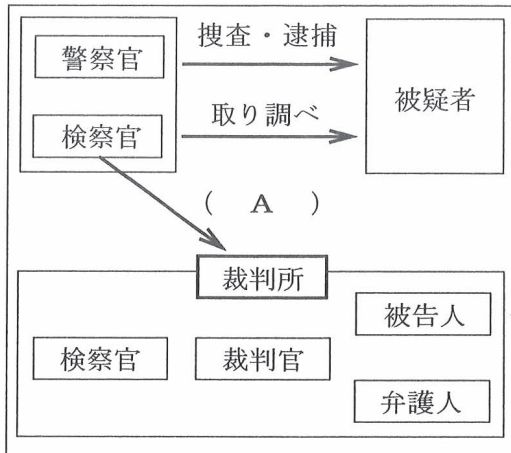
- (4) 消費者の権利を守るための取組について述べた文として誤っているものを、次のアからエまでの中から一つ選んで、そのかな符号を書きなさい。

- ア 消費者が欠陥商品による被害を受けた場合に、その責任を生産者が負うことを定めた製造物責任法（PL法）が制定された。
- イ 訪問販売などで商品を購入した場合に、一定期間内であれば契約を取り消すことができるリコール制度が導入された。
- ウ 消費者保護政策をいっそう強化するため、消費者に関する行政を一元化した消費者庁が設置された。
- エ 消費者の権利などの基本理念を定めるとともに、行政と企業の責任を定めた消費者基本法が制定された。

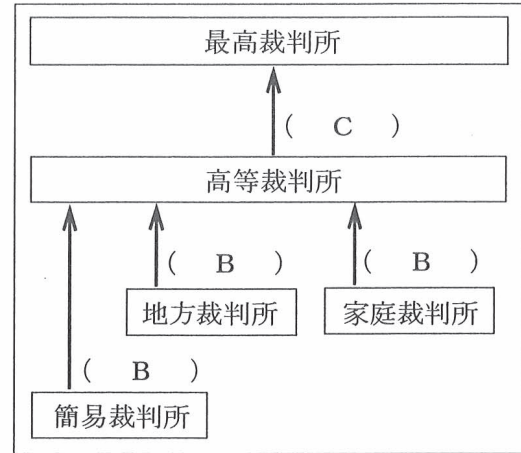
- 6 次のⅠ、Ⅱの図は、刑事裁判までの流れと刑事裁判における三審制のしくみをそれぞれ模式的に示したものである。あとの(1)から(3)までの問いに答えなさい。

なお、Ⅱの図中の3か所の(B)には、同じことばがあてはまる。

Ⅰ 刑事裁判までの流れ



Ⅱ 刑事裁判における三審制のしくみ



- (1) Ⅰ、Ⅱの図中の(A)、(B)、(C)にあてはまることばの組み合わせとして最も適当なものを、次のアからカまでのの中から選んで、そのかな符号を書きなさい。

- ア A 起訴, B 控訴, C 上告 イ A 起訴, B 上告, C 控訴
ウ A 控訴, B 起訴, C 上告 エ A 控訴, B 上告, C 起訴
オ A 上告, B 起訴, C 控訴 カ A 上告, B 控訴, C 起訴

- (2) 刑事事件や刑事裁判に関して述べた文として誤っているものを、次のアからエまでのの中から一つ選んで、そのかな符号を書きなさい。

- ア 被疑者であっても、裁判官の出す令状がなければ、現行犯の場合を除いて逮捕されない。
イ 被疑者には、刑事事件の取り調べにおいて、黙秘する権利が認められている。
ウ 地方裁判所では、重大な犯罪にかかわる裁判を裁判員制度の対象とすることができない。
エ 刑事裁判においては、被告人は、有罪の判決を受けるまで無罪と推定される。

- (3) 次の文は、日本の裁判における原則についてまとめたものである。文中の()にあてはまる最も適当なことばを、漢字3字で書きなさい。

なお、文中の2か所の()には、同じことばがあてはまる。

日本国憲法には、「すべて()は、最高裁判所及び法律の定めるところにより設置する下級裁判所に属する」(第76条)と規定されており、国会や内閣が裁判所の活動に対して圧力や干渉を加えてはならない「()の独立」という原則が保障されている。

(問題はこれで終わりです。)

第3時限

社

会

1	(1)		(2)		※ 1 1点×3 <div style="border: 1px dashed black; height: 40px; width: 100%;"></div>
	(3)				

2	(1)						(2)					
	(3)											
	(4)											

※ 2

1点×3
2点×1

3	(1)		(2)		※ 3 1点×3 <div style="border: 1px dashed black; height: 40px; width: 100%;"></div>
	(3)	① () ③ ()			

4	(1)	① 首都名 () 符号 () ----- ② 首都名 () 符号 ()		※ 4 1点×2 2点×1 <div style="border: 1px dashed black; height: 40px; width: 100%;"></div>
	(2)		(3) () ()	

5	(1)		(2)		※5 1点×4 <div style="border: 1px dashed black; height: 40px; width: 100%;"></div>
	(3)		(4)		

6	(1)		(2)		※6 1点×3 <div style="border: 1px dashed black; height: 40px; width: 100%;"></div>
	(3)				

受検番号	第	番	得点	※
------	---	---	----	---

(注) ※印欄には何も書かないこと。

1	(1)	エ	(2)	下剋上
	(3)	ウ		

2	(1)	ウ	(2)	ア
	(3)	日 本 へ の 石 油 の 輸 出 を		
		禁 止 し た		
	(4)	ア		

3	(1)	エ	(2)	イ
	(3)	① (Y) ③ (X)		

4	(1)	① 首都名 (ローマ) 符号 (Y)		
		② 首都名 (パリ) 符号 (X)		
	(2)	エ	(3)	(ウ) (オ)

5	(1)	オ	(2)	エ
	(3)	ウ	(4)	イ

6	(1)	ア	(2)	ウ
	(3)	司法権		