

平成29年学力検査

全 日 制 課 程 B

第 3 時 限 問 題

社 会

検査時間 11時20分から12時05分まで

「解答始め」という指示があるまで、次の注意をよく読みなさい。

注 意

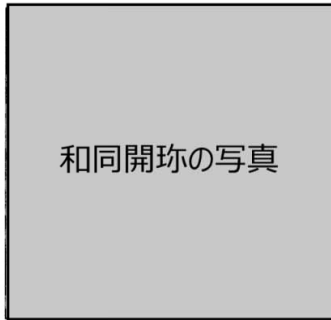
- (1) 解答用紙は、この問題用紙とは別になっています。
- (2) 「解答始め」という指示で、すぐ受検番号をこの表紙と解答用紙の決められた欄に書きなさい。
- (3) 問題は(1)ページから(10)ページまであります。表紙の裏と(10)ページの次からは白紙になっています。受検番号を記入したあと、問題の各ページを確かめ、不備のある場合は手をあげて申し出なさい。
- (4) 答えは全て解答用紙の決められた欄に書きなさい。
- (5) 印刷の文字が不鮮明なときは、手をあげて質問してもよろしい。
- (6) 「解答やめ」という指示で、書くことをやめ、解答用紙と問題用紙を別々にして机の上に置きなさい。

受検番号	第	番
------	---	---

社 会

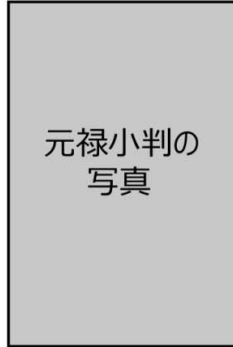
1 次のⅠ、Ⅱ、Ⅲの写真を見て、あとの(1)から(3)までの問いに答えなさい。

Ⅰ



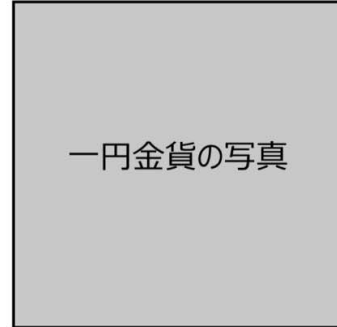
和同開珎の写真

Ⅱ



元禄小判の
写真

Ⅲ



一円金貨の写真

(1) 次の文章は、Ⅰの和同開珎が最初につくられた年代より前に勢力をもっていた大和政権（ヤマト王権）について生徒がまとめたメモの一部である。文章中の にあてはまる文として最も適当なものを、下のアからエまでの中から選んで、そのかな符号を書きなさい。

近畿地方を中心とする大和政権（ヤマト王権）の権力は、広い地域に及んでいたことが明らかになっています。それは、 ことから、うかがうことができます。

- ア 漢の皇帝から「漢委奴国王」と刻まれた金印が与えられた
- イ 御家人との間に、御恩と奉公の関係が成り立っていた
- ウ 地方の有力者の墓から、大王の名を刻んだ鉄剣や鉄刀が出土した
- エ 蝦夷が住んでいた東北地方に向けて征夷大將軍を派遣した

(2) Ⅱの元禄小判は、財政を補うために質を落としてつくられ、のちの物価上昇の原因となった。これが最初につくられた年代とほぼ同じ時期に起こったできごとについて述べた文として最も適当なものを、次のアからエまでの中から選んで、そのかな符号を書きなさい。

- ア 裁判を公平に行うための基準などを示した御成敗式目が定められた。
- イ 人々に極端な動物愛護を求める生類憐みの令が出された。
- ウ 商工業の発展をはかるため、楽市・楽座の政策がとられた。
- エ 株仲間を解散させ、都市に流入した人々を農村に帰らせた。

(3) Ⅲの1円金貨が最初につくられたころ、日本の通貨の単位が円・銭・厘に統一された。次の文章は、そのころ始まった税制改革について述べたものである。文章中の () にあてはまることばを、漢字4字で書きなさい。

政府は、地価を定めて土地所有者に地券を発行し、地価の3%にあたる額を、現金で納めさせる () とよばれる税制改革を行った。しかし、その負担が重かったことから、これに反対する一揆が各地で起こり、政府は、税率を地価の2.5%に引き下げた。

2 次のⅠ、Ⅱ、Ⅲ、Ⅳの文を読んで、あとの(1)から(4)までの問いに答えなさい。

なお、Ⅰの文中の2か所の()には、同じことばがあてはまる。

Ⅰ	あしかがよしみつ 足利義満は、()から倭寇の取りしまりを求められたため、正式な貿易船に() から与えられた証明書をもたせた。 ^①
Ⅱ	とよとみひでよし 豊臣秀吉は、朝鮮に大軍を送り、首都の漢城を占領したが、亀甲船を使用した朝鮮の水軍 に補給路を断たれて苦戦した。 ^②
Ⅲ	新政府の方針に不満をもった旧幕府軍は、鳥羽・伏見で新政府軍との戦いを起こしたが、 新政府軍に敗れた。 ^③
Ⅳ	朝鮮で甲午農民戦争が起こり、朝鮮が清に出兵を求めると、日本は、これに対抗して朝鮮 に出兵した。 ^④

(1) 次のA、B、C、Dの資料は、生徒がアジアの外交や貿易などについてまとめたものである。

Ⅰの文中の()にあてはまる中国の王朝名と、倭寇に関係の深い二つの資料の組み合わせとして最も適当なものを、下のアからクまでの中から選んで、そのかな符号を書きなさい。^①

A

石罫の写真

博多湾沿いに石で築かれています。

B

倭寇の絵画

船上での戦いが描かれています。

C

勘合符の写真

文字の左半分だけが記されています。

D

朱印状の写真

朱色の印が押されています。

ア 王朝名：元、資料：A、C

イ 王朝名：元、資料：A、D

ウ 王朝名：元、資料：B、C

エ 王朝名：元、資料：B、D

オ 王朝名：明、資料：A、C

カ 王朝名：明、資料：A、D

キ 王朝名：明、資料：B、C

ク 王朝名：明、資料：B、D

(2) 豊臣秀吉が、関白に任命された年代とほぼ同じ時期の文化について述べた文として最も適切なものを、次のアからエまでのの中から選んで、そのかな符号を書きなさい。

ア 千利休せんりのりきゆうが、質素なわび茶の作法を完成させ、茶の湯を大成した。

イ 葛飾北斎かつしかほくさいが、浮世絵において、すぐれた風景画を残した。

ウ 運慶うんけいが、写実的で力強い金剛力士像などの彫刻をつくった。

エ 観阿弥かんあみと世阿弥ぜあみが、田楽や猿楽を能（能楽）として大成した。

(3) 次のW, X, Y, Zの4枚のカードは、生徒が城についてまとめたものである。旧幕府軍と新政府軍との最後の戦いが行われた城についてまとめたものとして最も適切なものを、WからZまでのの中から選んで、その符号を書きなさい。

W

この城は、200年以上にわたって政治の中心地となりました。五街道もこの城付近を起点にそれぞれ整備され、18世紀初めには、城下町の人口が100万人を超えました。

X

この城は、ヨーロッパで発達した城塞を参考にして設計されました。城塞は上から見ると星形であり、このつくりは防御にすぐれていたといわれています。

Y

この城は、石山本願寺の跡地に築かれ、全国統一の拠点となりましたが、17世紀初めに落城しました。しかし、その城の周辺はにぎわい、「天下の台所」とよばれました。

Z

この城は、琵琶湖畔の高台を利用してつくられ、かつては5層7階建ての本格的な天守閣がありました。現在は、城跡に石垣と礎石の一部が残っています。

(4) 次の資料は、日本が清との間に結んだある条約の一部をまとめたものである。また、下の文章は、その条約を結んだ直後に起こったできごとについてまとめたものである。文章中の にあてはまる文を、資料中のことばを二つ用いて、12字以内で書きなさい。

(資料)

第1条 清は、朝鮮が完全無欠な独立自主の国であることを確認する。

第2条 清は、遼東半島、台湾、澎湖諸島を永遠に日本に与える。

第4条 清は、軍費賠償金として2億両を日本に支払うことを約束する。

(文章)

アジア進出をめざすロシアは、ドイツ、フランスと結び、日本に よう要求した。その結果、日本はこの要求を受け入れたが、ロシアの南下を警戒して軍備を拡張していった。

3 次のⅠ、Ⅱ、Ⅲは、主要国首脳会議（サミット）が日本で開催されたときに会場となった4都道県について、生徒が調べ学習を行ったときの資料の一部である。あとの(1)から(3)までの問いに答えなさい。

なお、Ⅰの表中のA、B、C、D、Ⅱの表中の①、②、③、④およびⅢのグラフのW、X、Y、Zは、それぞれ沖縄県、東京都、北海道、三重県のいずれかである。また、Ⅲのグラフのa、b、cは、米、畜産、野菜のいずれかである。

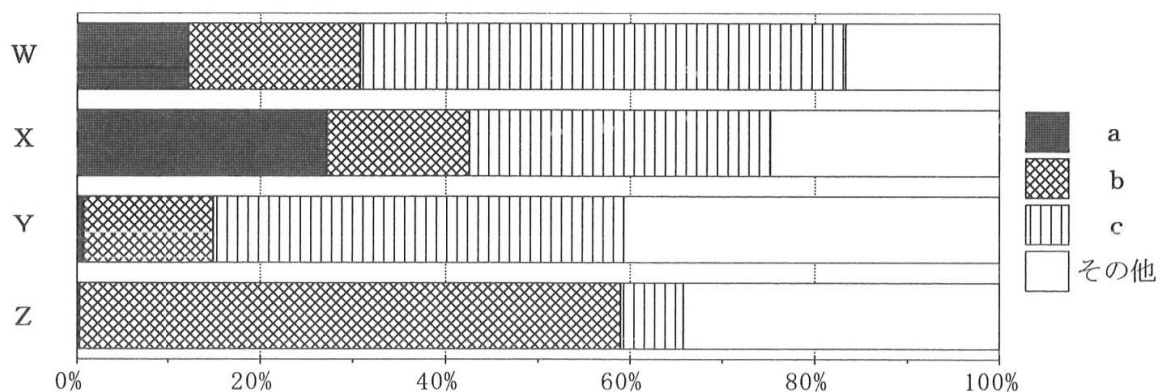
Ⅰ 4都道県の外国人延べ宿泊者数、産業別の有業者割合、面積

都道 県名	外国人延べ 宿泊者数 (千人泊)	産業別の有業者割合 (%)			面積 (km ²)
		第1次 産 業	第2次 産 業	第3次 産 業	
A	13 195	0.4	18.1	81.5	2 191
B	3 891	6.0	18.3	75.7	83 424
C	2 389	5.4	16.0	78.6	2 281
D	179	4.5	32.3	63.2	5 774

Ⅱ 4都道県の製造品出荷額等とその上位5品目それぞれの全体に占める割合

①		②		③		④	
品 目	(%)	品 目	(%)	品 目	(%)	品 目	(%)
輸送用機械	24.6	輸送用機械	18.4	食料品	30.2	石油・石炭製品	36.5
電子部品	16.7	印刷	13.1	石油・石炭製品	22.1	食料品	23.4
化学	12.5	情報通信機械	10.4	鉄鋼	8.4	飲料・飼料	11.1
石油・石炭製品	7.6	食料品	8.7	パルプ・紙	6.2	窯業・土石	8.4
電気機械	6.1	電気機械	7.5	輸送用機械	5.1	金属製品	5.4
104 423億円		80 461億円		64 564億円		6 344億円	

Ⅲ 4都道県の農業産出額の品目別割合



(Ⅰ、Ⅱ、Ⅲともに「データでみる県勢 2016年版」をもとに作成)

- (1) 次の文章は、Ⅰの表中のBについて述べたものである。文章中の(x), (y)にあてはまることばの組み合わせとして最も適当なものを、下のアからエまでのの中から選んで、そのかな符号を書きなさい。

Bは、全国から多くの観光客を集めており、とくに世界自然遺産に登録された(x)は、人々が雄大な自然とふれ合うことができる場所となっている。また、ラムサール条約によって登録されている湿原周辺は、夏の季節風が親潮によって(y), 霧が発生しやすいことで知られている。

- ア x 小笠原諸島, y 暖められて イ x 小笠原諸島, y 冷やされて
 ウ x 知床半島, y 暖められて エ x 知床半島, y 冷やされて

- (2) Ⅰの表中のC, Dにあてはまる都道府県は、それぞれⅡの表中の①, ②, ③, ④のどれか。その組み合わせとして最も適当なものを、次のアからシまでのの中から選んで、そのかな符号を書きなさい。

- ア C ①, D ② イ C ①, D ③ ウ C ①, D ④
 エ C ②, D ① オ C ②, D ③ カ C ②, D ④
 キ C ③, D ① ク C ③, D ② ケ C ③, D ④
 コ C ④, D ① サ C ④, D ② シ C ④, D ③

- (3) 次の文章は、Ⅲのグラフについて述べたものである。ⅢのグラフのXにあてはまる都道府県名とcにあてはまる品目の組み合わせとして最も適当なものを、下のアからシまでのの中から選んで、そのかな符号を書きなさい。

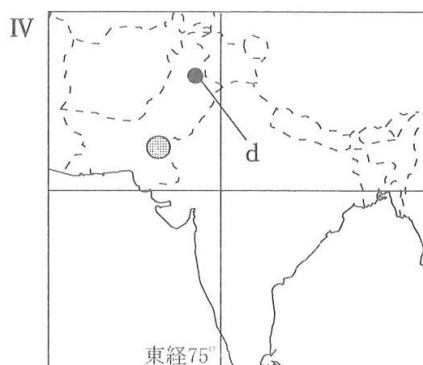
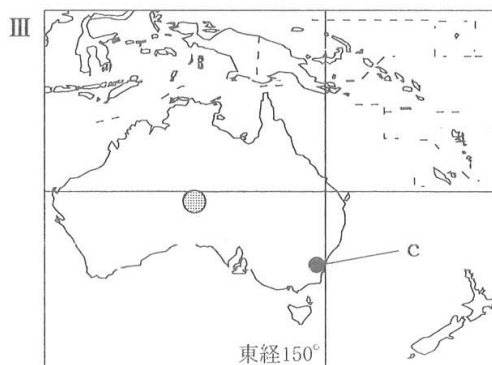
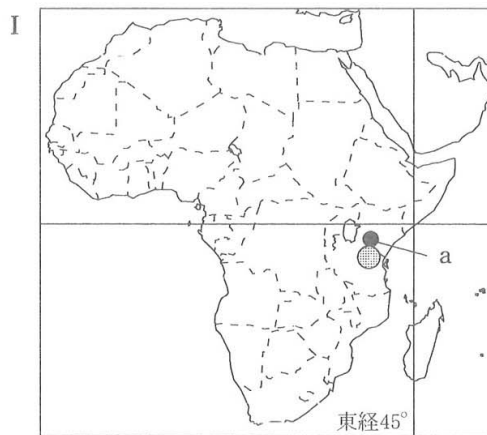
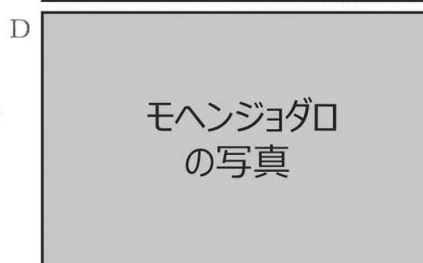
なお、Ⅲのグラフと文章中のa, b, cの同じ符号には、それぞれ同じ品目があてはまる。

東京都は、(a)の産出額の割合が1%未満であるが、市場に新鮮な状態で出荷できることから、近郊農業による(b)の産出額の割合が50%を超えている。また、北海道は、特に東部で寒さが厳しいこともあり、(c)の産出額は(a)の産出額の約4倍である。なお、三重県は、(c)の産出額の割合が約30%であり、沖縄県は、さとうきびなどを含むその他の産出額の割合が約40%である。

- ア X 沖縄県, c 米 イ X 沖縄県, c 畜産 ウ X 沖縄県, c 野菜
 エ X 東京都, c 米 オ X 東京都, c 畜産 カ X 東京都, c 野菜
 キ X 北海道, c 米 ク X 北海道, c 畜産 ケ X 北海道, c 野菜
 コ X 三重県, c 米 サ X 三重県, c 畜産 シ X 三重県, c 野菜

4 次のA, B, C, Dの写真は, 世界遺産に登録された観光地を撮影したものである。下のI, II, III, IVの略地図は, 4枚のいずれかの写真が撮影された観光地を含む地域を描いたものであり, 略地図中の●は, いずれかの観光地の所在地を示したものである。あとの(1), (2)の問いに答えなさい。

なお, IからIVまでの略地図中のa, b, c, dは, オーストラリア, ケニア, パキスタン, ペルーのそれぞれの首都であるキャンベラ, ナイロビ, イスラマバード, リマのいずれかである。また, 略地図中には, 赤道, 北回帰線(北緯23.4度), 南回帰線(南緯23.4度)のいずれかと, aからdまでをそれぞれ含む地域の標準時の基準となる経線が示されている。



(注) 国境線は一部省略している箇所がある。
それぞれの略地図の縮尺は同じではない。

(1) 次のA, B, C, Dの文は、それぞれAからDまでの写真が撮影された観光地について順に述べたものである。IからIVまでの略地図のうち、南回帰線が示されているものと、その略地図中の●に位置する観光地の写真の組み合わせとして適当なものを、下のアからクまでの中から全て選んで、そのかな符号を書きなさい。

A	ウルル（エアーズ・ロック）は、世界最大級の一枚岩であり、先住民であるアボリジニの聖地として知られています。
B	アンデス山脈にあるマチュピチュは、石造建築など高度な文明をもっていたインカ帝国の遺跡として知られています。
C	キリマンジャロ山の山頂付近は氷河に覆われていますが、山の周囲は温帯や熱帯などに区分され、貴重な野生動物の宝庫として知られています。
D	インダス川の中流域にあるモヘンジョ・ダロは、れんが造りの建物や排水施設などを備えていた遺跡で、インダス文明の中心地の一つとして知られています。

ア I, A イ I, C ウ II, B エ II, D
 オ III, A カ III, C キ IV, B ク IV, D

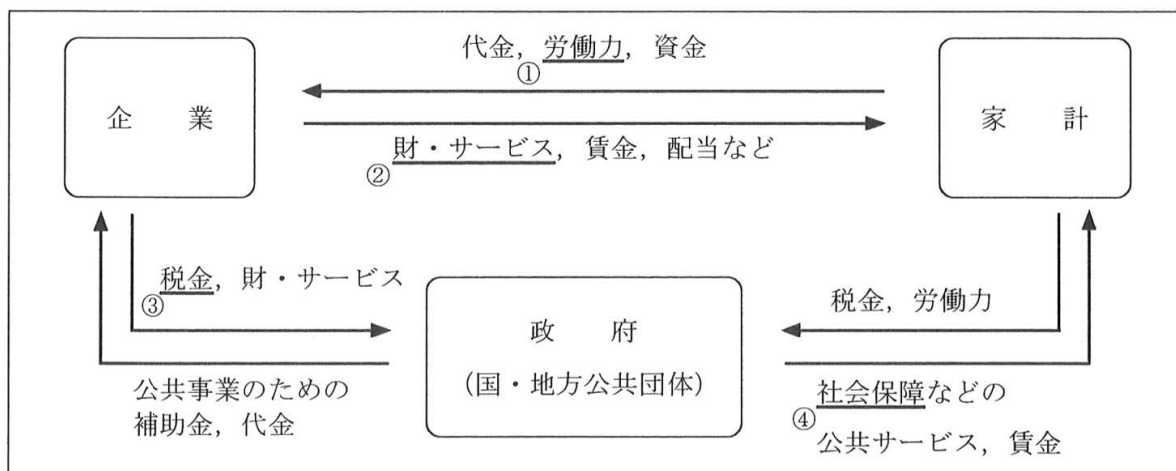
(2) 次の文章は、成田空港を出発して、IからIVまでの略地図中のa, b, c, dのいずれかへ、飛行機を乗り継いで行く場合に、飛行時間が最も短くなる経路と到着時刻などについてまとめたものである。文章中の(X), (Y)にあてはまることばとして最も適当なものを、下のアからクまでの中からそれぞれ選んで、そのかな符号を書きなさい。

なお、日本の標準時の基準となる経線は、東経135度であり、現地時間のサマータイムなどは考慮しないものとする。また、文章中の2か所の(X)には、同じことばがあてはまる。

飛行機は、成田空港を日本時間の3月1日午後5時に出発し、10時間かけて乗り継ぎ地の空港に到着します。到着時刻は、現地時間の3月1日午前10時です。その後、飛行機を乗り換えて、目的地である(X)へ向かいます。(X)の空港への到着時刻は、現地時間の3月2日午前1時で、これは、日本時間では(Y)になります。

ア キャンベラ イ ナイロビ
 ウ イスラマバード エ リマ
 オ 3月2日午後3時 カ 3月2日午前7時
 キ 3月2日午前5時 ク 3月2日午前0時

5 次の図は、経済のしくみを模式的に示したものである。あとの(1)から(4)までの問いに答えなさい。



(1) 労働力に関連して、次の表は、イギリス、タイ、日本、ブラジル、メキシコ、ロシアの6国の①労働力率、失業率、実質経済成長率を示したものである。この表について述べた文として最も適当なものを、下のアからエまでのの中から選んで、そのかな符号を書きなさい。

国名	労働力率(2013年)			失業率(2013年) (%)	実質経済成長率 (%)				
	(%)	男性	女性		2010年	2011年	2012年	2013年	2014年
タイ	72.3	80.7	64.3	0.7	7.8	0.1	6.5	2.9	0.7
ブラジル	69.8	80.8	59.4	5.9	7.6	3.9	1.8	2.7	0.1
ロシア	63.7	71.7	57.1	5.6	4.5	4.3	3.4	1.3	0.6
イギリス	62.1	68.7	55.7	6.2	1.9	1.6	0.7	1.7	2.6
メキシコ	61.6	79.9	45.1	4.8	5.1	4.0	4.0	1.4	2.1
日本	59.2	70.4	48.8	3.6	4.7	-0.5	1.8	1.6	-0.1

(注) 労働力率は、労働年齢(15歳以上)の人口に対する労働力人口(労働年齢の就業者と失業者の合計)の割合である。

(「世界国勢図会 2015/16年版」をもとに作成)

- ア 6国のうち、2013年の労働力率が65%未満の国は、いずれも2014年の実質経済成長率が2010年の実質経済成長率よりも低くなっている。
- イ 6国のうち、2013年の失業率が高い2国は、いずれも2010年以降、実質経済成長率が毎年下がりを続けている。
- ウ 6国のうち、2013年の労働力率が高い2国と、2013年の実質経済成長率が高い2国は同じである。
- エ 6国のうち、2013年の男性の労働力率と女性の労働力率の差が20%以上の国は、いずれも2013年の失業率が5%を超えている。

(2) 市場経済における財・サービスの価格は、需要量と供給量の関係で変化する。需要量、供給量と価格との関係について述べた次の文章中の (A), (B) にあてはまることばの組み合わせとして最も適当なものを、下のアからエまでのの中から選んで、そのかな符号を書きなさい。

なお、文章中の2か所の (A) には、同じことばがあてはまる。

生産者が売ろうとする量を (A) という。例えば、ある農作物の収穫量が例年より少なくなると、(A) が減少し、一般に、その農作物の価格は (B) する傾向にある。

- ア A 供給量, B 下落 イ A 供給量, B 上昇
ウ A 需要量, B 下落 エ A 需要量, B 上昇

(3) 日本の税金とそれに関することがらについて述べた文として誤っているものを、次のアからエまでのの中から一つ選んで、そのかな符号を書きなさい。

- ア 所得税は、所得の多い少ないにかかわらず同じ税率を適用する方法がとられている。
イ 地方交付税交付金は、地方公共団体間の財政格差をおさえるために配分されている。
ウ 税をはじめとする財源を国から地方へ移すことなどにより、地方分権が進められている。
エ 国は、税収の不足を補うために、国債（公債）を発行して借入れを行っている。

(4) 次の I の表は、アメリカ、スウェーデン、ドイツ、日本、フランスの5国の国民所得に占める社会保障支出の割合を示したものであり、II の表は、5国の65歳以上人口割合の推移を示したものである。I および II の表中の a, b, c にあてはまる国名の組み合わせとして最も適当なものを、下のアからカまでのの中から選んで、そのかな符号を書きなさい。

なお、I および II の表中の a, b, c は、それぞれ同じ国名を示しており、アメリカ、スウェーデン、日本のいずれかである。

I 5国の国民所得に占める社会保障支出の割合 (2012年)

国名	割合 (%)
フランス	42.1
a	38.3
ドイツ	34.7
b	32.1
c	24.3

II 5国の65歳以上人口割合の推移 (%)

国名	1980年	1990年	2000年	2010年
a	16.3	17.8	17.3	18.2
ドイツ	15.7	14.9	16.2	20.6
フランス	13.9	14.0	16.1	17.0
c	11.4	12.5	12.3	13.0
b	9.0	11.9	17.2	22.9

(「社会保障統計年報」などをもとに作成)

- ア a アメリカ, b スウェーデン, c 日本
イ a アメリカ, b 日本, c スウェーデン
ウ a スウェーデン, b アメリカ, c 日本
エ a スウェーデン, b 日本, c アメリカ
オ a 日本, b アメリカ, c スウェーデン
カ a 日本, b スウェーデン, c アメリカ

6 次のA, B, C, D, E, Fの6枚のカードは、日本国憲法の基本的人権に関する条文の一部をまとめたものである。あとの(1)から(3)までの問いに答えなさい。

A 何人も、公共の福祉に反しない限り、居住、移転及び職業選択の自由を有する。(第22条)	B 勤労者の団結する権利及び団体交渉その他の団体行動をする権利は、これを保障する。(第28条)
C 財産権は、これを侵してはならない。(第29条)	D すべて国民は、健康で文化的な最低限度の生活を営む権利を有する。(第25条)
E 何人も、抑留又は拘禁された後、無罪の裁判を受けたときは、法律の定めるところにより、国にその補償を求めることができる。(第40条)	F すべて国民は、法の下に平等であつて、人種、信条、性別、社会的身分又は門地により、政治的、経済的又は社会的関係において、差別されない。(第14条)

(1) AからFまでの6枚のカードのうち、自由権、社会権に関係の深いカードをそれぞれ2枚ずつ選んだときの組み合わせとして最も適当なものを、次のアからカまでの中から選んで、そのかな符号を書きなさい。

- | | | | |
|------------|----------|------------|----------|
| ア 自由権：A, C | 社会権：B, D | イ 自由権：A, C | 社会権：B, F |
| ウ 自由権：A, E | 社会権：B, D | エ 自由権：A, E | 社会権：D, F |
| オ 自由権：C, E | 社会権：B, F | カ 自由権：C, E | 社会権：D, F |

(2) 次のIおよびIIの文は、それぞれAからFまでのいずれかのカードにまとめられた基本的人権に関して争われた裁判について述べたものである。IおよびIIのそれぞれの文と関係の深いカードの組み合わせとして最も適当なものを、下のアからカまでの中から選んで、そのかな符号を書きなさい。

I 薬局開設の距離制限を定めた法律は、憲法の保障する権利に反するとして争われた裁判の結果、改正された。
II 衆議院議員総選挙における各選挙区の議員一人あたりの有権者数が大きく異なるとして争われた。

- | | | |
|-----------------|-----------------|-----------------|
| ア I : A, II : D | イ I : A, II : F | ウ I : C, II : B |
| エ I : C, II : D | オ I : E, II : B | カ I : E, II : F |

(3) 次の文章は、基本的人権に関する日本国憲法の条文の内容について述べたものである。文章中の()にあてはまる最も適当なことばを、漢字2字で書きなさい。

日本国憲法は、人が生まれながらにもつ自由や平等の権利を保障している。このような基本的人権は、「すべて国民は、()として尊重される。」という第13条の規定などに基づいて保障されている。

(問題はこれで終わりです。)

1	(1)		(2)		※1 1点×3 <div style="border: 1px dashed black; width: 100px; height: 40px;"></div>
	(3)				

2	(1)		(2)		※2 1点×3 2点×1 <div style="border: 1px dashed black; width: 100px; height: 40px;"></div>	
	(3)					
	(4)					

3	(1)		(2)		※3 1点×3 <div style="border: 1px dashed black; width: 100px; height: 40px;"></div>
	(3)				

4	(1)				※4 2点×2 <div style="border: 1px dashed black; width: 100px; height: 40px;"></div>
	(2)	X ()	Y ()		

5	(1)		(2)		※5 1点×4 <div style="border: 1px dashed black; width: 100px; height: 40px;"></div>
	(3)		(4)		

6	(1)		(2)		※6 1点×3 <div style="border: 1px dashed black; width: 100px; height: 40px;"></div>
	(3)				

受検番号	第	番	得点	※
------	---	---	----	---

(注) ※印欄には何も書かないこと。



【正答】 解答用紙 全日制課程 B
 第3時限 社 会

1	(1)	ウ	(2)	イ	※1 1点×3 <div style="border: 1px dashed black; width: 100px; height: 40px;"></div>
	(3)	地租改正			

2	(1)	キ	(2)	ア	※2 1点×3 2点×1 <div style="border: 1px dashed black; width: 100px; height: 40px;"></div>						
	(3)	X									
	(4)	遼	東	半		島	を	清	に	返	還
		る									

3	(1)	エ	(2)	コ	※3 1点×3 <div style="border: 1px dashed black; width: 100px; height: 40px;"></div>
	(3)	サ			

4	(1)	ウ, オ		※4 2点×2 <div style="border: 1px dashed black; width: 100px; height: 40px;"></div>
	(2)	X (エ) Y (オ)		

5	(1)	ウ	(2)	イ	※5 1点×4 <div style="border: 1px dashed black; width: 100px; height: 40px;"></div>
	(3)	ア		(4)	

6	(1)	ア	(2)	イ	※6 1点×3 <div style="border: 1px dashed black; width: 100px; height: 40px;"></div>
	(3)	個人			

受検番号	第	番	得点	※
------	---	---	----	---

(注) ※印欄には何も書かないこと。