

平成29年学力検査

全 日 制 課 程 A

第 3 時 限 問 題

社 会

検査時間 11時20分から12時05分まで

「解答始め」という指示があるまで、次の注意をよく読みなさい。

注 意

- (1) 解答用紙は、この問題用紙とは別になっています。
- (2) 「解答始め」という指示で、すぐ受検番号をこの表紙と解答用紙の決められた欄に書きなさい。
- (3) 問題は(1)ページから(10)ページまであります。表紙の裏と(10)ページの次からは白紙になっています。受検番号を記入したあと、問題の各ページを確かめ、不備のある場合は手をあげて申し出なさい。
- (4) 答えは全て解答用紙の決められた欄に書きなさい。
- (5) 印刷の文字が不鮮明なときは、手をあげて質問してもよろしい。
- (6) 「解答やめ」という指示で、書くことをやめ、解答用紙と問題用紙を別々にして机の上に置きなさい。

受検番号	第	番
------	---	---

社 会

1 次のⅠ、Ⅱ、Ⅲ、Ⅳの文は、日本の仏教に関してまとめたものである。あとの(1)から(3)までの問いに答えなさい。

Ⅰ	^{しょうとくだいし} 聖徳太子は、天皇を中心とする新しい政治のよりどころとして仏教を重んじ、法隆寺①を建立した。
Ⅱ	^{しょうむてんのう} 聖武天皇が、仏教の力で国を守ろうと考えてこれを保護したこともあり、仏教の影響を強く受けた(②)が栄えた。
Ⅲ	^{かんむてんのう} 桓武天皇は、貴族と僧の間で勢力争いが起こり、政治が乱れたことから、政治を立て直すために ③ 。
Ⅳ	^{ほうねん} 法然は、念仏を唱えれば誰でも救われると説いて浄土宗を開き、その教えは、弟子の親鸞④が開いた浄土真宗とともに、農民の間に広まった。

(1) 聖徳太子が摂政となった年代とほぼ同じ時期に起こったアジアのできごとについて述べた文①として最も適当なものを、次のアからエまでの中から選んで、そのかな符号を書きなさい。

- ア 秦の始皇帝が初めて中国を統一した。 イ チンギス=ハンがモンゴルを統一した。
 ウ 新羅が朝鮮半島を統一した。 エ 隋が南北に分裂していた中国を統一した。

(2) Ⅱの文中の(②)、Ⅲの文中の ③ にあてはまることばと文の組み合わせとして最も適当なものを、次のアからエまでの中から選んで、そのかな符号を書きなさい。

- ア ② 飛鳥文化, ③ 都を長岡京, さらに平安京に移した
 イ ② 飛鳥文化, ③ 京都に六波羅探題をおいた
 ウ ② 天平文化, ③ 都を長岡京, さらに平安京に移した
 エ ② 天平文化, ③ 京都に六波羅探題をおいた

(3) 次の資料は、農民どうしの結びつきについて生徒がまとめたものである。資料の文章中の(A)、(B)④にあてはまることばの組み合わせとして最も適当なものを、下のアからエまでの中から選んで、そのかな符号を書きなさい。

結びつきを深めた農民の中には、(A)を求めて右の碑文に記されているように宣言する者もいました。また、浄土真宗の信仰で結びついた農民などによる(B)が起こり、守護大名を倒して、約100年にわたって農民などによる自治が行われたところもありました。	<div style="border: 1px solid black; padding: 5px; display: inline-block;"> (碑文に記された宣言) 正長元年ヨリ (前は)神戸 サキ者カシヘ四カシ (郷)カウニヲキメアル ヘカラス </div> <div style="border: 1px solid black; padding: 5px; display: inline-block; text-align: center; margin-top: 10px;"> (碑文) 正長の土一揆の碑文 </div>
---	---

- ア A 借金の帳消し, B 一向一揆 イ A 借金の帳消し, B 島原・天草一揆
 ウ A 身分の解放, B 一向一揆 エ A 身分の解放, B 島原・天草一揆

2 次の表中のA, B, C, D, E, Fの文は、16世紀以降の世界や日本のできごとについてまとめたものである。あとの(1)から(4)までの問いに答えなさい。

A	ルターは、免罪符の販売を認めたローマ教皇を批判して、宗教改革を始めた。
B	貴族の特権などに不満をもった市民が立ち上がり、フランス革命が始まった。
C	<small>さかもとりょうま</small> 坂本龍馬らの仲立ちにより薩長同盟が結ばれ、倒幕の動きが強まった。
D	文明開化の風潮が高まる中で、新聞などにより、欧米の近代思想が日本に紹介された。
E	<small>ひらつか ちよう</small> 平塚らいてうは、青鞆社を結成して、差別からの解放をめざす運動を始めた。
F	<small>いけだはやと</small> 池田勇人内閣は、所得倍増をスローガンに掲げるなど、積極的な経済政策をとった。

(1) 次の文章は、生徒が表中のAのできごと以降の日本と外国との関係について、右の略地図をみて話し合ったときの会話の一部である。文章中の(①), (②), (③)にあてはまる国名の組み合わせとして最も適当なものを、下のアからカまでの中から選んで、そのかな符号を書きなさい。また、文章中の(④)にあてはまる都市の位置として最も適当なものを、略地図中のX, Y, Zの中から選んで、その符号を書きなさい。

なお、文章中の(①), (②), (③)は、オランダ、スペイン、ポルトガルのいずれかであり、同じ番号には、それぞれ同じ国名があてはまる。

(会話の一部)

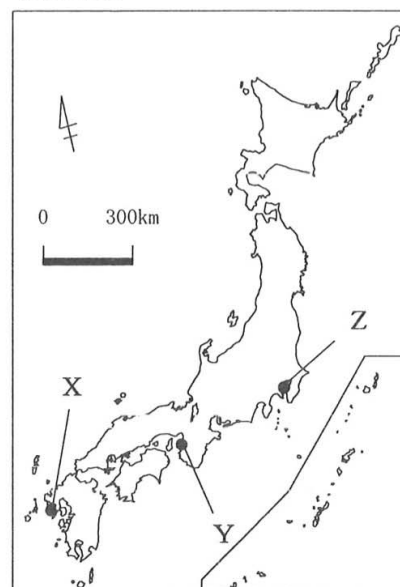
aさん： Aのできごとからしばらくして、(①)の人たちが日本に初めて鉄砲を伝えたんだよね。

bさん： その後、(①)人のほかに、(②)人などの宣教師も日本へ来て、キリスト教を伝えたよね。

aさん： そのほかに、(②)から独立した(③)などの商人も、日本と貿易をしたよ。

bさん： のちに、ヨーロッパのほとんどの国は、日本との貿易を禁止されるけれど、(③)と中国だけは、略地図中の(④)での貿易が認められたんだよね。

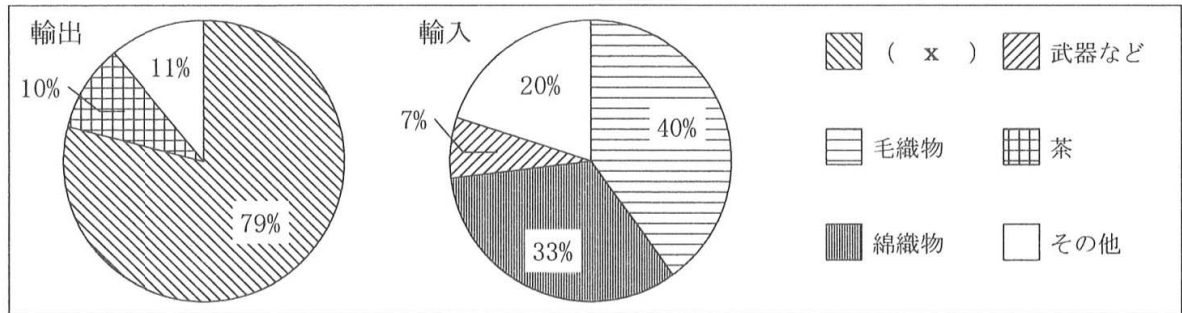
(略地図)



- ア ① オランダ, ② スペイン, ③ ポルトガル
- イ ① オランダ, ② ポルトガル, ③ スペイン
- ウ ① スペイン, ② オランダ, ③ ポルトガル
- エ ① スペイン, ② ポルトガル, ③ オランダ
- オ ① ポルトガル, ② オランダ, ③ スペイン
- カ ① ポルトガル, ② スペイン, ③ オランダ

(2) 次のグラフは、表中のCのできごとが起こった年代とほぼ同じ時期における、日本の輸出入額の品目別割合を示したものである。また、下の文章は、その時期の日本の経済について説明したものである。グラフおよび文章中の (x) , (y) , (z) にあてはまることばの組み合わせとして最も適当なものを、あとのアからクまでのの中から選んで、そのかな符号を書きなさい。

なお、グラフおよび文章中の (x) には、同じことばがあてはまる。



(「図説日本文化史大系」をもとに作成)

国内の (x) は、輸出の増加により深刻な品不足となった。また、綿織物の輸入が増加して、その価格が (y) するなど、国内の綿織物業は打撃を受けた。なお、この時期は、(z) の影響もあってアメリカとの貿易は少なく、イギリスが最大の貿易相手国であった。

- | | |
|----------------------|----------------------|
| ア x 生糸, y 下落, z 独立戦争 | イ x 生糸, y 下落, z 南北戦争 |
| ウ x 生糸, y 上昇, z 独立戦争 | エ x 生糸, y 上昇, z 南北戦争 |
| オ x 鉄鋼, y 下落, z 独立戦争 | カ x 鉄鋼, y 下落, z 南北戦争 |
| キ x 鉄鋼, y 上昇, z 独立戦争 | ク x 鉄鋼, y 上昇, z 南北戦争 |

(3) 次の文章は、表中のFのできごとに関して述べたものである。文章中の () にあてはまることばを、漢字6字で書きなさい。

1950年代中ごろから石油危機が起こった1973年にかけて、日本の経済規模は飛躍的に拡大した。これは、() とよばれ、その間に、日本の国民総生産 (G N P) は、資本主義国の中でアメリカに次いで第2位となった。

(4) 次の I , II , III のカードは、世界や日本で発表された文章の一部をまとめたものである。I , II , III のカードは、それぞれ表中の B , D , E のどのできごとと最も関係が深いのか。その組み合わせとして最も適当なものを、下のアからカまでのの中から選んで、そのかな符号を書きなさい。

- | | | |
|----------------------------|---------------------------------------|------------------------------|
| I 天は人の上に人をつくらず、人の下に人をつくらず。 | II 元始、女性は実に太陽であった。真正の人であった。今、女性は月である。 | III 人は生まれながらにして、自由で平等な権利をもつ。 |
|----------------------------|---------------------------------------|------------------------------|

- | | |
|--------------------------|--------------------------|
| ア I : B, II : D, III : E | イ I : B, II : E, III : D |
| ウ I : D, II : B, III : E | エ I : D, II : E, III : B |
| オ I : E, II : B, III : D | カ I : E, II : D, III : B |

3 次のⅠの表は、中部地方の9県の人口等を示したものであり、Ⅱの地形図は、山梨県甲府市の一部を示したものである。あとの(1)から(3)までの問いに答えなさい。

なお、Ⅰの表中のA、B、C、D、Eは、愛知県、静岡県、長野県、新潟県、山梨県のいずれかである。

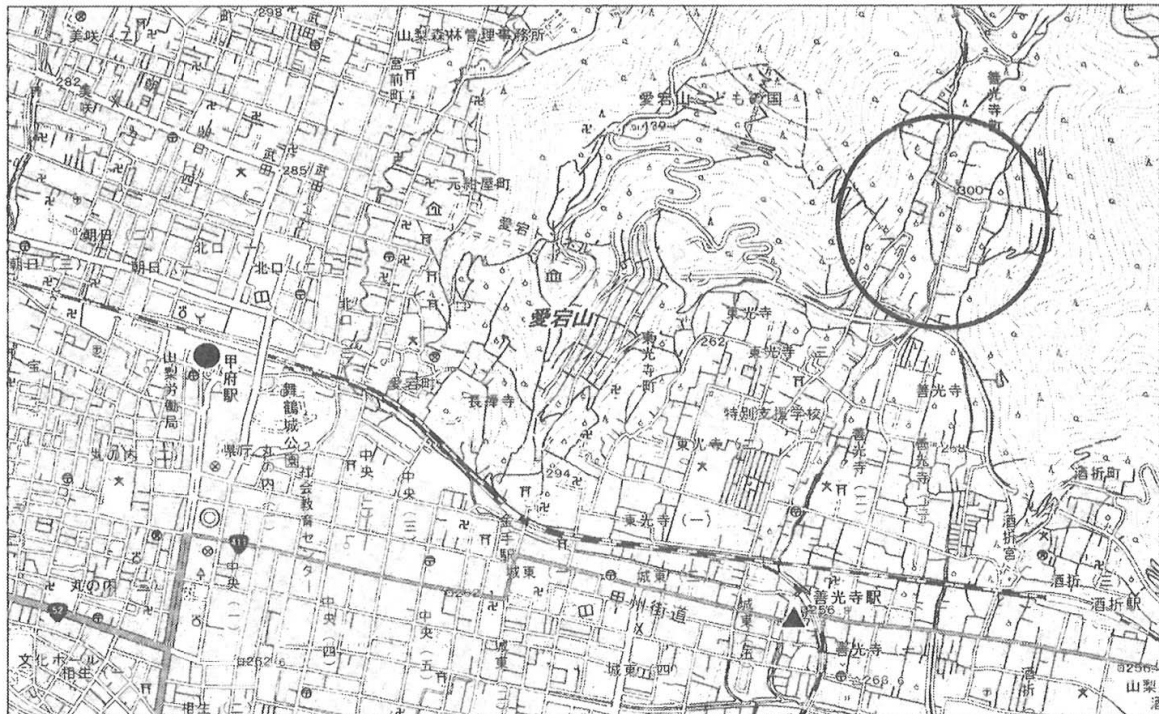
Ⅰ 9県の人口、米の産出額、野菜の産出額、海面漁業漁獲量、食料自給率

県名	人口 (千人)	米の 産出額 (億円)	野菜の 産出額 (億円)	海面漁業 漁獲量 (t)	食料 自給率 (%)
A	7 455	310	1 102	81 039	13
B	3 705	200	593	197 199	17
C	2 313	1 499	403	29 869	104
D	2 109	491	806	—	53
岐阜県	2 041	256	340	—	26
石川県	1 156	284	91	73 458	49
富山県	1 070	446	52	45 868	76
E	841	68	102	—	19
福井県	790	279	65	14 334	65


(注) 表中の「—」は全くないことを示している。

(「データでみる県勢 2016年版」による)

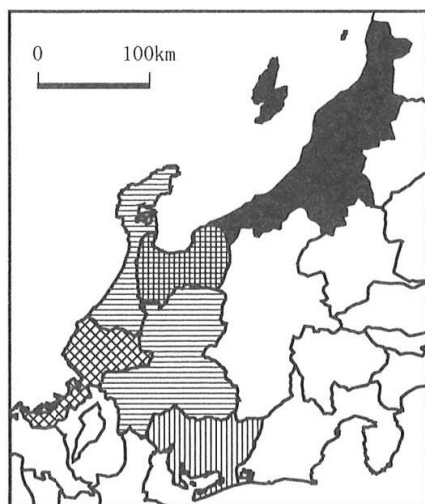
Ⅱ 甲府市の地形図(縮尺2万5千分の1)



ものさし



- (1) 次の略地図は、Ⅰの表中の6県について、食料自給率を、〈例〉に従って図示したものである。残りの3県の食料自給率についても、〈例〉に従って略地図中に図示しなさい。



〈例〉

■	100%以上
■	75%以上100%未満
■	50%以上75%未満
■	25%以上50%未満
■	25%未満

- (2) 次の文章は、生徒がⅡの地形図中の甲府駅南口付近の●の地点から善光寺駅付近の▲の地点まで、地形図を持って歩いたときのメモの一部である。文章中の(x), (y), (z)にあてはまることばと数字の組み合わせとして最も適当なものを、下のアからクまでのの中から選んで、そのかな符号を書きなさい。

甲府駅南口付近を出発して、駅前から続く通りに沿って南の方角へ歩いた。市役所が北東に位置する交差点を左折すると、右手に(x)が見えた。その後、ほぼ東の方角へ約(y)メートル歩いたのちに、突き当たりの交差点を左折した。そして、北の方角へ少し歩いたところの交差点を右折し、しばらく直進すると、左手に郵便局が見えた。さらに東へ歩き続けると、善光寺駅付近に到着した。善光寺駅からは、(z)の方角にかけて愛宕山が見えた。

- | | |
|-------------------------|-------------------------|
| ア x 警察署, y 1000, z 北から西 | イ x 警察署, y 1000, z 南から東 |
| ウ x 警察署, y 2000, z 北から西 | エ x 警察署, y 2000, z 南から東 |
| オ x 消防署, y 1000, z 北から西 | カ x 消防署, y 1000, z 南から東 |
| キ x 消防署, y 2000, z 北から西 | ク x 消防署, y 2000, z 南から東 |

- (3) Ⅱの地形図中の○で示した範囲から読み取ることができる地形や土地利用について述べた文として最も適当なものを、次のアからエまでのの中から選んで、そのかな符号を書きなさい。

- ア 山の斜面などを利用して、水田が広く分布している。
- イ 山の斜面などを利用して、果樹園が広く分布している。
- ウ 平らな三角州を利用して、水田が広く分布している。
- エ 平らな三角州を利用して、果樹園が広く分布している。

4 次のⅠの表は、工業化が進む4国の特徴についてまとめたものであり、Ⅱの表は、Ⅰの表中の4国の国内総生産等について示したものである。また、Ⅲの略地図は、経線と緯線が直角に交わるように描いたものであり、Ⅳのa、b、c、dのグラフは、Ⅰの表中の4国の首都の月別平均気温と月別降水量を示したものである。あとの(1)、(2)の問いに答えなさい。

なお、Ⅰの表中のA、B、C、DおよびⅡの表中の①、②、③、④は、それぞれインド、韓国、サウジアラビア、ブラジルのいずれかであり、Ⅲの略地図中の●は、それぞれソウル、デリー、ブラジリア、リヤドのいずれかの位置を示している。

Ⅰ 4国の特徴

A	この国には、イスラム教の聖地メッカがあり、世界中から多くの信者が訪れている。近年は、豊富な石油資源を背景に、各地で近代的な都市建設が進んでいる。
B	この国は、第二次世界大戦後、南北に分断された地域の南部に成立した。アジアNIE Sの一つとされ、近年は、電子部品などを中心に工業化が進んでいる。
C	この国では、アマゾン川流域の開発が進み、さとうきびなどの作物の栽培がさかんである。明治時代以降、日本人が移住し、今でも多くの日系人が住んでいる。
D	この国は、仏教やヒンドゥー教が誕生するなど、世界の思想や文化に大きな影響を与えてきた。近年は、情報技術産業で活躍する人材を数多く輩出している。

Ⅱ 4国の国内総生産、人口、100人あたり自動車保有台数、穀物生産量、日本への輸出額、日本からの輸入額

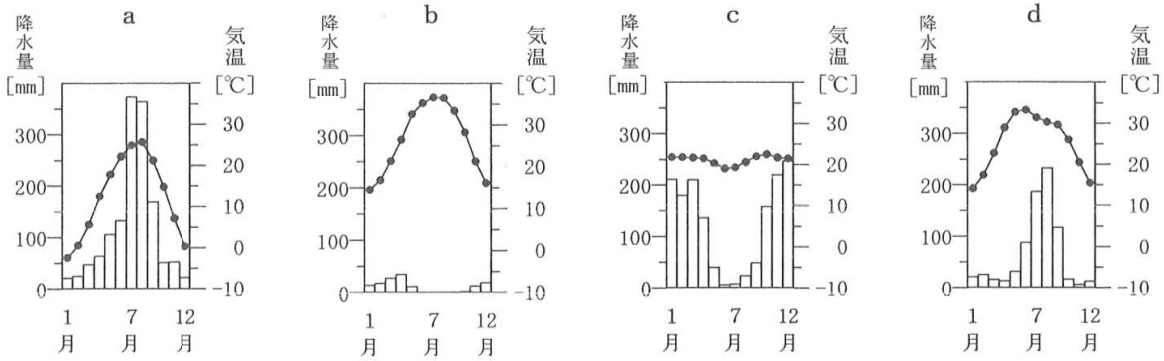
国名	国内総生産 (百万ドル)	人口 (千人)	100人あたり 自動車保有 台数(台)	穀物生産量 (千t)	日本への 輸出額 (百万ドル)	日本からの 輸入額 (百万ドル)
①	2 243 854	207 848	19.8	100 902	6 719	5 901
②	1 937 797	1 311 051	2.6	293 940	5 386	10 131
③	1 304 554	50 293	39.4	5 818	32 184	53 768
④	748 450	31 540	21.3	973	43 216	8 341

(「世界国勢図会 2015/16年版」などによる)

Ⅲ 経線と緯線が直角に交わるように描いた略地図

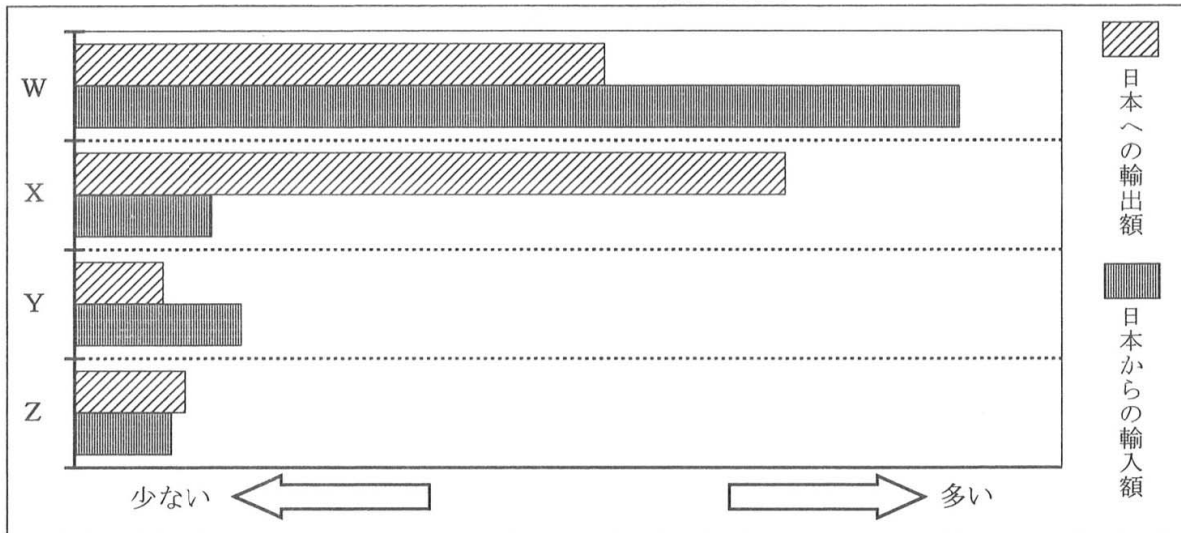


IV 4国の首都の月別平均気温と月別降水量



(「理科年表 平成28年版」による)

(1) 次のグラフのW, X, Y, Zは, Iの表中の4国いずれかの, 日本への輸出額および日本からの輸入額を模式的に示したものである。Iの表中のA, B, C, DとW, X, Y, Zの組み合わせとして適当なものを, 下のアからクまでの中から全て選んで, そのかな符号を書きなさい。



- | | | | |
|--------|--------|--------|--------|
| ア A, W | イ A, X | ウ B, Y | エ B, Z |
| オ C, W | カ C, X | キ D, Y | ク D, Z |

(2) 次のことばは, Iの表中の4国いずれかで使用される, 「こんにちは」を意味するものである。IIの表中の①から④までのうち, このことばが一般的に使われている国はどれか。また, IVの a, b, c, dのうち, その国の首都の月別平均気温と月別降水量を示したグラフはどれか。その組み合わせとして最も適当なものを, 下のアからクまでの中から選んで, そのかな符号を書きなさい。

ことば 안녕하세요

- | | | | |
|--------|--------|--------|--------|
| ア ①, a | イ ①, c | ウ ②, b | エ ②, d |
| オ ③, a | カ ③, c | キ ④, b | ク ④, d |

5 次の文章を読んで、あとの(1)から(4)までの問いに答えなさい。

世界では、インターネットの普及に代表される情報化^①や、経済、文化などのさまざまな分野におけるグローバル化^②が進展している。

一方で、発展途上国における貧困問題^③や人口問題、地球規模での環境問題^④やエネルギー問題などが深刻化しており、国際社会が取り組むべき課題となっている。

- (1) 情報化^①に関して述べた次の文中の()にあてはまることばを、カタカナ6字で書きなさい。なお、文中の2か所の()には、同じことばがあてはまる。

新しい人権の一つとされる()の権利は、個人の私生活に関することをみだりに公開されない権利として考えられてきたが、情報化が進展する中で、()の意味が広がり、現在では、名前、住所などの個人情報^①を自ら管理する権利としても考えられるようになった。

- (2) グローバル化^②に関して述べた次の文章中の(A)、(B)にあてはまることばの組み合わせとして最も適当なものを、下のアからカまでの中から選んで、そのかな符号を書きなさい。

グローバル化が進展する中で、経済における地域的な結びつきを強めるために、(A)では、一部の加盟国が自国の通貨を廃止して共通の通貨を導入した。また、二国間以上で自由貿易協定(FTA)などを締結して、加盟国間の(B)する動きなどもある。

- | | | |
|---|--------------|---------|
| ア | A 東南アジア諸国連合、 | B 関税を廃止 |
| イ | A 東南アジア諸国連合、 | B 投資を制限 |
| ウ | A 東南アジア諸国連合、 | B 流通を規制 |
| エ | A ヨーロッパ連合、 | B 関税を廃止 |
| オ | A ヨーロッパ連合、 | B 投資を制限 |
| カ | A ヨーロッパ連合、 | B 流通を規制 |

- (3) 貧困問題^③や人口問題に関して述べた文として誤っているものを、次のアからエまでの中から一つ選んで、そのかな符号を書きなさい。

ア 現在、世界全体の人口は増加しており、特にアジアやアフリカなどの発展途上国における人口の増加が著しい傾向にある。

イ 発展途上国の中には、かつての植民地時代に始まった農産物の輸出を中心とする経済から抜け出せずに、貧困に苦しむ人々が多い国もある。

ウ 「人間の安全保障」とは、国家の軍事力を強化して、内戦や貧困に苦しむ発展途上国などの人々を守ろうとする考え方のことをいう。

エ 発展途上国の貧困問題を解決するために、多くの先進国は、政府開発援助(ODA)などを通して、発展途上国への援助を行っている。

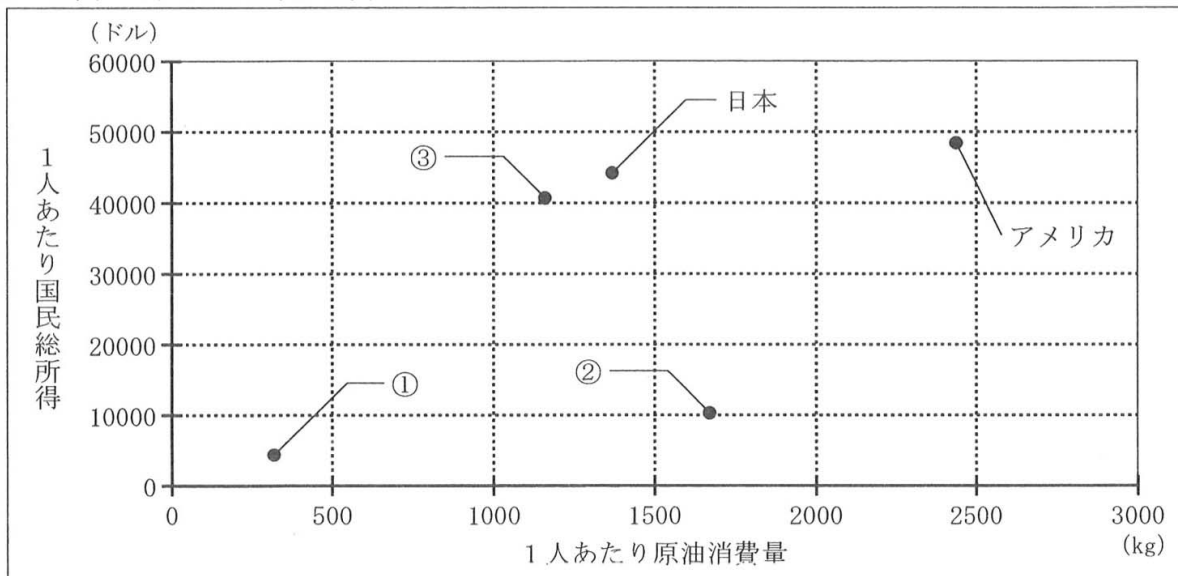
(4) 環境問題やエネルギー問題に関連して、次のⅠの表は、アメリカ、中国、ドイツ、日本、ロシアの5国の燃料燃焼による二酸化炭素排出量の推移を示したものであり、Ⅱのグラフは、5国の1人あたり原油消費量と1人あたり国民総所得の関係を示したものである。また、下の三つの文は、Ⅰの表やⅡのグラフについて述べたものである。Ⅰの表中のa、b、cおよびⅡのグラフ中の①、②、③のうち、ロシアにあてはまる符号と番号はそれぞれどれか。その組み合わせとして最も適当なものを、あとのアからケまでの中から選んで、そのかな符号を書きなさい。

なお、Ⅰの表中のa、b、cおよびⅡのグラフ中の①、②、③は、それぞれ中国、ドイツ、ロシアのいずれかである。

Ⅰ 5国の燃料燃焼による二酸化炭素排出量の推移 (単位 百万t)

国名	1995年	2000年	2005年	2010年
アメリカ	5 073.2	5 642.6	5 702.3	5 355.5
a	3 034.7	3 299.7	5 401.0	7 137.3
b	1 548.0	1 474.2	1 481.7	1 528.9
日本	1 122.0	1 156.6	1 196.1	1 126.1
c	856.7	812.4	786.8	759.0

Ⅱ 5国の1人あたり原油消費量と1人あたり国民総所得の関係 (2010年)



(Ⅰ、Ⅱともに「世界の統計 2016」などをもとに作成)

- ・ 5国のうち、2010年の燃料燃焼による二酸化炭素排出量が、2000年の燃料燃焼による二酸化炭素排出量より減少しているのは、アメリカ、ドイツ、日本の3国である。
- ・ 5国のうち、2010年の燃料燃焼による二酸化炭素排出量が最も多い国は、2010年の1人あたり国民総所得が最も少ない。
- ・ ドイツは、2010年の1人あたり国民総所得がロシアより多く、2010年の1人あたり原油消費量がロシアより少ない。

- | | | |
|--------|--------|--------|
| ア a, ① | イ a, ② | ウ a, ③ |
| エ b, ① | オ b, ② | カ b, ③ |
| キ c, ① | ク c, ② | ケ c, ③ |

6 次のⅠ、Ⅱの文章は、1952年および1996年の国会の動きについて述べたものである。あとの(1)から(3)までの問いに答えなさい。

Ⅰ 1952年の国会の動き

8月31日、衆議院が解散中であったため、参議院で（ A ）が開かれた。

10月1日に、第25回衆議院議員総選挙が行われた後、内閣総理大臣を指名するための国会が開かれた。^①

Ⅱ 1996年の国会の動き

1月22日から6月19日まで国会が開かれ、本会議において（ B ）などが議決された。

10月20日に行われた第41回衆議院議員総選挙では、小選挙区制と比例代表制を組み合わせ^②た選挙制度が初めて導入された。

(1) 文章中の（ A ）、（ B ）にあてはまることばの組み合わせとして最も適当なものを、次のアからカまでのの中から選んで、そのかな符号を書きなさい。

- | | | | | | |
|---|---------|------|---|---------|------|
| ア | A 緊急集会、 | B 政令 | イ | A 緊急集会、 | B 予算 |
| ウ | A 特別会、 | B 政令 | エ | A 特別会、 | B 予算 |
| オ | A 臨時会、 | B 政令 | カ | A 臨時会、 | B 予算 |

(2) 内閣総理大臣または内閣について述べた文として最も適当なものを、次のアからエまでのの中から^①選んで、そのかな符号を書きなさい。

- ア 内閣総理大臣は、国务大臣の過半数を国会議員の中から選ばなければならない。
- イ 内閣総理大臣は、国会の議決した法律に対して拒否権を行使することができる。
- ウ 内閣は、内閣不信任決議が可決された場合、必ず衆議院を解散しなければならない。
- エ 内閣は、弾劾裁判所を設けて、問題のある裁判官を辞めさせることができる。


(3) ある国において、国内を7選挙区に分けた小選挙区制^②による国会議員の選挙が行われ、各選挙区にはA党、B党、C党から一人ずつのあわせて3人が立候補したものとする。次の表は、その選挙における選挙区ごとの各党の候補者の得票数と、各党の候補者の得票数の合計を示したものである。この選挙の結果について述べた文として最も適当なものを、下のアからエまでのの中から選んで、そのかな符号を書きなさい。


(単位 千票)

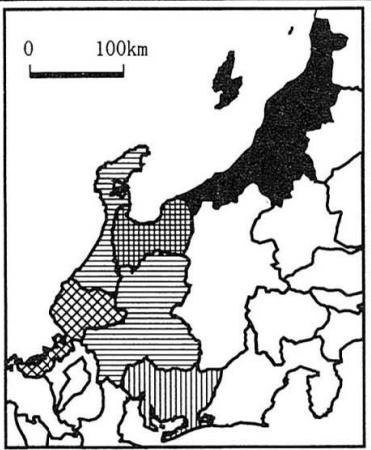

政党	1区	2区	3区	4区	5区	6区	7区	合計
A党	50	10	40	35	20	35	25	215
B党	45	40	30	30	30	40	50	265
C党	20	35	25	25	80	30	70	285


- ア 三つの政党のうち、一つも議席を獲得することができなかった政党がある。
- イ 三つの政党のうち、全議席の過半数を獲得することができた政党がある。
- ウ 所属する候補者の得票数の合計が最も少ない政党が、最も多くの議席を獲得した。
- エ 全ての選挙区で、当選者の得票数より、落選した候補者の得票数の合計の方が多い。


(問題はこれで終わりです。)


1	(1)		(2)		※1 1点×3 
	(3)				

2	(1)	組み合わせ () 位置 ()		※2 1点×3 2点×1 	
	(2)		(3)		
	(4)				

3	(1)			(2)		※3 1点×2 2点×1 
		(3)				

4	(1)		※4 1点×1 2点×1 
	(2)		

5	(1)		(2)		※5 1点×4 
	(3)		(4)		

6	(1)		(2)		※6 1点×3 
	(3)				

受検番号	第	番	得点	※
------	---	---	----	---

(注) ※印欄には何も書かないこと。



【正答】 解答用紙 全 日 制 課 程 A
第 3 時 限 社 会

1	(1)	エ	(2)	ウ	※1 1点×3 <div style="border: 1px dashed black; width: 100px; height: 40px;"></div>
	(3)	ア			

2	(1)	組み合わせ (カ) 位置 (X)		※2 1点×3 2点×1 <div style="border: 1px dashed black; width: 100px; height: 40px;"></div>
	(2)	イ	(3) 高度経済成長	
	(4)	エ		

3	(1)		(2)	ア	※3 1点×2 2点×1 <div style="border: 1px dashed black; width: 100px; height: 40px;"></div>
			(3)	イ	

4	(1)	イ, キ	※4 1点×1 2点×1 <div style="border: 1px dashed black; width: 100px; height: 40px;"></div>
	(2)	オ	

5	(1)	プライバシー	(2)	エ	※5 1点×4 <div style="border: 1px dashed black; width: 100px; height: 40px;"></div>
	(3)	ウ	(4)	オ	

6	(1)	イ	(2)	ア	※6 1点×3 <div style="border: 1px dashed black; width: 100px; height: 40px;"></div>
	(3)	ウ			

受検番号	第	番	得点	※
------	---	---	----	---

(注) ※印欄には何も書かないこと。