

平成27年学力検査

全 日 制 課 程 A

第 3 時 限 問 題

社 会

検査時間 11時10分から11時50分まで

「解答始め」という指示があるまで、次の注意をよく読みなさい。

注 意

- (1) 解答用紙は、この問題用紙とは別になっています。
- (2) 「解答始め」という指示で、すぐ学科名と受検番号をこの表紙と解答用紙の決められた欄に書きなさい。
- (3) 問題は(1)ページから(10)ページまであります。表紙の裏と(10)ページの次からは白紙になっています。受検番号などを記入したあと、問題の各ページを確かめ、不備のある場合は手をあげて申し出なさい。
- (4) 答えはすべて解答用紙の決められた欄に書きなさい。
- (5) 印刷の文字が不鮮明なときは、手をあげて質問してもよろしい。
- (6) 「解答やめ」という指示で、書くことをやめ、解答用紙と問題用紙を別々にして机の上に置きなさい。

学科名	科	受検番号	第	番
-----	---	------	---	---

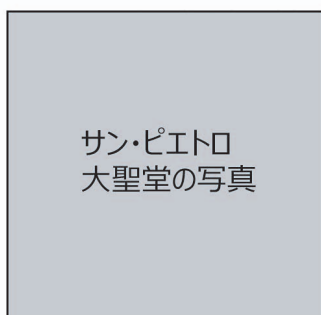
社 会

1 次の文章は、下のⅠとⅡに示された世界遺産の写真について説明したものである。あとの(1)から(3)までの問いに答えなさい。

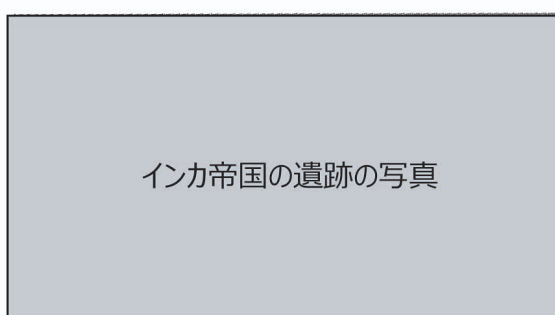
Ⅰは、(①)にある大聖堂を写したものである。カトリック教会の総本山であるこの大聖堂の改築のために免罪符が売り出されたことへの批判から、宗教改革が始まった。

Ⅱは、南アメリカ大陸に栄えた(③)帝国の遺跡を写したものである。高度な石造建築の技術など、独自の文明をもったこの国は、スペインによって征服された。

Ⅰ



Ⅱ



(1) 文章中の(①), (③)にあてはまることばの組み合わせとして最も適当なものを、次のアからエまでのの中から選んで、そのかな符号を書きなさい。

ア ① メッカ, ③ アステカ

イ ① バチカン(市国), ③ アステカ

ウ ① メッカ, ③ インカ

エ ① バチカン(市国), ③ インカ

(2) 宗教改革が始まった年代とほぼ同じ時期の日本のようすについて述べた文として最も適当なもの^②を、次のアからエまでのの中から選んで、そのかな符号を書きなさい。

ア 加賀では、一向一揆により守護大名が倒され、一向宗の信者らによる自治が行われていた。

イ 島原と天草では、弾圧されたキリスト教徒らが一揆を起し、幕府の大軍と戦った。

ウ 高知では、士族を中心として立志社がつくられ、自由民権の思想が青年たちに広められた。

エ 江戸では、人口が100万人を超え、政治の中心であるとともに国内最大の消費地となった。

(3) 次の文章は、16世紀後半におけるスペインと日本との関係について述べたものである。文章中の()にあてはまる最も適当なことばを、漢字2字で書きなさい。なお、文章中の2か所の()には、同じことばがあてはまる。

当時()人とよばれたスペイン人やポルトガル人は、平戸などの九州の港に来航し、貿易をさかんに行った。このとき、日本へは鉄砲や火薬、中国産の生糸や絹織物がもたらされ、日本はおもに銀を輸出した。この貿易は()貿易とよばれる。

2 次のⅠ、Ⅱ、Ⅲのカードは、それぞれ、わが国のある時代の人々の生活についてまとめたものである。あとの(1)から(4)までの問いに答えなさい。

Ⅰ

① 奈良時代には、人々の納める税の一部が都に集められた。その結果、貴族の暮らしは豊かになったが、庶民は重い税に苦しんだ。

Ⅱ

この時代も半ばになると、社会が乱れ、人々の不安が高まってきたことなどから、都を中心に浄土信仰（浄土の教え）が広まり、貴族から庶民まで受け入れられた。
②

Ⅲ

③ 大正時代になると、工業化の進展にともなって都市人口が急増し、都市の生活では、ガスや水道、電灯が普及しはじめ、人々の生活も向上した。
④

(1) 次の文は、奈良時代半ばのできごとについて述べたものである。文中の（ ）にあてはまる最も適切なことばを、漢字7字で書きなさい。

人口が増えて口分田が不足してくると、朝廷は人々に開墾をすすめるため、新しく開墾した土地であれば、永久に土地の所有権を認める（ ）を出した。

(2) 次の写真は、浄土信仰（浄土の教え）が広まったところ建てられた、わが国を代表する阿弥陀堂を写したものである。この建物が建てられた年代よりあとに起こったできごとについて述べた文を、下のアからエまでの中から一つ選んで、そのかな符号を書きなさい。

平等院鳳凰堂の写真

- ア 壬申の乱に勝利した人物が即位し、天皇を中心とする中央集権国家の建設をすすめた。
- イ 保元の乱、平治の乱に勝利した人物が、政治の実権をにぎり太政大臣に就任した。
- ウ 長岡京に都を移した天皇が、次いで平安京に都を移して政治を立て直そうとした。
- エ 冠位十二階の制度を定めた人物が、仏教や儒教の教えにもとづく十七条の憲法を制定した。

- (3) 次の文章は、大正時代について述べたものである。文章中の (X), (Y), (Z)
^③にあてはまることばの組み合わせとして最も適当なものを、下のアからクまでの中から選んで、そのかな符号を書きなさい。

(X) が起こったころ、デモクラシーの風潮が高まる中で、労働運動や農民運動などの社会運動が広まった。その中で、地主に対する要求が (Y) へと発展した。

この時代の大衆娯楽を代表するのが映画であり、国産の映画が製作されるようになった。そして、普通選挙法が制定された年には、東京、大阪で (Z) が開始され、歌謡曲や野球中継などが人気を集めるとともに、新聞とならび、人々の情報源になった。

- | | | | | | | |
|---|---|----------|---|-------|---|-------|
| ア | X | 第一次世界大戦, | Y | 労働争議, | Z | テレビ放送 |
| イ | X | 第一次世界大戦, | Y | 労働争議, | Z | ラジオ放送 |
| ウ | X | 第一次世界大戦, | Y | 小作争議, | Z | テレビ放送 |
| エ | X | 第一次世界大戦, | Y | 小作争議, | Z | ラジオ放送 |
| オ | X | 日清戦争, | Y | 労働争議, | Z | テレビ放送 |
| カ | X | 日清戦争, | Y | 労働争議, | Z | ラジオ放送 |
| キ | X | 日清戦争, | Y | 小作争議, | Z | テレビ放送 |
| ク | X | 日清戦争, | Y | 小作争議, | Z | ラジオ放送 |

- (4) 次のアからオまでの文は、それぞれ、わが国のある時代の人々の生活について述べたものである。これらの文を下のように年代の古い順に並べたとき、^④2番目と4番目になる文のかな符号をそれぞれ書きなさい。

ア 植物の採集や、オオツノジカ、ナウマンゾウなどの狩猟により食料を獲得した。

イ 律令にもとづいて、6年ごとに作成される戸籍に登録された。

ウ 油の原料である菜種、あいや紅花などの商品作物の栽培が広まった。

エ 洋服を着たり、牛肉を食べたりするなど、衣食の変化が始まった。

オ むらに水田をつくって住み、銅鏡や銅鐸を祭りの道具として用いた。

- 1番目 2番目 3番目 4番目 5番目
 () → () → () → () → ()

3 次のⅠ、Ⅱ、Ⅲ、Ⅳは、生徒が九州地方の観光について調べ学習を行った際の資料の一部である。あとの(1)から(4)までの問いに答えなさい。

なお、Ⅰの表中のA、B、Cは、北九州市、長崎市、福岡市のいずれかであり、Ⅱの表中のPは、九州地方のいずれかの県である。Ⅲのa、b、c、dは火山について述べた文であり、b、cの文中の()には、同じことばがあてはまる。Ⅳの①、②、③は、沖縄県、福岡県、宮崎県のいずれかである。

Ⅰ 九州地方のおもな都市の人口と外国人宿泊者数

都市名	人口(千人)	外国人宿泊者数(人)
A	1 459	415 599
B	983	40 295
熊本市	732	52 276
鹿児島市	607	51 767
C	440	72 680

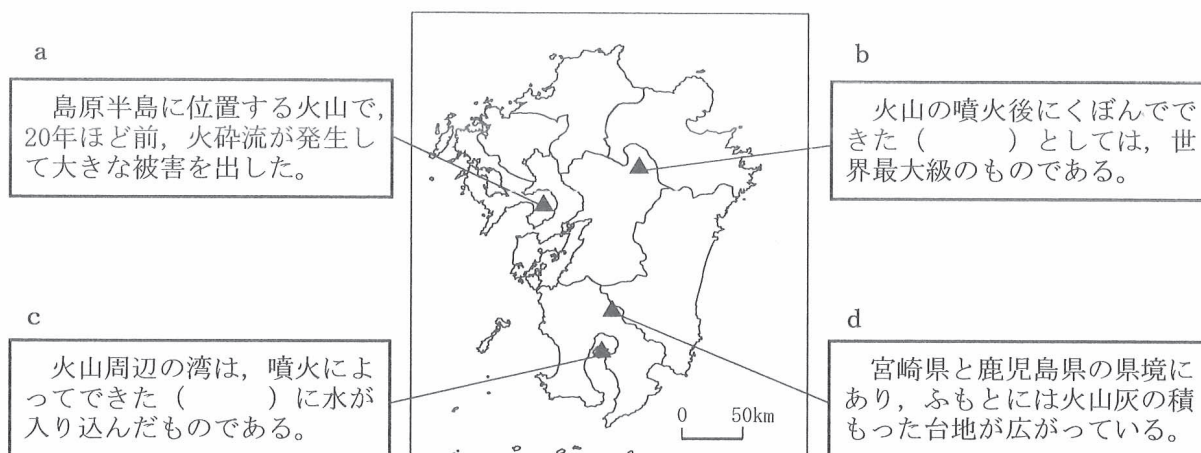
Ⅱ 九州地方の5県の源泉数と温泉の湧出量

県名	源泉数	湧出量(ℓ/分)
P	4 471	285 185
鹿児島県	2 785	205 045
熊本県	1 368	133 557
福岡県	433	51 839
宮崎県	205	25 015

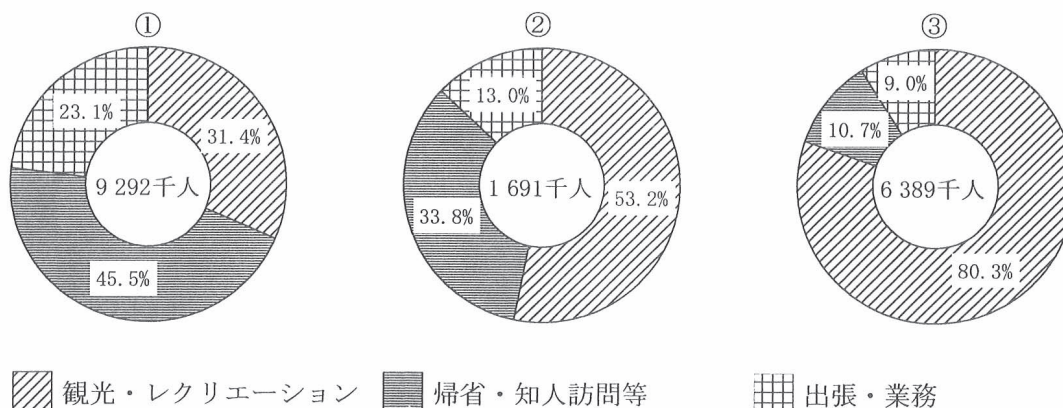
(「日本国勢図会 2014/15年版」などをもとに作成)

(「データでみる県勢 2014年版」による)

Ⅲ 九州地方のおもな火山



Ⅳ 九州地方の3県への国内旅行の宿泊旅行者の人数とその目的別人数の割合



(「データでみる県勢 2014年版」をもとに作成)

- (1) 次の X, Y, Z の文章は, I の表中の A, B, C のいずれかの都市について説明したものである。A, B, C および X, Y, Z のうち, 長崎市を示した符号はそれぞれどれか。その組み合わせとして最も適当なものを, 下のアからケまでの中から選んで, そのかな符号を書きなさい。

X 江戸時代にオランダとの交易が行われた出島があり, 多くの観光客が訪れている。五島列島などの離島へ向かう多くの航路が整備されている。

Y 朝鮮半島と結ばれる国際航路があり, 多くの外国人が訪れている。市内にある志賀島は, 中国の皇帝から与えられたとされる金印の発見場所として知られる。

Z 20世紀初めに官営八幡製鉄所が設立され, 日本の重工業の中心地の一つとなった。関門海峡をへだてて本州と向き合う交通の要所にある。

ア A, X

イ A, Y

ウ A, Z

エ B, X

オ B, Y

カ B, Z

キ C, X

ク C, Y

ケ C, Z

- (2) 次の文章は, II の表中の P について述べたものである。これを参考にして, P の県名を漢字で書きなさい。

この県は, 別府や湯布院(由布院)などの温泉地が有名で, 九州以外からも多くの観光客が訪れる。関西地方から別府港に向かうフェリーは, 瀬戸内海を西へ向かい, 国東半島を右手に見ながら別府港に入る。

- (3) III の a の文で示された火山の名前と, b, c の文中の () にあてはまることばの組み合わせとして最も適当なものを, 次のアからカまでの中から選んで, そのかな符号を書きなさい。

ア 名前: 雲仙岳, ことば: シラス

イ 名前: 霧島山, ことば: シラス

ウ 名前: 雲仙岳, ことば: デルタ

エ 名前: 霧島山, ことば: デルタ

オ 名前: 雲仙岳, ことば: カルデラ

カ 名前: 霧島山, ことば: カルデラ

- (4) 次の x, y, z の文は, IV の①, ②, ③のいずれかの県を訪れた人が, それぞれそこで見た風景について説明したものである。x, y, z と①, ②, ③の組み合わせとして最も適当なものを, 下のアからカまでの中から選んで, そのかな符号を書きなさい。

x 筑後川の下流域に広がる平野は, 有明海に面しており, 干拓地には水田が広がっていた。

y 日向灘に面した平野一帯では, ビニールハウスでキュウリやピーマンなどが栽培されていた。

z 海にはさんご礁が広がり, 石垣島にはサトウキビやパイナップルなどの畑が広がっていた。

ア x : ①, y : ②, z : ③

イ x : ①, y : ③, z : ②

ウ x : ②, y : ①, z : ③

エ x : ②, y : ③, z : ①

オ x : ③, y : ①, z : ②

カ x : ③, y : ②, z : ①

4 次のⅠの表、Ⅱの略地図、Ⅲのグラフ、Ⅳの表は、生徒がインド、オーストラリア、中国、ブラジルの4国について調べ学習をした際にまとめた資料の一部である。あとの(1)、(2)の問いに答えなさい。

なお、ⅠおよびⅣの表中のA、B、C、Dには、それぞれ同じ国名があてはまる。また、Ⅱの略地図中の●は、4国の首都の位置を示したものである。Ⅲのグラフは4国の首都の月別平均気温と月別降水量を示したものであり、a、b、c、dは、4国の首都のいずれかである。

Ⅰ 4国からの日本の輸入額

(単位 百万円)

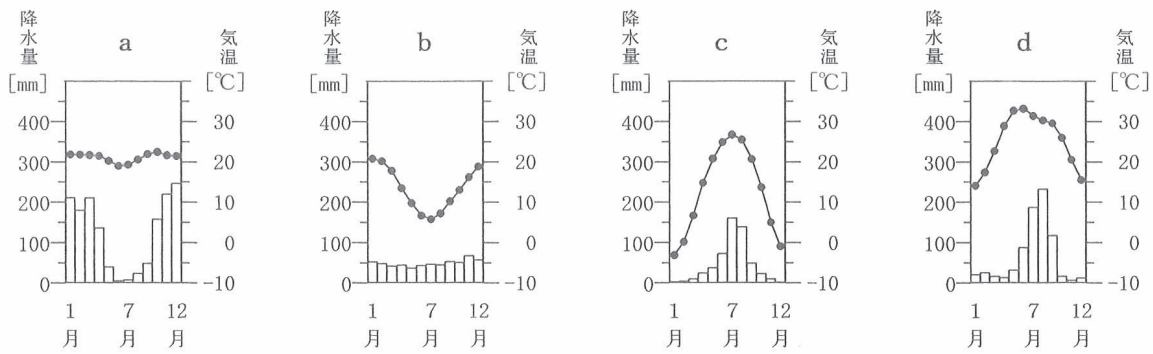
順位	A	B	C	D
1位	機械類 7 916 299	石炭 1 483 645	鉄鉱石 479 815	石油製品 270 086
2位	衣類 2 423 448	液化天然ガス 1 354 013	とうもろこし 129 998	有機化合物 54 108
3位	金属製品 516 290	鉄鉱石 990 596	肉類 105 017	魚介類 41 904
4位	家具 404 619	肉類 161 015	コーヒー 59 368	ダイヤモンド 39 056
5位	がん具 400 686	銅鉱 136 069	アルミニウム 41 839	飼料 32 806
その他	5 998 650	851 581	253 627	252 306
輸入総額	17 659 992	4 976 919	1 069 664	690 266

(「日本国勢図会 2014/15年版」をもとに作成)

Ⅱ 4国の首都の位置を示した略地図



Ⅲ 4国の首都の月別平均気温と月別降水量



(「理科年表 平成26年版」による)

Ⅳ 4国の綿花生産量、牛肉生産量、小麦生産量、国土面積に占める農地の割合

国名	綿花生産量 (千 t)	牛肉生産量 (千 t)	小麦生産量 (千 t)	国土面積に占める 農地の割合 (%)
A	6 583	6 182	117 410	54.0
B	844	2 110	27 410	51.5
C	1 673	9 030	5 690	32.1
D	5 984	1 087	86 874	54.7

(注) 牛肉には、水牛肉を含まない。

(「世界国勢図会 2013/14年版」をもとに作成)

(1) Ⅲの a, b, c, d のグラフのうち、ⅠおよびⅣの表中の A, C の首都の月別平均気温と月別降水量を示したものはどれか。その組み合わせとして最も適当なものを、次のアからシまでの中から選んで、そのかな符号を書きなさい。

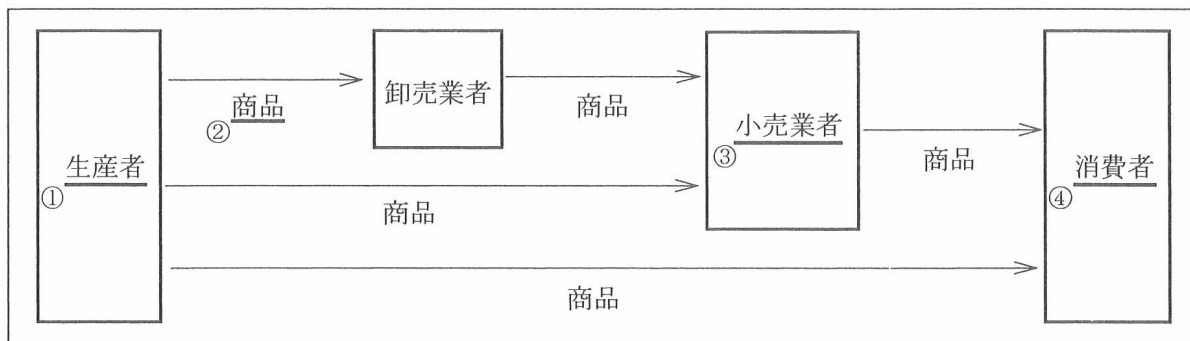
- | | | |
|----------------|----------------|----------------|
| ア A : a, C : b | イ A : a, C : c | ウ A : a, C : d |
| エ A : b, C : a | オ A : b, C : c | カ A : b, C : d |
| キ A : c, C : a | ク A : c, C : b | ケ A : c, C : d |
| コ A : d, C : a | サ A : d, C : b | シ A : d, C : c |

(2) 次の文章は、ⅠおよびⅣの表中の A, B, C, D のいずれかについて述べたものである。文章中の (①), (②) にあてはまることばの組み合わせとして最も適当なものを、下のアからカまでの中から選んで、そのかな符号を書きなさい。

この国は、国土面積に占める農地の割合が50%を超えるが、(①) は表の A, B, C, D の4国のうち最も少ない。これは、国民の約8割が古くから(②) を信仰していることと関わりが深いと考えられる。

- | | |
|---------------------|-----------------|
| ア ① 綿花生産量, ② ヒンドゥー教 | イ ① 綿花生産量, ② 仏教 |
| ウ ① 牛肉生産量, ② ヒンドゥー教 | エ ① 牛肉生産量, ② 仏教 |
| オ ① 小麦生産量, ② ヒンドゥー教 | カ ① 小麦生産量, ② 仏教 |

5 次の図は、流通のしくみを模式的に示したものである。あとの(1)から(4)までの問いに答えなさい。

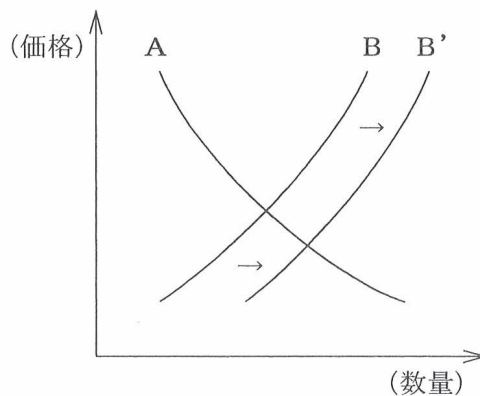


(1) 次の文は、市場における生産者をはじめとする企業間の競争について述べたものである。文中の()にあてはまる最も適切なことばを、漢字2字で書きなさい。

日本では、市場における企業間の競争を促すために()禁止法が制定され、この法律にもとづいて、不当な競争が行われないように監視する公正取引委員会が設置されている。

(2) 右のグラフは、ある商品の需要と供給との関係を模式的に表したものであり、グラフ中のA、Bの曲線は、需要か供給のいずれかを表している。Bの曲線がB'へと移動した場合の説明として最も適切なものを、次のアからクまでの中から選んで、そのかな符号を書きなさい。

- ア この商品の需要が増えたので、価格は下落する。
- イ この商品の需要が増えたので、価格は上昇する。
- ウ この商品の需要が減ったので、価格は下落する。
- エ この商品の需要が減ったので、価格は上昇する。
- オ この商品の供給が増えたので、価格は下落する。
- カ この商品の供給が増えたので、価格は上昇する。
- キ この商品の供給が減ったので、価格は下落する。
- ク この商品の供給が減ったので、価格は上昇する。

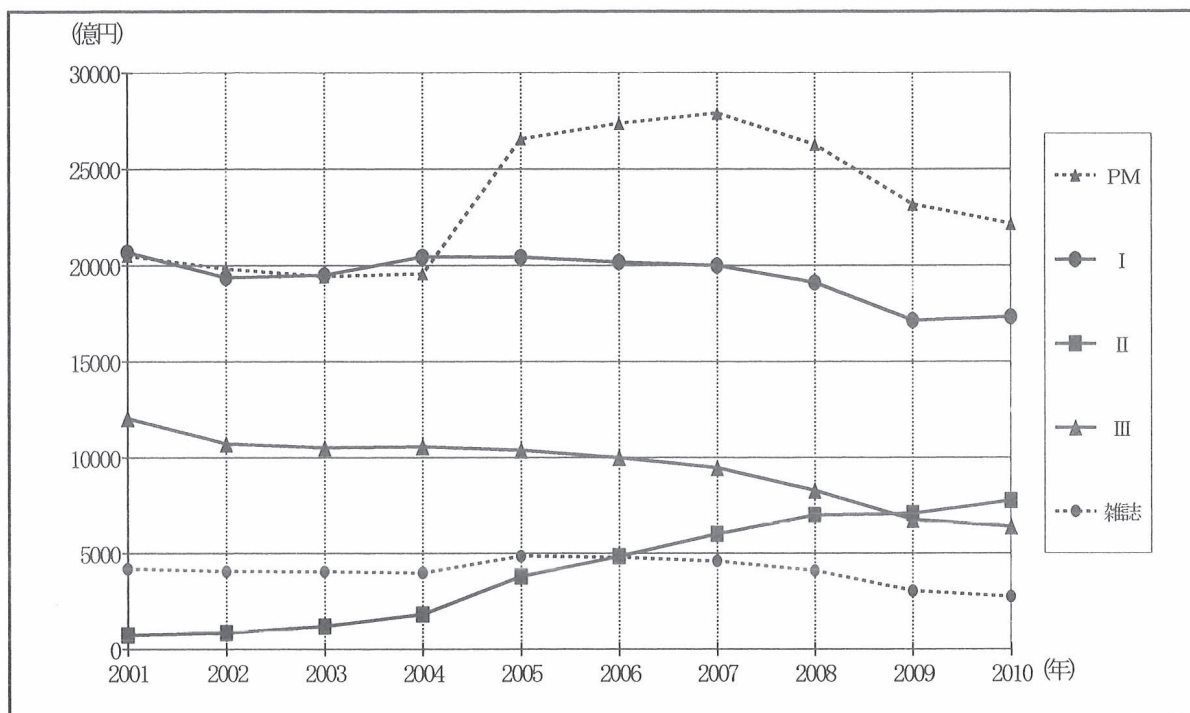


(3) 小売業者に関して述べた文として誤っているものを、次のアからエまでの中から一つ選んで、③ そのかな符号を書きなさい。

- ア スーパーマーケットの中には、卸売業者を介さないで仕入れた商品などを販売する店がある。
- イ 多くのコンビニエンスストアは、販売情報を管理するためのシステムを導入している。
- ウ インターネットによる通信販売が普及し、小売業者を含めた流通のしくみに変化している。
- エ 訪問販売により商品を購入した人が小売業者との契約を取り消すことは、一切できない。

(4) 次のグラフは、消費者に商品などの情報を伝えるための広告費の媒体別の推移を示したものであり、下の文章は、このグラフについて説明したものである。グラフ中のⅠ、Ⅱ、Ⅲを示すことばの組み合わせとして最も適当なものを、あとのアからカまでの中から選んで、そのかな符号を書きなさい。

なお、Ⅰ、Ⅱ、Ⅲは、インターネット、新聞、テレビのいずれかである。



(注) PM (プロモーション・メディア) には、折込チラシやダイレクトメール、看板などを含む。

(「数字でみる日本の100年 改訂第6版」をもとに作成)

2001年には、3つの媒体において広告費がそれぞれ1兆円を超えていたが、その後、新聞による広告費が1兆円を下回るようになるなど、いくつかの媒体で広告費は減少する傾向にある。一方、情報化が進展する中で、2010年におけるPMおよびインターネットによる広告費は、いずれも2001年の広告費より多くなっている。

- | | | | |
|---|------------|------------|-----------|
| ア | Ⅰ インターネット、 | Ⅱ 新聞、 | Ⅲ テレビ |
| イ | Ⅰ インターネット、 | Ⅱ テレビ、 | Ⅲ 新聞 |
| ウ | Ⅰ テレビ、 | Ⅱ インターネット、 | Ⅲ 新聞 |
| エ | Ⅰ テレビ、 | Ⅱ 新聞、 | Ⅲ インターネット |
| オ | Ⅰ 新聞、 | Ⅱ インターネット、 | Ⅲ テレビ |
| カ | Ⅰ 新聞、 | Ⅱ テレビ、 | Ⅲ インターネット |

- 6 次の表は、生徒が国民の祝日に関する法律についてまとめたものの一部である。あとの(1)から(3)までの問いに答えなさい。

名 称	日 付	条文の抜粋
成人の日	1月第2月曜日	おとなになったことを自覚し、みずから生き抜こうとする青年を祝いはげます。
憲法記念日	5月3日	<u>日本国憲法</u> の施行を記念し、国の成長を期する。
こどもの日	5月5日	① こどもの人格を重んじ、こどもの幸福をはかるとともに、母に感謝する。
海の日	7月第3月曜日	<u>海</u> の恩恵に感謝するとともに、海洋国日本の繁栄を願う。
敬老の日	9月第3月曜日	② 多年にわたり社会につくしてきた老人を敬愛し、長寿を祝う。
勤労感謝の日	11月23日	<u>勤労</u> をたっぴ、生産を祝い、国民たがいに感謝しあう。 ③

- (1) 日本国憲法より以前に施行されていた大日本帝国憲法の下での政治について述べた文として最も① 適当なものを、次のアからエまでの中から選んで、そのかな符号を書きなさい。

- ア 集会や結社の自由などの臣民の権利は、法律の範囲内においてのみ認められていた。
イ 枢密院は、内閣総理大臣の相談に応じる機関として内閣の中に設置されていた。
ウ 帝国議会は、衆議院と貴族院からなり、いずれの議員も国民による選挙で選ばれていた。
エ 予算を決める権限は内閣にあり、帝国議会の同意を必要としなかった。

- (2) 海に関して述べた次の文中の(A)、(B)にあてはまることばと数字の組み合わせとして最も② 適当なものを、下のアからカまでの中から選んで、そのかな符号を書きなさい。

排他的経済水域とは、(A)の外側のうち、海岸線から(B)海里以内の水域のことで、沿岸国は、その水域における資源を自国のものとするができる。

- ア A 領土, B 12 イ A 領海, B 12 ウ A 公海, B 12
エ A 領土, B 200 オ A 領海, B 200 カ A 公海, B 200


- (3) 勤労に関する権利について述べた文として最も適当なものを、次のアからエまでの中から選んで、③ そのかな符号を書きなさい。

- ア すべての労働者に労働三権が認められており、これらが制限されることはない。
イ 勤労の権利は、人間らしく生きるために必要な社会権として保障されている。
ウ 労働者の団結権を保障するために、労働基準法が制定されている。
エ 団体交渉権は、労働者が労働条件の改善を求めてストライキなどを行う権利である。


(問題はこれで終わりです。)

解答用紙
第3時限


全日制課程 A
社 会


1	(1)		(2)		※1 
	(3)	貿易			

2	(1)		(2)		※2 
	(3)		(4)	2 番目() 4 番目()	

3	(1)		(2)	県	※3 
	(3)		(4)		

4	(1)				※4 
	(2)				

5	(1)		(2)		※5 
	(3)		(4)		

6	(1)		(2)		※6 
	(3)				

学科名	科	受検番号	第	番	得点	※
-----	---	------	---	---	----	---

(注) ※印欄には何も書かないこと。

