

平成26年学力検査

全 日 制 課 程 B

第 3 時 限 問 題

社 会

検査時間 11時10分から11時50分まで

「解答始め」という指示があるまで、次の注意をよく読みなさい。

注 意

- (1) 解答用紙は、この問題用紙とは別になっています。
- (2) 「解答始め」という指示で、すぐ学科名と受検番号をこの表紙と解答用紙の決められた欄に書きなさい。
- (3) 問題は(1)ページから(10)ページまであります。表紙の裏と(10)ページの次からは白紙になっています。受検番号などを記入したあと、問題の各ページを確かめ、不備のある場合は手をあげて申し出なさい。
- (4) 答えはすべて解答用紙の決められた欄に書きなさい。
- (5) 印刷の文字が不鮮明なときは、手をあげて質問してもよろしい。
- (6) 「解答やめ」という指示で、書くことをやめ、解答用紙と問題用紙を別々にして机の上に置きなさい。

学科名	科	受検番号	第	番
-----	---	------	---	---

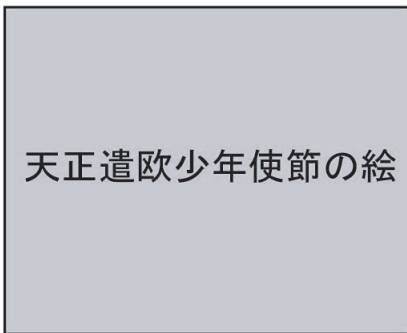
社 会

1 次の文章は、下のⅠの絵とⅡの写真のそれぞれについて説明したものである。あとの(1)から(3)までの問いに答えなさい。

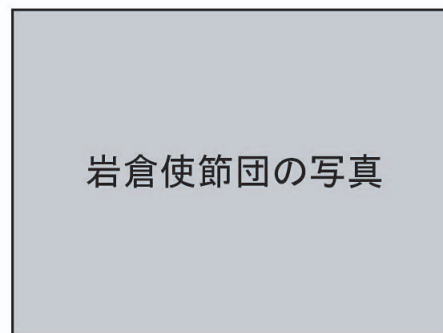
Ⅰの絵は、九州の大名により(①)のもとへ使節^②として派遣された4人の少年たちと宣教師を描いたものである。

Ⅱの写真は、廃藩置県が行われた直後に日本から欧米へ派遣された使節団の代表たちを写したものである。写真の中央には、使節団の中心人物である(③)の姿がみえる。

I



II



(1) 文章中の(①), (③)にあてはまることばと人名の組み合わせとして最も適当なものを、次のアからエまでの中から選んで、そのかな符号を書きなさい。

- ア ① イギリス国王, ③ 徳川慶喜^{とくがわよしのぶ} イ ① イギリス国王, ③ 岩倉具視^{いわくらともみ}
ウ ① ローマ教皇(法王), ③ 徳川慶喜 エ ① ローマ教皇(法王), ③ 岩倉具視

(2) 次の文章は、日本から中国へ派遣された使節^②について述べたものである。文章中の()にあてはまる最も適当なことばを、漢字3字^②で書きなさい。なお、文章中の2か所の()には、同じことばがあてはまる。

朝廷は中国から進んだ文化や制度を取り入れるために、たびたび中国に使節を送った。このうち、7世紀前半から開始された使節の派遣は、9世紀末に停止されるまで、十数回続けられた。この使節は()とよばれ、鑑真^{がんじん}は()の帰国にともなってわが国に渡ってきた。

(3) Ⅱの写真の右から2番目に写っている人物は、帰国後、憲法などの国家制度を調査するために、再びドイツ(プロイセン)などに派遣されている。この人物について述べた文として最も適当なものを、次のアからエまでの中から選んで、そのかな符号を書きなさい。

- ア 内閣制度が創設されると初代の内閣総理大臣に就任した。
イ 日本の首席全権としてサンフランシスコ平和条約に調印した。
ウ 満25歳以上の男子に選挙権をあたえる普通選挙法を成立させた。
エ 国際連盟が設立されるとその事務局次長に就任した。

2 次の資料は、生徒が九州地方にある城や城下町について新聞形式でまとめたものである。あとの(1)から(4)までの問いに答えなさい。なお、資料中の2か所の(③)には、同じことばがあてはまる。また、略地図中の a, b, c, d は鹿児島城、熊本城、佐賀城、福岡城のいずれかである。

九州・沖縄サミット、首里城で開催される

2000年、沖縄をおもな会場にして先進国首脳会議(サミット)が開催されました。

このとき、会場の一部となったのが(①)王国時代の首都に建設され、1992年に復元された首里城でした。

沖縄は、第二次世界大戦後、アメリカによる統治が続きましたが、25年あまりを経て日本への復帰が実現したという歴史をもっています。

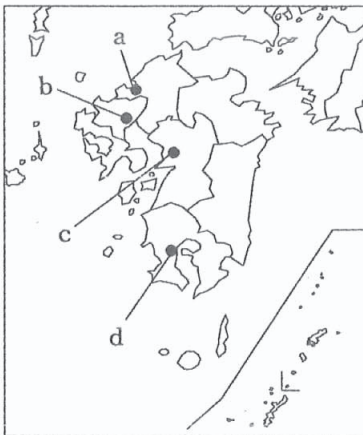
②

首里城の写真

復元された首里城

九州地方新聞

発行 三年二組



九州地方の略地図

明治政府による急激な改革により、特権を失った士族の不満が大きくなり、各地で反乱が起きました。

その最大の反乱が(③)を指導者として鹿児島の士族が起こした西南戦争です。熊本城の政府軍は、(③)の軍の猛攻撃に耐えて守り抜き、戦いを有利に進めました。その熊本城は、左の九州地方の略地図の(④)に位置しています。

西南戦争起こる

熊本城で激戦、政府軍優勢

【トピックス】 博多の地につくられた城下町・福岡

この地域は古代より、博多とよばれていました。1600年、この地を支配した武将の黒田長政くろだながまさが、彼の先祖の居住地にちなんで、自らの城下町の名前を福岡としました。それ以来、町を流れる那珂川を境に、その東側を博多、西側を福岡とよぶようになりました。

二つの町は現在、福岡市に属していますが、1890年に市の名前を決定するときに、福岡市とするか博多市とするかについて、議会で議論となり、わずかの差で福岡市に決定しました。ただし、開通したばかりの鉄道の駅は博多にできたことから、駅名は博多駅となり、現在は福岡市を代表するJRの駅となっています。

- (1) 次の文は、資料中の (①) 王国について述べたものである。この文を参考にして、資料中の (①) にあてはまる最も適切なことばを、漢字2字で書きなさい。

15世紀に成立したこの王国は、東アジアや東南アジアの各地に比較的近いという地理的条件を生かして、これらの地域に船を出し、中継貿易で栄えた。

- (2) 沖縄の日本への復帰が実現した年代より以前に起こった世界のできごとについて述べた文を、次のアからエまでの中から一つ選んで、そのかな符号を書きなさい。

ア 国連環境開発会議（地球サミット）が開かれ、地球環境の保全と持続可能な開発の実現のための具体的な取り組みについて話し合われた。

イ 世界恐慌の混乱に際して、イギリスやフランスはブロック経済政策をとり、自国の利益を優先させた。

ウ ヨーロッパ連合（EU）は、経済面においてEUの中央銀行をつくり、共通通貨であるユーロを導入した。

エ 東西対立の象徴であったベルリンの壁が取り払われ、東西に分かれていたドイツが統一された。

- (3) 資料中の (③) と (④) にあてはまる人名と符号の組み合わせとして最も適切なものを、次のアからクまでの中から選んで、そのかな符号を書きなさい。

ア ③ おおく ぼとしまち 大久保利通, ④ a イ ③ 大久保利通, ④ b

ウ ③ 大久保利通, ④ c エ ③ 大久保利通, ④ d

オ ③ さいごうたかもり 西郷隆盛, ④ a カ ③ 西郷隆盛, ④ b

キ ③ 西郷隆盛, ④ c ク ③ 西郷隆盛, ④ d

- (4) 資料中の1600年から1890年までの間に起こった日本のできごとについて述べた文として最も適切なものを、次のアからエまでの中から選んで、そのかな符号を書きなさい。

ア 長篠の戦いで勝利した大名が安土城を築城し、その城下町に楽市・楽座令を出して、商工業の繁栄をうながす政策をとった。

イ 幕府や荘園領主の支配に反抗して、年貢をうばったりする悪党とよばれる武士たちが登場し、幕府の支配力は衰えていった。

ウ 幕府は、商工業者が株仲間をつくることを奨励し、営業を独占する特権をあたえるかわりに、一定の税を納めさせて財政収入を増やそうとした。

エ 外国への出兵にともなう米の買い占めなどにより米価が値上がりし、各地で米の安売りなどを求める民衆が米騒動とよばれる騒動を起こした。

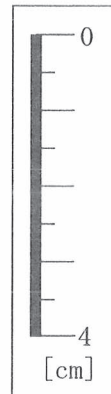
3 次のⅠの表は、生徒が中国地方への家族旅行を計画した際の行程表であり、Ⅱの地形図は、松江市の一部を示したものである。また、Ⅲの略地図は、中国地方の5県を示したものであり、Ⅳの表は、中国地方の5県の人口などを示したものである。あとの(1)から(4)までの問いに答えなさい。

なお、Ⅳの表中のA、B、C、Dは、岡山県、島根県、鳥取県、広島県のいずれかである。

Ⅰ 旅行の行程表

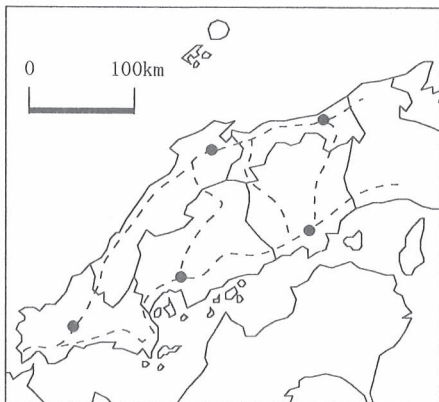
【1日目】	名古屋駅	新幹線	広島駅	市電	原爆ドーム前	徒歩	広島バスセンター
			①				
	高速バス		松江しんじ湖温泉	(宿泊)			
			②				
【2日目】	松江しんじ湖温泉	徒歩	松江駅	JR線	岡山駅	新幹線	名古屋駅
			③		④		

Ⅱ 松江市の地形図 (縮尺2万5千分の1)



ものさし

Ⅲ 中国地方の5県の略地図



(注) 県境はこの問題に関係ある部分を示した。

Ⅳ 中国地方の5県の人口、製造品出荷額等、海面漁業生産量 (漁業漁獲量, 養殖業収穫量), 国内航路乗込人員

県名	人口 (千人)	製造品 出荷額等 (億円)	海面漁業生産量 (t)		国内航路 乗込人員 (千人)
			漁業 漁獲量	養殖業 収穫量	
A	2 861	87 665	15 046	111 623	8 945
B	1 945	77 211	6 301	26 838	1 162
山口県	1 451	63 585	42 806	4 372	642
C	717	9 924	120 992	764	499
D	589	8 474	65 957	86	60

(「データでみる県勢 2013年版」による)

- (1) 次の文章は、原爆ドームに関連して述べたものである。文章中の () にあてはまる最も適切なことばを、① 6字で書きなさい。

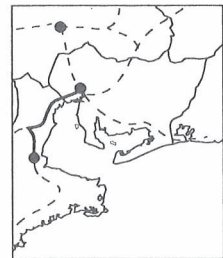
1945年7月、連合国は日本に無条件降伏を求める () を出した。その後アメリカは、同年8月6日、広島に原子爆弾を投下した。ドームは、被爆前は広島県産業奨励館であったが、一瞬にして廃きよとなり、核兵器の恐怖を今に伝えるものとして、世界文化遺産に登録されている。

- (2) 次の文章は、松江しんじ湖温泉に宿泊した生徒が、翌日、Ⅱの地形図中の「まつえしんじこおんせん」駅付近の ● の地点を出発点として、「まつえ」駅まで歩いた際のメモの一部である。文章中の (x), (y), (z) にあてはまることばと数字の組み合わせとして最も適切なものを、下のアからクまでのの中から選んで、そのかな符号を書きなさい。

●の地点を出発点として、^{しんじこ}宍道湖にかかる宍道湖大橋を東の方角に見ながら進むと、途中、左手に (x) の建物が見えた。宍道湖大橋のすぐ北の交差点を左折し、左に神社を見て道なりに北上すると、道がほぼ直角に曲がる地点に達した。この地点からは、ほぼ (y) の方角に、松江城のある小高い丘が見えた。この地点から東に約 (z) メートル直進したのちに交差点を右折して、くにびき大橋を渡り、「まつえ」駅に向かった。

- | | |
|------------------------|------------------------|
| ア x 市役所, y 北西, z 2400 | イ x 市役所, y 北西, z 1200 |
| ウ x 市役所, y 北東, z 2400 | エ x 市役所, y 北東, z 1200 |
| オ x 高等学校, y 北西, z 2400 | カ x 高等学校, y 北西, z 1200 |
| キ x 高等学校, y 北東, z 2400 | ク x 高等学校, y 北東, z 1200 |

- (3) Ⅲの略地図は、中国地方のJR線の一部を ----- で示しており、また、●は中国地方の5県の県庁所在地にある岡山駅、鳥取駅、広島駅、松江駅、山口駅のいずれかを示している。----- のうち、Ⅰの旅行の行程表の中で、「松江駅 $\xrightarrow{\text{JR線}}$ 岡山駅」と表された部分を、右の例にならって③ ----- で示しなさい。④ なお、略地図中で松江駅と岡山駅を最短距離でたどるJR線の経路で結ぶものとする。



〈例〉津駅と名古屋駅を結んだ場合

- (4) Ⅳの表について述べた次の文中の (X), (Y) にあてはまることばの組み合わせとして最も適切なものを、下のアからエまでのの中から選んで、そのかな符号を書きなさい。なお、文中の2か所の (X), (Y) には、それぞれ同じことばがあてはまる。

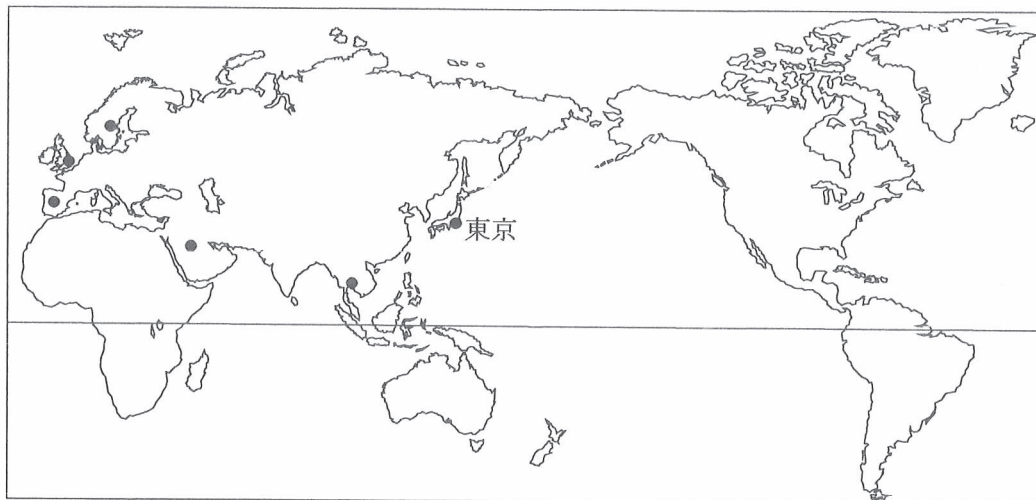
(X) に面している県の養殖業収穫量と (Y) は、(X) に面していない県の養殖業収穫量と (Y) よりも多い。

- | | |
|----------------------|-------------------|
| ア X 日本海, Y 国内航路乗込人員 | イ X 日本海, Y 漁業漁獲量 |
| ウ X 瀬戸内海, Y 国内航路乗込人員 | エ X 瀬戸内海, Y 漁業漁獲量 |

4 次のⅠの略地図は、経線と緯線が直角に交わるように描いたものであり、Ⅱの表は、イギリス、サウジアラビア、スウェーデン、スペイン、タイの5国について輸出額の推移、2010年の輸出額上位3品目とその輸出額等を示したものである。あとの(1)、(2)の問いに答えなさい。

なお、Ⅰの略地図中の●は、イギリス、サウジアラビア、スウェーデン、スペイン、タイのいずれかの国の首都および東京の位置を示している。

Ⅰ 経線と緯線が直角に交わるように描いた略地図



Ⅱ 5国の輸出額の推移、2010年の輸出額上位3品目とその輸出額、輸入額の推移、2010年の輸入額上位3品目とその輸入額

国名		イギリス	サウジアラビア	スウェーデン	スペイン	タイ
輸出額の推移 (百万ドル)	2007年	434 473	233 300	168 979	246 752	153 858
	2008年	468 210	313 427	183 907	277 695	175 897
	2009年	356 520	192 296	131 042	220 848	151 986
	2010年	410 178	251 149	158 089	246 274	195 376
2010年の輸出額 上位3品目とその 輸出額 (百万ドル)		機械類 89 562 自動車 35 912 医薬品 33 866	原油 189 434 石油製品 18 764 プラスチック 10 996	機械類 43 849 自動車 13 200 石油製品 9 912	自動車 42 982 機械類 33 877 野菜・果実 15 110	機械類 62 348 自動車 18 516 石油製品 8 642
輸入額の推移 (百万ドル)	2007年	620 899	90 215	153 463	382 651	141 294
	2008年	641 255	115 133	168 993	417 049	178 680
	2009年	485 245	95 544	120 262	290 744	134 827
	2010年	561 470	106 865	148 471	315 548	184 591
2010年の輸入額 上位3品目とその 輸入額 (百万ドル)		機械類 119 746 自動車 51 860 原油 30 143	機械類 26 530 自動車 15 584 鉄鋼 6 728	機械類 38 178 自動車 13 967 原油 10 425	機械類 55 587 原油 30 133 自動車 29 962	機械類 55 641 原油 23 894 鉄鋼 11 593

(「世界国勢図会 2012/13年版」による)

(1) Iの略地図とIIの表について述べた文として最も適当なものを、次のアからエまでのの中から選んで、そのかな符号を書きなさい。

ア 5国のうち、東京と首都との時差が最も短い国は、2010年の輸出額上位3品目、2010年の輸入額上位3品目がいずれも工業製品である。

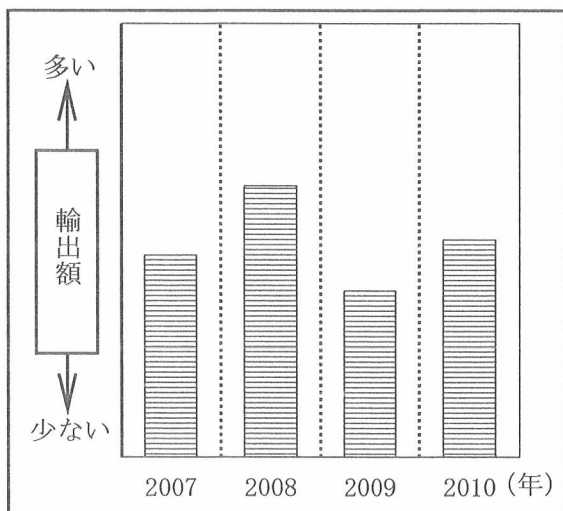
イ 5国のうち、首都が最も高い緯度に位置する国の2010年の輸入額全体に占める輸入額上位3品目の合計の割合は、輸入額全体の5割を超えている。

ウ 5国のうち、大西洋に面している2国は、2010年の輸出額上位3品目がいずれも工業製品であり、2010年の輸入額上位2品目がいずれも工業製品である。

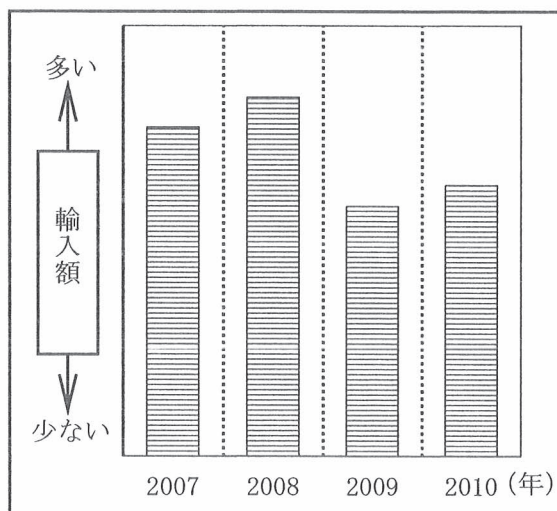
エ 5国のうち、首都が乾燥帯に位置する国は、2010年の輸出額全体に占める輸出額上位3品目のうちの原材料の占める割合が輸出額全体の7割を超えている。

(2) 次のAのグラフは、IIの表中の5国のうち、2007年から2010年までの4年間におけるいずれかの国の輸出額の推移を模式的に示したものである。また、Bのグラフは、IIの表中の5国のうち、同期間におけるいずれかの国の輸入額の推移を模式的に示したものである。A、Bのグラフがそれぞれの国のことを示しているか、その国名の組み合わせとして最も適当なものを、下のアからクまでのの中から選んで、そのかな符号を書きなさい。

A 輸出額の推移



B 輸入額の推移



ア A イギリス, B サウジアラビア

イ A イギリス, B タイ

ウ A サウジアラビア, B スペイン

エ A サウジアラビア, B タイ

オ A スウェーデン, B イギリス

カ A スウェーデン, B スペイン

キ A スペイン, B サウジアラビア

ク A スペイン, B イギリス

- 5 次の文章は、ある生徒とその父親との会話の一部である。あとの(1)から(4)までの問いに答えなさい。

生徒： お父さんが就職したのは、景気よかったバブル経済のころなんだよね。
父親： そのとおり。だけど、そのバブル経済のあとは、しばらく景気の低迷が続いたんだ。
その間に、円高が進み、物価も下がるようになったんだ。
生徒： 物価が下がると、安く買い物ができるからいいんじゃないの。
父親： 買い物をするときはいいけど、多くの店や会社は売上げが伸びなくて大変なんだ。
生徒： そんな時こそ、政府に何かできることはないの。
父親： 政府や日本銀行が実施する財政政策や金融政策は、景気回復の大きな柱となるんだ。

- (1) 円高について述べた次の文中の (A)、(B) にあてはまることばの組み合わせとして最も適切なものを、下のアからエまでの中から選んで、そのかな符号を書きなさい。

円高・ドル安は、外国為替市場において、円買い・ドル売りの傾向が強まることによって生じるもので、一般に、日本からアメリカへの輸出が (A) したり、日本からアメリカへの旅行が (B) になったりする。

- ア A 減少、 B 割高 イ A 減少、 B 割安
ウ A 増加、 B 割高 エ A 増加、 B 割安

- (2) 会社について述べた次の文章中の () にあてはまる最も適切なことばを、漢字2字で書きなさい。なお、文章中の2か所の () には、同じことばがあてはまる。

多くの個人や法人から大量の資金を集めるために () を発行し、それによって得た資金をもとに経営にあたる会社のことを、() 会社という。出資者は、利潤の一部を配当として受け取ることができる。

- (3) 日本銀行の役割として誤っているものを、次のアからエまでの中から一つ選んで、そのかな符号を書きなさい。

- ア 企業や個人に資金を直接貸し付けることなどを通して、国内に通貨を流通させる。
イ 一般の銀行に資金を貸し出したり、一般の銀行からの預金を受け入れたりする。
ウ 税金などの政府の収入を預かったり、政府に代わって支払いを行ったりする。
エ 金融政策の一つとして、市場に出回っている国債などの売買を行ったりする。

(4) 次のグラフは、財政に関連して、日本のおもな国税の納税額の推移を示したものであり、下の a から f までの文は、このグラフについて述べたものである。正しい文の組み合わせとして最も適当なものを、あとのアからケまでのの中から選んで、そのかな符号を書きなさい。

なお、X、Y、Z は、消費税、所得税、法人税のいずれかである。



(「数字で見る日本の100年 改訂第6版」をもとに作成)

- a Xは、累進課税の方法が適用されている所得税である。
- b Yは、財やサービスの売り上げに課される消費税である。
- c Zは、企業の利益に応じて課される法人税である。
- d Xは、最も納税額が多かった年度から約20年間で3分の1以下に減少している。
- e Yは、1985年度以降で、納税額が前年度の半分以下になった年度がある。
- f Zは、1997年度に税率が今の水準まで引き上げられて以降、納税額はほぼ一定である。

- | | | | | | |
|---|------|---|------|---|------|
| ア | a, d | イ | a, e | ウ | a, f |
| エ | b, d | オ | b, e | カ | b, f |
| キ | c, d | ク | c, e | ケ | c, f |

6 次の文章を読んで、あとの(1)から(3)までの問いに答えなさい。

日本国憲法は、「前文」と11の章によって構成されている。第3章では、「国民の権利及び義務」^①として、さまざまな基本的人権などについて規定されている。また、第4章から第7章までには、「国会」や「内閣」^②など国政のしくみについて、第8章以降には、「地方自治」などについて規定されている。^③

(1) 日本国憲法について述べた文として最も適当なものを、次のアからエまでの中から選んで、そのかな符号を書きなさい。

ア 国民が政治のあり方を決める国民主権の原則を掲げ、それを実現するために、国政においても直接民主制を基本としている。

イ 天皇の国事に関するすべての行為には、国会の助言と承認を必要とし、国会が、その責任を負うとしている。

ウ 国民の果たすべき義務として、子どもに普通教育を受けさせる義務、投票の義務、納税の義務の三つをあげている。

エ 裁判官は、憲法および法律に拘束されるほかは、自らの良心にしたがい独立して仕事を行うとしている。

(2) 基本的人権について述べた文として最も適当なものを、次のアからエまでの中から選んで、そのかな符号を書きなさい。

ア アメリカ独立宣言は、人が生まれながらにして持つ権利の中に、生命、自由および幸福追求が含まれるとした。

イ 大日本帝国憲法は、臣民の権利について、公共の福祉に反しない限り、立法その他国政の上で、最大の尊重を必要とすると規定した。


ウ ドイツのワイマール憲法は、良好な環境を求める権利を保障するとして、世界で初めて憲法に環境権を規定した。


エ 国際人権規約は、世界共通の人権保障の水準を掲げたものであり、のちにそれを達成するために国連総会において世界人権宣言が採択された。


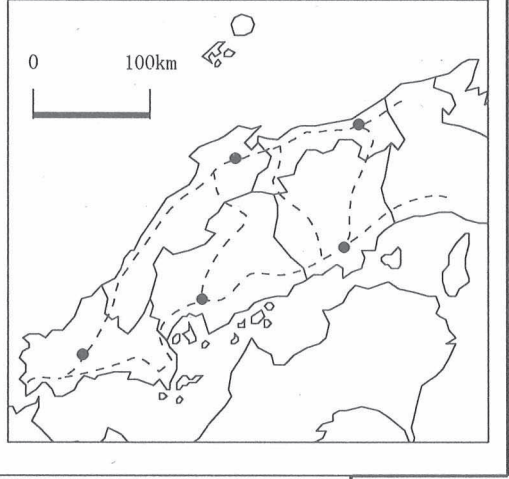
(3) 次の文章は、内閣について述べたものである。文章中の()にあてはまる最も適当なことばを、漢字4字で書きなさい。なお、文章中の2か所の()には同じことばがあてはまる。

日本国憲法は、「内閣は、法律の定めるところにより、その首長たる内閣総理大臣及びその他の()でこれを組織する。」(第66条)と定めている。()は、内閣総理大臣によって任命される。


(問題はこれで終わりです。)


1	(1)		(2)		※1 
	(3)				

2	(1)		(2)		※2 
	(3)		(4)		

3	(1)		(2)		※3 
	(3)				
	(4)				

4	(1)			※4 
	(2)			

5	(1)		(2)		※5 
	(3)		(4)		

6	(1)		(2)		※6 
	(3)				

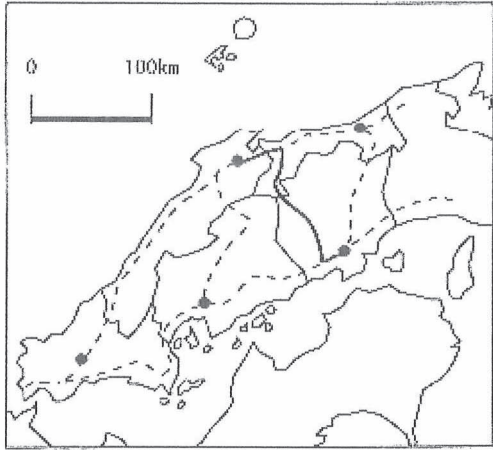
学科名		科	受検番号	第	番	得点	※
-----	--	---	------	---	---	----	---

(注) ※印欄には何も書かないこと。



1	(1)	エ	(2)	遣唐使
	(3)	ア		

2	(1)	琉球	(2)	イ
	(3)	キ	(4)	ウ

3	(1)	ポツダム宣言	(2)	イ
	(3)			
	(4)	ウ		

4	(1)	エ
	(2)	ウ

5	(1)	イ	(2)	株式
	(3)	ア	(4)	ウ

6	(1)	エ	(2)	ア
	(3)	國務大臣		