

平成26年学力検査

全 日 制 課 程 A

第 3 時 限 問 題

社 会

検査時間 11時10分から11時50分まで

「解答始め」という指示があるまで、次の注意をよく読みなさい。

注 意

- (1) 解答用紙は、この問題用紙とは別になっています。
- (2) 「解答始め」という指示で、すぐ学科名と受検番号をこの表紙と解答用紙の決められた欄に書きなさい。
- (3) 問題は(1)ページから(10)ページまであります。表紙の裏と(10)ページの次からは白紙になっています。受検番号などを記入したあと、問題の各ページを確かめ、不備のある場合は手をあげて申し出なさい。
- (4) 答えはすべて解答用紙の決められた欄に書きなさい。
- (5) 印刷の文字が不鮮明なときは、手をあげて質問してもよろしい。
- (6) 「解答やめ」という指示で、書くことをやめ、解答用紙と問題用紙を別々にして机の上に置きなさい。

学科名	科	受検番号	第	番
-----	---	------	---	---

社 会

1 次のⅠ、Ⅱ、Ⅲの写真は、日本の建築物や中国の遺跡を写したものである。あとの(1)から(3)までの問いに答えなさい。



(1) 写真Ⅰの建築物が建てられた年代とほぼ同じ時期の日本の文化について述べた文として最も適当なものを、次のアからエまでのの中から選んで、そのかな符号を書きなさい。

- ア 医学や天文学などが、ヨーロッパ人によって伝えられた。
- イ 座禅によってさとりを開く禅宗が、宋から伝えられた。
- ウ 「古今和歌集」が、きのつらゆき紀貫之らによってまとめられた。
- エ せつしゆう雪舟が、墨一色で自然などを描く水墨画を大成した。

(2) 次の文章は、写真Ⅱの建築物と、この建築物が完成した年代とほぼ同じ時期の日本のようすについて述べたものである。文章中の(①), (②)にあてはまることばの組み合わせとして最も適当なものを、下のアからエまでのの中から選んで、そのかな符号を書きなさい。

この建築物は、(①)であり、世界遺産に登録されている。この建築物が完成した17世紀初めころ、(②)をあたえられた日本の商人らは、東南アジアの各地に出かけてさかんに貿易を行った。

- ア ① 姫路城, ② 朱印状 イ ① 姫路城, ② 勘合
- ウ ① 大阪城, ② 朱印状 エ ① 大阪城, ② 勘合

(3) 次の文章は、写真Ⅲの遺跡に関連して述べたものである。文章中の()にあてはまる最も適当なことばを、漢字1字で書きなさい。なお、文章中の2か所の()には同じことばがあてはまる。

写真Ⅲは、発掘された始皇帝陵しこうていの兵馬俑を写したものである。紀元前3世紀に、()の始皇帝は中国を統一したが、()はすぐに滅び、漢が中国を支配した。

2 次のA, B, C, D, E, Fのカードは, さまざまな時代の日本の農村のようすについて述べたものである。あとの(1)から(4)までの問いに答えなさい。

A

初めて (①) とよばれる自治的な組織がつくられ, 山野の利用などについて村のおきてが定められた。

B

地主の耕地を国が買い上げ, 小作人に安く売り渡すという (②) が行われたため, 多くの自作農が生まれた。

C

太閤検地が行われ, 田畑の広さや耕作者などを調べ, 予想される生産量が (③) で示された。

D

鉄製の農具が広まり, 稲の収穫は増えたが, 田が荒れたり, 人口が増加したりすることもあり, 口分田が不足するようになった。
④

E

都市の人口増大などに対応した米作や, 輸出の生糸の生産に必要な「まゆ」をつくるための養蚕がさかんになった。
⑤

F

農作業の方法や農具が改良され, 土を深く耕すことのできる備中ぐわが, 初めて用いられるようになった。

(1) Aのカードの (①), Bのカードの (②), Cのカードの (③) にあてはまることばの組み合わせとして最も適当なものを, 次のアからクまでの中から選んで, そのかな符号を書きなさい。

- | | | | |
|---|------|---------|------|
| ア | ① 惣, | ② 地租改正, | ③ 石高 |
| イ | ① 惣, | ② 地租改正, | ③ 地価 |
| ウ | ① 惣, | ② 農地改革, | ③ 石高 |
| エ | ① 惣, | ② 農地改革, | ③ 地価 |
| オ | ① 座, | ② 地租改正, | ③ 石高 |
| カ | ① 座, | ② 地租改正, | ③ 地価 |
| キ | ① 座, | ② 農地改革, | ③ 石高 |
| ク | ① 座, | ② 農地改革, | ③ 地価 |

(2) 次の文章は, 口分田について述べたものである。文章中の () にあてはまる最も適当なことばを, 漢字4字で書きなさい。

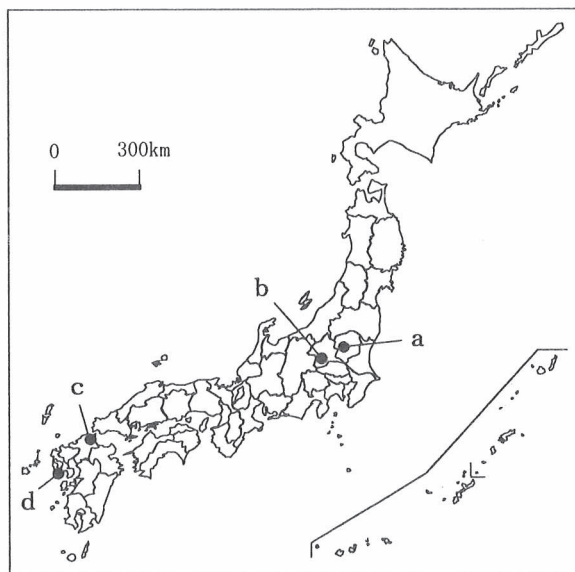
朝廷は律令にもとづいて戸籍をつくり, () (の法)によって, 戸籍に登録された6歳以上の男女に口分田をあたえた。また, 口分田から収穫された稲の一部を租として納めさせた。

(3) 次の文章は、輸出用の生糸の生産がさかんになったころとほぼ同じ時期のわが国の経済や社会のようすについてまとめたものであり、下の略地図は、文章中の工場や銅山の所在地を示したものである。文章中の（ ）にあてはまる人名と、略地図中における足尾銅山の所在地の組み合わせとして最も適当なものを、あとのアからクまでの中から選んで、そのかな符号を書きなさい。

なお、略地図中の a, b, c, d は、富岡製糸場、八幡製鉄所、三菱長崎造船所、足尾銅山のいずれかの所在地を示している。

政府は、富岡製糸場などの官営模範工場を開設し、産業の育成をはかった。その後、製糸、紡績などの軽工業が発展し、わが国では産業革命の時代を迎えた。製糸業はおもにアメリカ向けの輸出産業として発展した。また、八幡製鉄所や三菱長崎造船所などが建設され、重工業もしだいに発達した。

一方、急速な工業の発展は、労働問題や公害問題を引き起こした。足尾銅山の鉱毒事件では、衆議院議員の（ ）が、鉱山の操業停止と被害民救済を政府に訴えた。



- | | | | | | |
|---|-------|---|---|-------|---|
| ア | 幸徳秋水, | a | イ | 幸徳秋水, | b |
| ウ | 幸徳秋水, | c | エ | 幸徳秋水, | d |
| オ | 田中正造, | a | カ | 田中正造, | b |
| キ | 田中正造, | c | ク | 田中正造, | d |

(4) AからFまでの6枚のカードを次のように年代の古い順に並べたとき、2番目と4番目になるカードの符号をそれぞれ書きなさい。



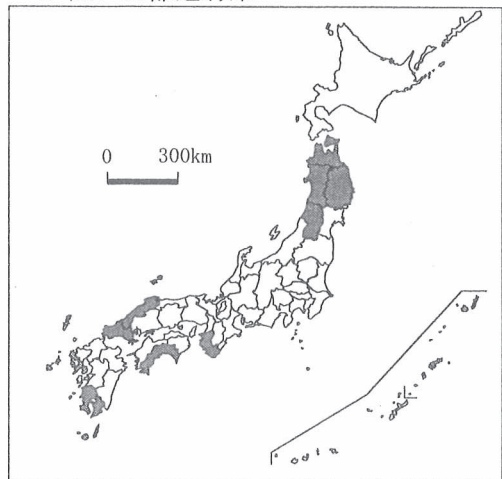
3 次の文章は、ある県に住む生徒が調べ学習を行ったときの会話の一部であり、下のⅠ、Ⅱ、Ⅲ、Ⅳの略地図は、生徒が過疎地域に関連して調べたことについて、割合が高いまたは割合が低い10都道府県を■で示したものである。あとの(1)から(4)までの問いに答えなさい。

Aさん：私たちの住む県は、全国一、総面積に占める過疎地域の割合が高いそうだよ。
 Bさん：65歳以上の人口の割合が高い10都道府県にも入っているね。
 Cさん：でも、林野率が高い10都道府県には入っていないわね。
 Aさん：海岸沿いの平野には、田んぼが広がっているからね。
 Dさん：日本各地の過疎地域では、バス路線が廃止されるところもあると聞いたわ。
 Bさん：伝統文化のいない手が減り、祭りなどの存続が心配されるところもあると聞いたよ。
 Cさん：でも、特産品で村おこしに成功しているところもあるよ。
 Aさん：今から、私たちの県の過疎地域の活性化^①について考えていこう。
^②
^③

Ⅰ 総面積に占める過疎地域の割合が高い10都道府県



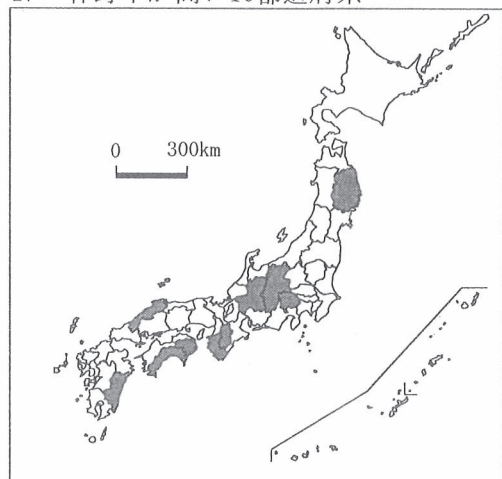
Ⅱ 2000年から2005年までの人口増減率が低い10都道府県



Ⅲ 65歳以上の人口の割合が高い10都道府県




Ⅳ 林野率が高い10都道府県




(注) ⅠからⅣまでのいずれの略地図においても沖縄県は■で示された都道府県に入っていない。林野率は、総土地面積に占める林野面積の割合である。

(「データでみる県勢 2013年版」などをもとに作成)

(1) I, II, III, IVの略地図について述べた文として最も適当なものを、次のアからエまでの中から選んで、そのかな符号を書きなさい。

ア I, II, III, IVのすべての略地図において、で示された都道府県が含まれていない地方は、関東地方および近畿地方である。

イ I, II, III, IVのすべての略地図において、共通してで示された都道府県は3県であり、どの県も太平洋に面している。

ウ 総面積に占める過疎地域の割合が高い10都道府県のうち、過半数の都道府県が、65歳以上の人口の割合が高い10都道府県と重なる。

エ 2000年から2005年までの人口増減率が低い10都道府県のうち、過半数の都道府県が、林野率が高い10都道府県と重なる。

(2) 祭りについて述べた次の文章中の (X), (Y) にあてはまることばの組み合わせとして①最も適当なものを、下のアからエまでの中から選んで、そのかな符号を書きなさい。

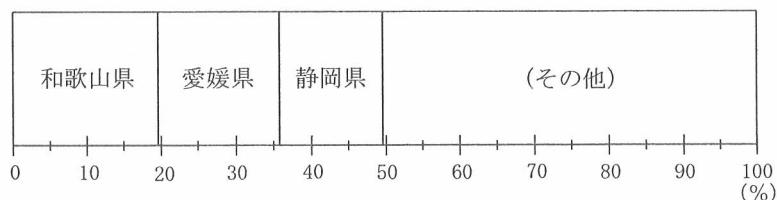
古くから伝承されてきた祭りとしては、応仁の乱ののち、(X) の町衆が復興させた祇園祭が有名である。また、高知市の (Y) は、新しい文化の創造に影響をあたえた。

ア X 京都, Y エイサー イ X 京都, Y よさこい祭り

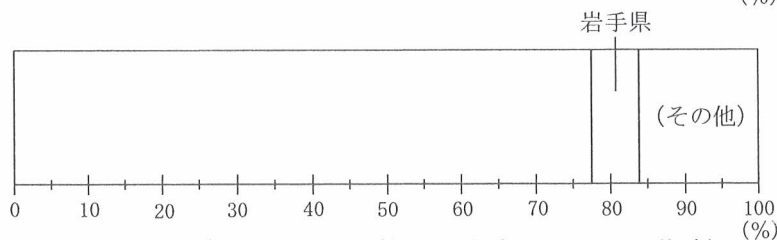
ウ X 江戸, Y エイサー エ X 江戸, Y よさこい祭り

(3) 次の表は、みかんやりんごを特産品としている県について、収穫量の全国に占める割合の高い県を順に示したものであり、右のグラフは、それぞれの収穫量の割合を表したものである。りんごの収穫量の割合について、みかん収穫量のグラフにならって、割合の高い順に県名と線を書き込み、グラフを完成させなさい。なお、表中の a, b は、青森県、長野県のいずれかである。

みかん収穫量の上位3県の全国に占める割合(%)	
和歌山県	19.6
愛媛県	16.2
静岡県	13.8



りんご収穫量の上位3県の全国に占める割合(%)	
a	56.1
b	21.3
岩手県	6.4



(「データでみる県勢 2013年版」をもとに作成)

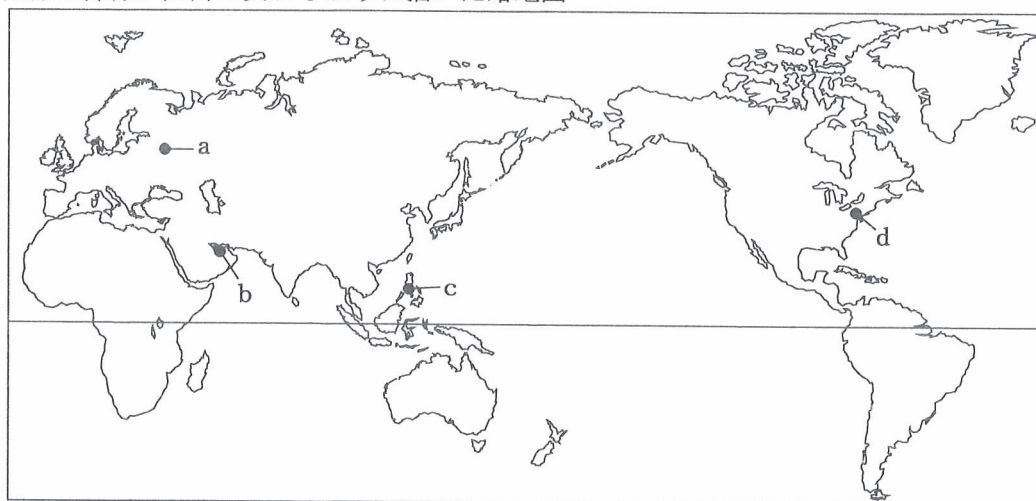
(4) 次の文章は、Aさんが考えた自分の住む県の過疎地域の活性化の具体案である。これを参考に③して、Aさんが住む県の県名を漢字で書きなさい。

私たちの県は、米作りがさかんです。農家の生産したブランド米を、広く全国の人たちに知ってもらい、直接消費者に販売できればよいと思います。また、県境にある世界遺産の白神山地を訪れるツアーを企画して地域の活性化につなげられたらよいと思います。

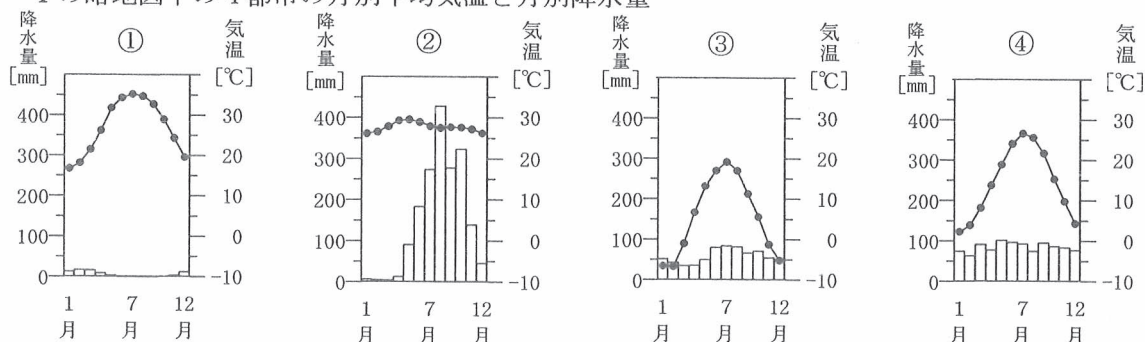
4 次のⅠの略地図中の a, b, c, d は、成田国際空港から直行便のある4都市の位置を示したものであり、Ⅱの①, ②, ③, ④のグラフは、Ⅰの略地図中の4都市の月別平均気温と月別降水量を表したものである。また、Ⅲの表は、Ⅰの略地図中の4都市を首都とする4国および日本の1人あたり国民総所得などを示したものであり、Ⅳのグラフは、これらの4国から日本への輸出品上位5品目とその割合を示したものである。あとの(1), (2)の問いに答えなさい。

なお、Ⅰの略地図中の a, b, c, d およびⅡのグラフの①, ②, ③, ④は、それぞれドーハ、マニラ、モスクワ、ワシントンのいずれかであり、Ⅲの表の A, B, C, D およびⅣのグラフの W, X, Y, Z は、それぞれアメリカ、カタール、フィリピン、ロシアのいずれかである。

Ⅰ 経線と緯線が直角に交わるように描いた略地図



Ⅱ Ⅰの略地図中の4都市の月別平均気温と月別降水量



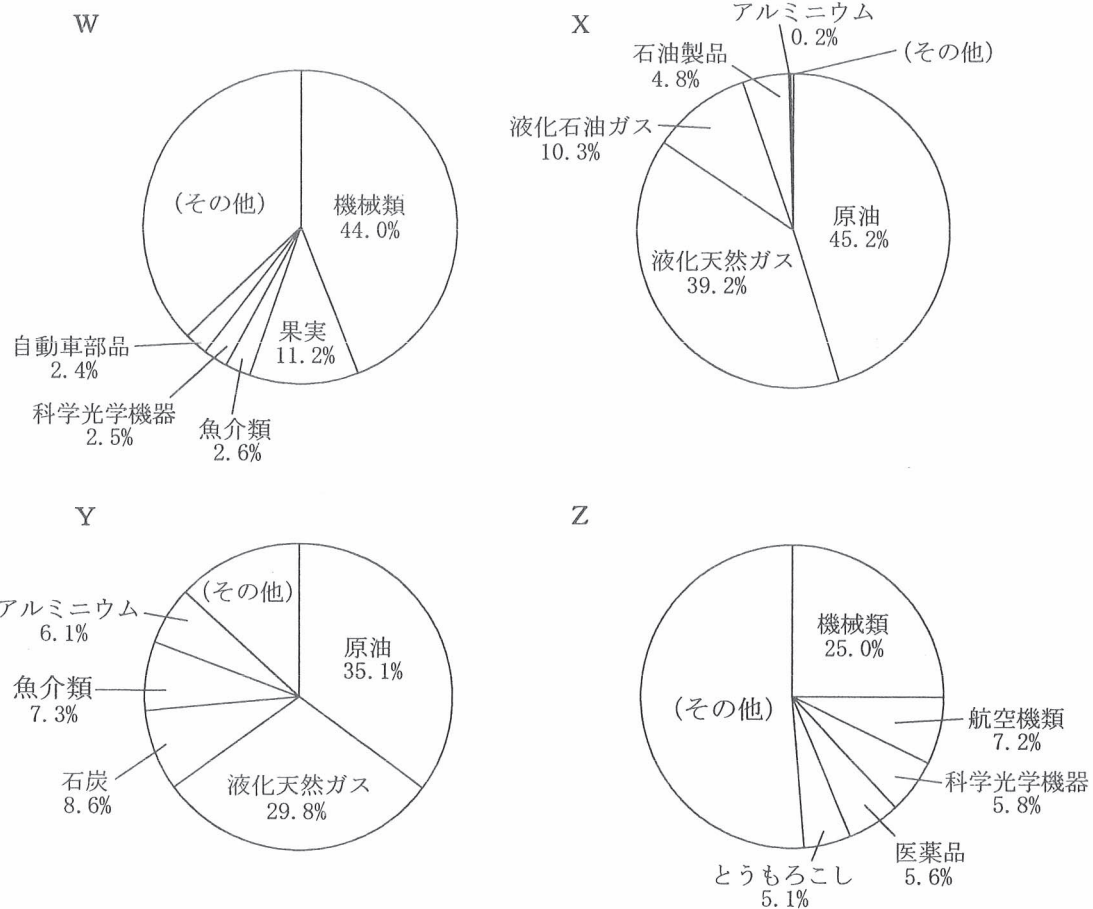
(「理科年表 平成25年版」などによる)

Ⅲ 4国および日本の1人あたり国民総所得, 小麦生産量, 米生産量

国名	1人あたり国民総所得(ドル)	小麦生産量(千t)	米生産量(千t)
A	71 117	0.03	—
B	47 153	60 103	11 027
C	10 013	41 508	1 061
D	2 851	—	15 772
日本	44 269	571	10 600

(注) 表中の「—」は、まったくないことを示している。(「世界国勢図会 2012/13年版」による)

IV 4国から日本への輸出品上位5品目とその割合



(「日本国勢図会 2013/14年版」をもとに作成)

- (1) 次の文章は、IIのグラフをもとに、Iの略地図中のいずれかの都市について述べたものである。この都市の位置を示したものとして最も適当なものを、Iの略地図中のaからdまでの中から選んで、その符号を書きなさい。また、この都市が属する気候帯(気候)の名称を、漢字で書きなさい。

この都市の月別平均気温は、最も高い月と最も低い月の差が10℃以上である。また、この都市の年間降水量は、4都市の中で2番目に多い。

- (2) 次の文章は、IIIの表およびIVのグラフで示された4国のうち、いずれかの国について述べたものである。IIIの表およびIVのグラフのうち、この国を示したものの組み合わせとして最も適当なものを、下のアからクまでの中から選んで、そのかな符号を書きなさい。

この国は、国際連合の安全保障理事会の常任理事国の一つであり、豊富なエネルギー資源を有している。また、国土の大部分が、冷帯に属している。

- | | | | |
|--------|--------|--------|--------|
| ア A, W | イ A, X | ウ B, Y | エ B, Z |
| オ C, Y | カ C, X | キ D, W | ク D, Z |

5 次の文章を読んで、あとの(1)から(4)までの問いに答えなさい。

日本ではかつてないスピードで少子高齢化が進んでいる。少子高齢化の進行で、高齢者に対する年金や介護、医療などへの支出①が増加する一方、働く世代が減少し、国民の経済的な負担が重くなるなど、社会保障のあり方が問われている。また、グローバル化による激しい競争もあって、労働環境③は大きく変化しており、企業経営と雇用の問題をどのように調整するかが、わが国の課題④となっている。

(1) 少子高齢化について、次のⅠの表は、アメリカ、日本、ドイツ、フィリピン、イギリス、エジプトの6国の人口の推移を、Ⅱの表は、これらの6国の65歳以上の人口の割合の推移を示したものである。また、Ⅲの表は、これらの6国の平均寿命などを示している。Ⅰ、Ⅱ、Ⅲの表について述べた文として最も適当なものを、下のアからエまでの中から選んで、そのかな符号を書きなさい。

Ⅰ 6国の人口の推移 (単位 千人)

国名 \ 年	1990	2000	2010	2020	2030
アメリカ	253 339	282 496	310 384	337 102	361 680
日本	123 611	126 926	128 057	124 100	116 618
ドイツ	79 098	82 349	82 302	80 988	79 469
フィリピン	61 629	77 310	93 261	109 742	126 321
イギリス	57 214	58 874	62 036	65 802	69 314
エジプト	56 843	67 648	81 121	94 810	106 498

Ⅱ 6国の65歳以上の人口の割合の推移 (単位 %)

国名 \ 年	1990	2000	2010	2020	2030
アメリカ	12.5	12.4	13.1	16.2	19.9
日本	12.0	17.3	23.0	29.1	31.6
ドイツ	14.9	16.3	20.4	23.0	28.0
フィリピン	3.1	3.2	3.6	4.9	6.7
イギリス	15.7	15.8	16.6	18.7	21.1
エジプト	3.7	4.4	5.0	6.7	8.7

Ⅲ 6国の平均寿命・出生率・死亡率(2009年) (平均寿命の単位 年)

国名	平均寿命	出生率	死亡率
アメリカ	79	13.5	7.9
日本	83	8.4	8.9
ドイツ	80	8.1	10.4
フィリピン	70	18.9	5.2
イギリス	80	12.8	9.1
エジプト	71	28.8	6.2

(注) Ⅰ、Ⅱともに、2010年までは推計人口、2020年以降は将来推計人口である。

Ⅲの出生率、死亡率は、人口千人あたり人数である。

(総務省統計局「世界の統計 2013」などによる)

ア 6国のうち、1990年における人口が少ない2国は、2030年においても、ともに人口が少ない2国になると予想される。

イ 6国のうち、1990年における65歳以上の人口の割合が最も高い国は、2030年においても、その割合が最も高くなると予想される。

ウ 6国のうち、2009年における平均寿命が最も高い国は、2020年における65歳以上の人口が約2500万人になると予想される。

エ 6国のうち、2009年における出生率が死亡率を上回る国は、2010年と2020年の人口を比べてみると、どの国も人口が増加すると予想される。

(2) 現在の日本の年金や介護について述べた文として誤っているものを、次のアからエまでのなかから一つ選んで、そのかな符号を書きなさい。

ア 公的年金には、国民年金のほかに、企業などの事業所に勤める人たちを対象とする厚生年金などがある。

イ 日本の公的年金の財源は、すべて税金でまかなわれているので、税収の少ない近年は、財源の確保が難しくなっている。

ウ 40歳以上の方が保険料を負担して、介護が必要になったときに介護サービスを受けられる介護保険制度が行われている。

エ 介護サービスには、施設サービスのほかに、ホームヘルパーなどを利用した在宅（居宅）サービスなどがある。

(3) 次の文は社会保障について述べたものである。文中の（ ）にあてはまる最も適切なことばを、漢字3字で書きなさい。

日本の社会保障制度は、社会権のうち、日本国憲法第25条に定められている「健康で文化的な最低限度の生活を営む権利」である（ ）の規定にもとづいて充実がはかられてきた。

(4) 次の a から d までの文は、日本の労働環境について述べたものである。正しい文の組み合わせとして最も適当なものを、下のアからカまでのなかから選んで、そのかな符号を書きなさい。

a 現行の労働基準法では、休憩時間を除く労働時間を1週間につき40時間以内にすることや、毎週少なくとも1回の休日を労働者にあたえなければならないことを定めている。

b 男女共同参画社会基本法に続いて、女性が働きやすい環境を整備するために、男女雇用機会均等法が制定された。

c 2000年以降、15歳から19歳にかけての若い世代の失業率は、全体の失業率よりも低い状態が続いている。

d 仕事とそれ以外の家庭生活や地域生活が調和したワーク・ライフ・バランスをめざしていくことが大切であるといわれている。

ア a, b

イ a, c

ウ a, d

エ b, c

オ b, d

カ c, d

6 次のⅠ，Ⅱ，Ⅲの文章は，政治参加について学習をした生徒が，興味をもったことをさらに調べてまとめたものである。あとの(1)から(3)までの問いに答えなさい。

Ⅰ

参政権には，私たちの代表を決めるための選挙権や被選挙権のほかに，憲法改正の国民投票，特別法の制定についての住民投票などがあります。また，国や地方公共団体^①に対して要望などをする請願権も，参政権の一つです。

Ⅱ

私たちが，政治について正しい判断をするためには，国や地方公共団体に関する情報を入手できる（②）が保障され，そのための情報公開のしくみが必要になります。また，新聞やテレビからの情報を，無批判に受け入れずに判断し，活用できる（③）が求められています。

Ⅲ

私たちの意見が政治にきちんと反映されるためには，普通選挙や平等選挙，秘密選挙などの原則のもと，選挙^④が正しく公平に行われ，代表者にふさわしい候補者に投票する必要があります。また，何より私たちが政治に関心を持ち，自らの意志で投票することが求められます。

(1) 地方公共団体について述べた次の文章中の（ ）にあてはまる最も適切なことばを，漢字^①2字で書きなさい。なお，文章中の2か所の（ ）には，同じことばがあてはまる。

地方議会は，その地方公共団体だけに適用される（ ）を制定することができる。日本国憲法では，「地方公共団体は，その財産を管理し，事務を処理し，及び行政を執行する権能を有し，法律の範囲内で（ ）を制定することができる。」(第94条)と規定されている。

(2) Ⅱの文章中の（②），（③）にあてはまることばの組み合わせとして最も適切なものを，次のアからエまでの中から選んで，そのかな符号を書きなさい。

- | | | |
|---|--------------|-----------------|
| ア | ② 知る権利， | ③ メディア・リテラシー |
| イ | ② 知る権利， | ③ インフォームド・コンセント |
| ウ | ② プライバシーの権利， | ③ メディア・リテラシー |
| エ | ② プライバシーの権利， | ③ インフォームド・コンセント |

(3) 国会議員の選挙^④について述べた文として最も適切なものを，次のアからエまでの中から選んで，そのかな符号を書きなさい。

- ア 衆議院議員選挙では，2年ごとに全体の半数ずつの議員が改選される。
- イ 衆議院議員選挙では，小選挙区制と比例代表制を組み合わせた選挙が実施される。
- ウ 参議院議員選挙では，任期である6年ごとにすべての議員が改選される。
- エ 参議院議員選挙では，選挙区制より比例代表制によって選出される議員の方が多い。

(問題はこれで終わりです。)

解答用紙
第3時限

全日制課程 A
社 会

1	(1)		(2)		※1 []
	(3)				

2	(1)		(2)		※2 []
	(3)		(4)	2 番目 4 番目	

3	(1)		(2)		※3 []
	(3)	<p style="text-align: center;">岩手県 (その他)</p>			
	(4)	県			

4	(1)	位置	名称	※4 []
	(2)			

5	(1)		(2)		※5 []
	(3)		(4)		

6	(1)		(2)		※6 []
	(3)				

学科名	科	受検番号	第	番	得点	※
-----	---	------	---	---	----	---

(注) ※印欄には何も書かないこと。



1	(1)	エ	(2)	ア
	(3)	秦		

2	(1)	ウ	(2)	班田収授
	(3)	オ	(4)	2番目 A 4番目 F

3	(1)	ウ	(2)	イ
	(3)	<p>岩手県</p> <p>青森県 長野県 (その他)</p> <p>0 10 20 30 40 50 60 70 80 90 100 (%)</p>		
	(4)	秋田 (県)		

4	(1)	位置 d	名称 温帯
	(2)	オ	

5	(1)	エ	(2)	イ
	(3)	生存権	(4)	ウ

6	(1)	条、例	(2)	ア
	(3)	イ		